

УТВЕРЖДАЮ
Декан факультета

_____ Шматко А.Д.

« ____ » _____ 20__

РАБОЧАЯ ПРОГРАММА ДИСЦИПЛИНЫ ИНЖЕНЕРНАЯ И КОМПЬЮТЕРНАЯ ГРАФИКА

Направление/специальность подготовки	12.03.05 Лазерная техника и лазерные технологии
Специализация/профиль/программа подготовки	Лазерная техника и лазерные технологии
Уровень высшего образования	Бакалавриат
Форма обучения	Очная
Факультет	И Информационные и управляющие системы
Выпускающая кафедра	И1 ЛАЗЕРНАЯ ТЕХНИКА
Кафедра-разработчик рабочей программы	БЗ Инженерная графика

КУРС	СЕМЕСТР	ОБЩАЯ ТРУДОЁМКОСТЬ (ЗАЧЕТНЫХ ЕДИНИЦ)	ЧАСЫ (по наличию видов занятий)									ВИД ПРОМЕЖУТОЧНОГО КОНТРОЛЯ
			ОБЩАЯ ТРУДОЁМКОСТЬ	АУДИТОРНЫЕ ЗАНЯТИЯ				САМОСТОЯТЕЛЬНАЯ РАБОТА				
				ВСЕГО	ЛЕКЦИИ	ЛАБОРАТОРНЫЙ ПРАКТИКУМ	ПРАКТИЧЕСКИЕ ЗАНЯТИЯ	ВСЕГО	КУРСОВОЙ ПРОЕКТ	КУРСОВАЯ РАБОТА	ДРУГИЕ ВИДЫ САМОСТ. РАБОТЫ	
1	1	3	108	34	0	0	34	74	0	0	74	зач.
1	2	3	108	34	0	0	34	74	0	0	74	диф. зач.
ВСЕГО		6	216	68	0	0	68	148	0	0	148	

ЛИСТ СОГЛАСОВАНИЯ

РАБОЧАЯ ПРОГРАММА СОСТАВЛЕНА В СООТВЕТСТВИИ С ТРЕБОВАНИЯМИ ФЕДЕРАЛЬНОГО
ГОСУДАРСТВЕННОГО ОБРАЗОВАТЕЛЬНОГО СТАНДАРТА ВЫСШЕГО ОБРАЗОВАНИЯ (ФГОС ВО)

12.03.05 Лазерная техника и лазерные технологии

год набора группы: 2026

Программу составил:

Кафедра Б3 Инженерная графика
Яворская Наталья Михайловна, старший преподаватель

Программа рассмотрена
на заседании кафедры-разработчика
рабочей программы **Б3 Инженерная графика**

Заведующий кафедрой Ракитская М.В., к.т.н., доц.

Программа рассмотрена
на заседании выпускающей кафедры

И1 ЛАЗЕРНАЯ ТЕХНИКА

Заведующий кафедрой Борейшо А.С., д.т.н., проф.

РАБОЧАЯ ПРОГРАММА ДИСЦИПЛИНЫ ИНЖЕНЕРНАЯ И КОМПЬЮТЕРНАЯ ГРАФИКА

Разделы рабочей программы

1. ЦЕЛИ ОСВОЕНИЯ ДИСЦИПЛИНЫ
2. МЕСТО ДИСЦИПЛИНЫ В СТРУКТУРЕ ООП ВО
3. СТРУКТУРА И СОДЕРЖАНИЕ ДИСЦИПЛИНЫ
4. ФОРМЫ КОНТРОЛЯ ОСВОЕНИЯ ДИСЦИПЛИНЫ
5. УЧЕБНО-МЕТОДИЧЕСКОЕ И ИНФОРМАЦИОННОЕ ОБЕСПЕЧЕНИЕ ДИСЦИПЛИНЫ
6. МАТЕРИАЛЬНО-ТЕХНИЧЕСКОЕ ОБЕСПЕЧЕНИЕ ДИСЦИПЛИНЫ

Приложения к рабочей программе дисциплины

- Приложение 1. Аннотация рабочей программы
- Приложение 2. Технологии и формы обучения
- Приложение 3. Фонды оценочных средств

1. ЦЕЛИ ОСВОЕНИЯ ДИСЦИПЛИНЫ

Целью освоения дисциплины является формирование следующих компетенций:

ОПК-5 — Способен участвовать в разработке текстовой, проектной и конструкторской документации в соответствии с нормативными требованиями

ПК-1.2 — Способен к участию в разработке технических требований и заданий на проектирование типовых систем, приборов, узлов и деталей лазерной техники, лазерных оптико-электронных приборов и систем

Формированию компетенций служит достижение следующих результатов образования:

ОПК-5

знания:

формировать электронную модель изделий и чертёжно-конструкторскую документацию с использованием графического пакета Компас;

умения:

практические: выполнять электронные модели рабочие и сборочные чертежи с использованием программных средств «Компас». способностью к анализу предлагаемой конструкции, принципа ее действия, особенностям выполнения чертежей деталей для последующего их соединения;

навыки:

способностью применять современные программные средства выполнения и редактирования изображений, чертежей и подготовки конструкторско-технологической документации.

ПК-1.2

знания:

Знать ГОСТы по оформлению чертежей и чертежной документации;

умения:

Формировать 3D модель, создавать ассоциативный чертеж, выпускать техническую документацию с использованием стандартов, норм и правил;

навыки:

Владеть программным пакетом Компас.

2. МЕСТО ДИСЦИПЛИНЫ В СТРУКТУРЕ ООП ВО

Дисциплина **ИНЖЕНЕРНАЯ И КОМПЬЮТЕРНАЯ ГРАФИКА** является дисциплиной **обязательной части блока 1** программы подготовки по направлению *12.03.05 Лазерная техника и лазерные технологии*.

Содержание дисциплины является логическим продолжением содержания школьных курсов и служит основой для освоения дисциплин: **МЕТРОЛОГИЯ, СТАНДАРТИЗАЦИЯ И УПРАВЛЕНИЕ КАЧЕСТВОМ**

Требования к уровню подготовки обучающихся и предварительные компетенции определены Федеральным государственным образовательным стандартом среднего общего образования.

3. СТРУКТУРА И СОДЕРЖАНИЕ ДИСЦИПЛИНЫ

Общая трудоемкость дисциплины составляет 6 з.е., 216 ч.

3.1. Содержание (дидактика) дисциплины

КУРС	СЕМЕСТР	Наименование разделов и дидактических единиц	ВСЕГО	Аудиторные занятия в контактной форме		Самостоятельная работа студентов	Формируемая компетенция, %	
				ВСЕГО	Практические занятия		ОПК-5	ПК-12
1	1	Раздел 1. Раздел 1. Элементы начертательной геометрии. Метод проекций. Точка на комплексном чертеже. Прямая. Плоскость. Построение точки в плоскости. Пересечение плоскостей. Пересечение прямой с плоскостью. Перпендикулярность прямой и плоскости. Параллельность прямой и плоскости. Способы преобразования чертежа. Замена плоскостей проекций. Поверхности: коническая, цилиндрическая, поверхность вращения (сфера, конус, тор), поверхности Каталана. Точка на поверхности.	38	8	8	30	10	10
1	1	Раздел 2. Раздел 2. ГОСТы ЕСКД 300-серии. Общие правила оформления чертежей. Выбор главного изображения и его расположение на чертеже. Выбор количества изображений, масштаба, формата. Основные правила нанесения размеров с учетом технологии изготовления. Стандартные элементы. Проточки для выхода шлифовального круга. Шпоночные соединения. Посадочные места под подшипники.	34	12	12	22	10	10
1	1	Раздел 3. Раздел 3. Обозначение на чертежах параметров шероховатости поверхности. Резьбы. Изображение и обозначение. Резьбовые проточки.	36	14	14	22	15	15
Всего за 1 семестр			108	34	34	74	35	35
1	2	Раздел 4. Раздел 4. Разъемные соединения. Болтовое, шпилечное, винтовое. Сборочный чертеж. Правила оформления спецификации.	32	8	8	24	25	25
1	2	Раздел 5. Раздел 5. Чертеж общего вида. Детализирование. Трёхмерная электронная модель изделия.	76	26	26	50	40	40
Всего за 2 семестр			108	34	34	74	65	65
Всего по дисциплине			216	68	68	148	100	100

3.2. Аудиторный практикум

№ п/п	Номер и наименование раздела дисциплины	Тема практического занятия	Объем, ауд. часов
1	Раздел 1. Раздел 1. Элементы начертательной геометрии.	Метод проекций. Точка на комплексном чертеже. Прямая. Плоскость. Построение точки в плоскости. Пересечение плоскостей. Пересечение прямой с плоскостью. Перпендикулярность прямой и плоскости. Параллельность прямой и плоскости. Способы преобразования чертежа. Замена плоскостей проекций. Поверхности: коническая, цилиндрическая, поверхность вращения (сфера, конус, тор), поверхности Каталана. Точка на поверхности.	8
2	Раздел 2. Раздел 2. ГОСТы ЕСКД 300-серии. Общие правила оформления чертежей.	Домашнее задание 1 (Д31). Проекционное черчение. Тестирование по стандартам ЕСКД	12
3	Раздел 3. Раздел 3. Обозначение на чертежах параметров шероховатости поверхности. Резьбы.	Д32. Особенности выполнения чертежей деталей с резьбой, чертежи валов и осей. Выполнение в аудитории чертежа простой детали.	14
Всего за 1 семестр			34
4	Раздел 4. Раздел 4. Разъемные соединения.	Д33. Особенности выполнения сборочных чертежей деталей с использованием болтового, винтового и шпилечного соединения.	8
5	Раздел 5. Раздел 5. Чертеж общего вида.	Д32. Создание эскизов четырех деталей и их трёхмерных моделей. Тестирование по стандартам ЕСКД и компьютерной графике.	26
Всего за 2 семестр			34

3.3. Самостоятельная работа студента (СРС)

№ п/п	Номер и наименование раздела дисциплины	Содержание учебного задания	Объем, часов
1	Раздел 1. Раздел 1. Элементы начертательной геометрии.	Выполнение нескольких задач по темам: точка, прямая, плоскость, поверхность.	30
2	Раздел 2. Раздел 2. ГОСТы ЕСКД 300-серии. Общие правила оформления чертежей.	1. Изучения стандартов ЕСКД и стандартов на изделия и их стандартные элементы в соответствии с номенклатурой, по материалам лекций-объяснений и учебно-методическим пособиям 2. Выполнение Д31. Проекционное черчение	22
3	Раздел 3. Раздел 3. Обозначение на чертежах параметров шероховатости поверхности. Резьбы.	1. Выполнение Д32. Особенности выполнения чертежей деталей с резьбой, чертежи валов и осей.	22
Всего за 1 семестр			74
4	Раздел 4. Раздел 4. Разъемные соединения.	Выполнение Д33. Выполнение болтового, шпилечного, винтового чертежей деталей с резьбой, вала	24
5	Раздел 5. Раздел 5. Чертеж общего вида.	1. Выполнение Д32. Работа с пакетом «Компас 3D». Доработка чертежей в домашних условиях или в аудитории для самостоятельной работы, или в компьютерном классе в соответствии с расписанием.	50
Всего за 2 семестр			74

4. ФОРМЫ КОНТРОЛЯ ОСВОЕНИЯ ДИСЦИПЛИНЫ

СЕМЕСТР	НЕДЕЛИ СЕМЕСТРА																
	1	2	3	4	5	6	7	8	9	10	11	12	13	14	15	16	17
1					ВПЗ	ДР	ДЗ	Контр.Р., ДЗ		ДР	ДЗ			ДЗ	Тест, ДЗ, Контр.Р.	ДР	ДЗ, зач.
2						ДР				ДР						ДР	диф. зач.

Условные обозначения:

- ДР – диагностическая работа;
- ВПЗ – вопросы/задания по темам ПЗ;
- ДЗ – домашнее задание;
- Контр.Р. – контрольная работа;
- Тест – тест;
- зач. – зачет;
- диф. зач. – дифференцированный зачет.

Текущий контроль успеваемости студентов проводится в дискретные временные интервалы в следующих формах:

- диагностическая работа;
- вопросы/задания по темам ПЗ;
- домашнее задание;
- контрольная работа;
- тест.

Промежуточная аттестация проводится в формах:

- зачет;
- дифференцированный зачет.

5. УЧЕБНО-МЕТОДИЧЕСКОЕ И ИНФОРМАЦИОННОЕ ОБЕСПЕЧЕНИЕ ДИСЦИПЛИНЫ

5.1. Основная литература по дисциплине:

1. Д. Е. Тихонов-Бутров, В. В. Шкварцов, К. О. Глазунов. . Основы проекционной технической графики. СПб.БГТУ "ВОЕНМЕХ" им. Д. Ф. Устинова, 2017, 315 экз.
2. С. Н. Абросимов. . Основы машинной графики САПР изделий машиностроения. СПб.БГТУ "ВОЕНМЕХ" им. Д. Ф. Устинова, 2002, эл. рес.
3. С. Н. Абросимов, В. А. Дюмин, М. В. Ракитская. . Введение в инженерную графику. СПб.БГТУ "ВОЕНМЕХ" им. Д. Ф. Устинова, 2008, эл. рес.

5.2. Дополнительная литература по дисциплине:

не требуется.

5.3. Периодические издания:

1. Геометрия и графика.

5.4. Перечень ресурсов информационно-телекоммуникационной сети "Интернет", необходимых для освоения дисциплины, электронные библиотечные системы:

1. <https://ibooks.ru/> — ЭБС Айбукс.ру - это большой выбор актуальной литературы для вашей библиотеки в электронном виде.

Современные профессиональные базы данных:

1. <https://rusneb.ru> – Национальная электронная библиотека (НЭБ);
2. <https://cyberleninka.ru/> - Научная электронная библиотека «Киберленинка»;
- <http://www.rfbr.ru/rffi/ru/library> - Полнотекстовая электронная библиотека Российского фонда фундаментальных исследований.

Информационные справочные системы:

1. Техэксперт – Информационный портал технического регулирования: Нормы, правила, стандарты РФ;
2. http://library.voenmeh.ru/jirbis2/index.php?option=com_irbis&view=irbis&Itemid=457 - БД ГОСТов собственной генерации БГТУ "ВОЕНМЕХ" им. Д. Ф. Устинова;
3. <http://www.consultant.ru/> - КонсультантПлюс- информационный портал правовой информации.

5.5. Программное обеспечение:

1. КОМПАС-3D V17.

5.6. Информационные технологии:

взаимодействие с обучающимися посредством ЭИОС Moodle БГТУ «ВОЕНМЕХ» им. Д.Ф. Устинова.

6. МАТЕРИАЛЬНО-ТЕХНИЧЕСКОЕ ОБЕСПЕЧЕНИЕ ДИСЦИПЛИНЫ

6.1. Практические занятия:

1. Аудитория с числом посадочных мест не меньше количества обучающихся;
2. КОМПАС-3D V17.

6.2. Прочее:

1. рабочее место преподавателя, оснащенное компьютером с доступом в Интернет;
2. рабочие места студентов, оснащенные компьютерами с доступом в Интернет, предназначенные для работы в электронной образовательной среде.

Аннотация рабочей программы

Дисциплина **ИНЖЕНЕРНАЯ И КОМПЬЮТЕРНАЯ ГРАФИКА** является дисциплиной **обязательной части блока 1** программы подготовки по направлению *12.03.05 Лазерная техника и лазерные технологии*. Дисциплина реализуется на факультете *Б* Базовое инженерное образование БГТУ "ВОЕНМЕХ" им. Д.Ф. Устинова кафедрой БЗ Инженерная графика.

Дисциплина нацелена на формирование *компетенций*:

ОПК-5 Способен участвовать в разработке текстовой, проектной и конструкторской документации в соответствии с нормативными требованиями;

ПК-1.2 Способен к участию в разработке технических требований и заданий на проектирование типовых систем, приборов, узлов и деталей лазерной техники, лазерных оптико-электронных приборов и систем.

Содержание дисциплины охватывает круг вопросов, связанных с изучением и освоением методов и средств создания графической информации.

Программой дисциплины предусмотрены следующие **виды контроля**:

Текущий контроль успеваемости студентов проводится в дискретные временные интервалы в следующих формах:

- диагностическая работа;
- вопросы/задания по темам ПЗ;
- домашнее задание;
- контрольная работа;
- тест.

Промежуточная аттестация проводится в формах:

- зачет;
- дифференцированный зачет.

Общая трудоемкость освоения дисциплины составляет **6 з.е., 216 ч.** Программой дисциплины предусмотрены практические занятия (**68 ч.**), самостоятельная работа студента (**148 ч.**).

ТЕХНОЛОГИИ И ФОРМЫ ОБУЧЕНИЯ

Рекомендации по освоению дисциплины для студента

Трудоемкость освоения дисциплины составляет 216 ч., из них 68 ч. аудиторных занятий, и 148 ч., отведенных на самостоятельную работу студента.

Рекомендации по распределению учебного времени по видам самостоятельной работы и разделам дисциплины приведены в таблице.

Контроль освоения дисциплины производится в соответствии с Положением о текущем, рубежном контроле успеваемости и промежуточной аттестации обучающихся.

Формы контроля и критерии оценивания приведены в приложении 3 к Рабочей программе.

Наименование работы	Рекомендуемая литература	Трудоемкость, час.
Раздел 1. Раздел 1. Элементы начертательной геометрии.		
Выполнение нескольких задач по темам: точка, прямая, плоскость, поверхности.	Д. Е. Тихонов-Бугров, В. В. Шкварцов, К. О. Глазунов. . Основы проекционной технической графики: СПб.БГТУ "ВОЕНМЕХ" им. Д. Ф. Устинова, 2017 (1)	30
Итого по разделу 1		30
Раздел 2. Раздел 2. ГОСТы ЕСКД 300-серии. Общие правила оформления чертежей.		
1. Изучения стандартов ЕСКД и стандартов на изделия и их стандартные элементы в соответствии с номенклатурой, по материалам лекций-объяснений и учебно-методическим пособиям 2. Выполнение Д31. Проекционное черчение	С. Н. Абросимов, В. А. Дюмин, М. В. Ракитская. . Введение в инженерную графику: СПб.БГТУ "ВОЕНМЕХ" им. Д. Ф. Устинова, 2008 (2)	22
Итого по разделу 2		22
Раздел 3. Раздел 3. Обозначение на чертежах параметров шероховатости поверхности. Резьбы.		
1. Выполнение Д32. Особенности выполнения чертежей деталей с резьбой, чертежи валов и осей.	С. Н. Абросимов, В. А. Дюмин, М. В. Ракитская. . Введение в инженерную графику: СПб.БГТУ "ВОЕНМЕХ" им. Д. Ф. Устинова, 2008 (2)	22
Итого по разделу 3		22
Раздел 4. Раздел 4. Разъемные соединения.		
Выполнение Д33. Выполнение болтового, шпилечного, винтового чертежей деталей с резьбой, вала	Д. Е. Тихонов-Бугров, В. В. Шкварцов, К. О. Глазунов. . Основы проекционной технической графики: СПб.БГТУ "ВОЕНМЕХ" им. Д. Ф. Устинова, 2017 (3)	24
Итого по разделу 4		24
Раздел 5. Раздел 5. Чертеж общего вида.		
1. Выполнение Д32. Работа с пакетом «Компас 3D». Доработка чертежей в домашних условиях или в аудитории для самостоятельной работы, или в компьютерном классе в соответствии с расписанием.	С. Н. Абросимов. . Основы машинной графики САПР изделий машиностроения: СПб.БГТУ "ВОЕНМЕХ" им. Д. Ф. Устинова, 2002 (4)	50
Итого по разделу 5		50

ФОНД ОЦЕНОЧНЫХ СРЕДСТВ

Фонд оценочных средств, позволяющие оценить результаты обучения по данной дисциплине, включают в себя:

- диагностическая работа
- вопросы/задания по темам ПЗ;
- домашнее задание;
- тест;
- контрольная работа;
- зачет;
- дифференцированный зачет.

Критерии оценивания

Диагностическая работа

Диагностическая работа проводится в форме теста в ЭИОС Moodle:

- при правильном ответе менее чем на 60% вопросов - не аттестация;
- при правильном ответе на 60% вопросов и более - аттестация.

Вопросы/задания по темам ПЗ

Вопросы находятся в ЭИОС Moodle курса "Инженерная и компьютерная графика"

Домашнее задание

- Не более двух ошибок, не влияющих на определение смыслового содержания данного чертежа – оценка 4,
- Правильность оформления – оценка на 1 балл выше
- Основаниями для снижения оценки являются:
- невыполнение требований стандартов ЕСКД таких как: выбор типов линий, шрифтов, значений шероховатостей, выбор масштаба, обозначения резьбы и т.д.

Тест

Электронное тестирование засчитывается, если студент получает оценку «зачтено» по всем темам (75% правильных ответов в теме).

Тест содержит 30 вопросов.

Контрольная работа

Контрольная работа засчитывается на «5»:

Форма детали прочитана правильно (если контрольная выполняется по чертежу вида общего).

Правильно выбрано количество необходимых для понимания формы детали изображений

Изображения располагаются в проекционной связи, или соответствующим образом обозначены.

Изображения дополнены необходимыми разрезами.

Правильно выполнены выносные элементы

Правильно обозначена резьба.

Допущено минимальное количество ошибок в простановке размеров (не больше 3).

Чертеж дополнен знаками шероховатости поверхности, на соответствующих поверхностях с правильным их указанием.

Контрольная работа засчитывается на «4», если в критериях оценивания контрольной на «5», изложенных выше, допущены ошибки, но их количество минимально (5 ошибок).

Контрольная работа засчитывается на «3», если в критериях оценивания контрольной на «5», изложенных выше, допущены много ошибок (не более 8 ошибок), но форма детали в целом передана.

Зачет (семестр 1)

Зачет ставится при условии сдачи всех домашних заданий и контрольных работ и защиты рабочей тетради и если студент набирает более 61 балла (10 баллов мах при посещении всех занятий, 3 диагностические работы 30 баллов мах и выполнение всех дз и заданий в рабочей тетради - мах 60 баллов)

Дифференцированный зачет (семестр 2)

Дифференцированный зачет ставится при условии сдачи всех домашних заданий и контрольных работ. Устного зачета не проводится.

Если студент набирает более 51 балла до 74 баллов (посещаемость всех занятий 10 баллов, 3 диагностические работы 30 баллов мах и выполнение всех дз мах 60 баллов) оценка "удовлетворительно"

Если студент набирает более 75 баллов до 85 баллов оценка "хорошо".

Если студент набирает более 86 баллов оценка "отлично".

КУРС	СЕМЕСТР	Наименование разделов и дидактических единиц	ВСЕГО	Аудиторные занятия в контактной форме		Самостоятельная работа студентов	Формируемая компетенция, %		НАИМЕНОВАНИЕ ОЦЕНОЧНОГО СРЕДСТВА
				ВСЕГО	Практические занятия		ОПК-5	ПК-1.2	
1	1	Раздел 1. Раздел 1. Элементы начертательной геометрии.	38	8	8	30	10	10	Домашнее задание, Контрольная работа, Тест, Вопросы/ задания по темам ПЗ
1	1	Раздел 2. Раздел 2. ГОСТы ЕСКД 300-серии. Общие правила оформления чертежей.	34	12	12	22	10	10	Вопросы/ задания по темам ПЗ
1	1	Раздел 3. Раздел 3. Обозначение на чертежах параметров шероховатости поверхности. Резьбы.	36	14	14	22	15	15	Вопросы/ задания по темам ПЗ, Домашнее задание
Всего за 1 семестр			108	34	34	74	35	35	
1	2	Раздел 4. Раздел 4. Разъемные соединения.	32	8	8	24	25	25	Контрольная работа
1	2	Раздел 5. Раздел 5.Чертёж общего вида.	76	26	26	50	40	40	Тест, Контрольная работа
Всего за 2 семестр			108	34	34	74	65	65	
Всего по дисциплине			216	68	68	148	100	100	

ОПК-5 - Способен участвовать в разработке текстовой, проектной и конструкторской документации в соответствии с нормативными требованиями

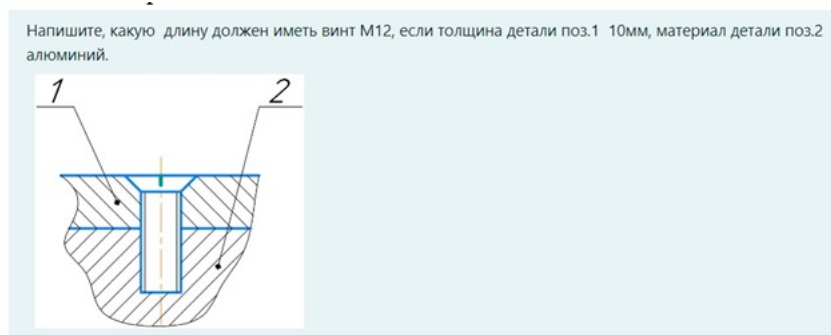
- № 1 Прочитайте текст и запишите развернутый обоснованный ответ
Расшифруйте обозначение:

M20xRh3P1-LH

- № 2 Прочитайте текст, выберите правильные ответы и запишите аргументы, обосновывающие выбор ответов
В каких резьбах в условном обозначении резьбы присутствует наружный диаметр резьбы. Возможно несколько вариантов ответа:

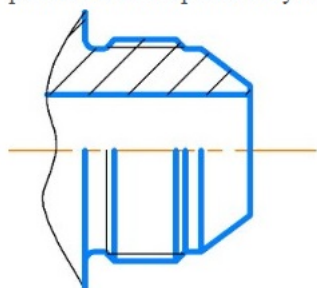
- 1.Трубная цилиндрическая
- 2.Метрическая
- 3.Упорная
- 4.Трапецеидальная

- № 3 Прочитайте текст и запишите развернутый обоснованный ответ



- № 4 Прочитайте текст и установите соответствие

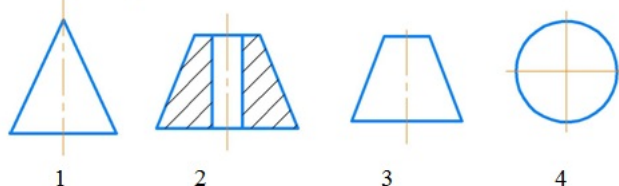
- При простановке размеров конструктор разделяет контур детали на соответствующие элементарные поверхности. Определите число различных поверхностей у этого элемента детали?



конические поверхности	1
торовые поверхности	2
цилиндрические поверхности	3
	4

- № 5 Прочитайте текст и установите последовательность

установите эти поверхности вращения, в порядке возрастания их параметров.



- № 6 Прочитайте текст и установите последовательность

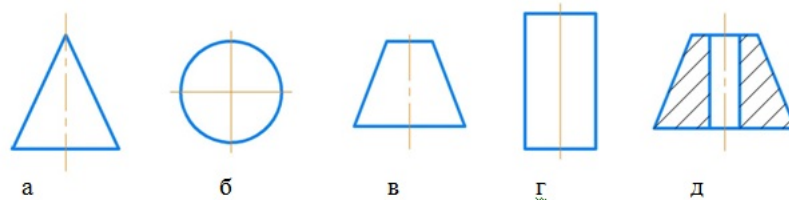
Установите, в какой последовательности записывается обозначение метрической, упорной, трапецеидальной резьбы:

- 1.условное обозначения типа резьбы
2. шаг резьбы

3. наружный диаметр резьбы
4. ход резьбы
5. левая резьба

№ 7 Прочитайте текст и установите соответствие

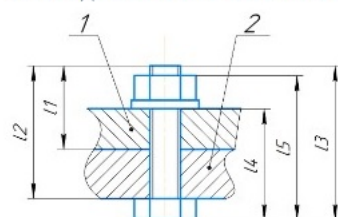
Установите соответствие заданной поверхности вращения тому количеству размеров, которые необходимо поставить для ее задания.



а б в г д
 Ответы: 1, 2, 3, 4, 5, 6

№ 8 Прочитайте текст, выберите правильный ответ и запишите аргументы, обосновывающие выбор ответа

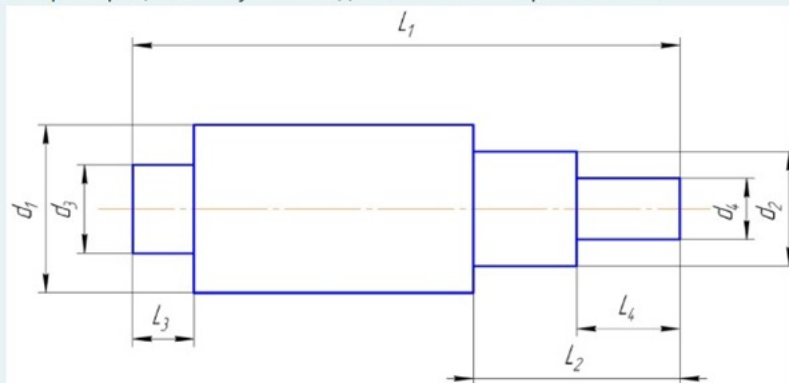
Какая длина болта записывается в спецификацию?



l_1, l_2, l_3, l_4, l_5

№ 9 Прочитайте текст, выберите правильный ответ и запишите аргументы, обосновывающие выбор ответа

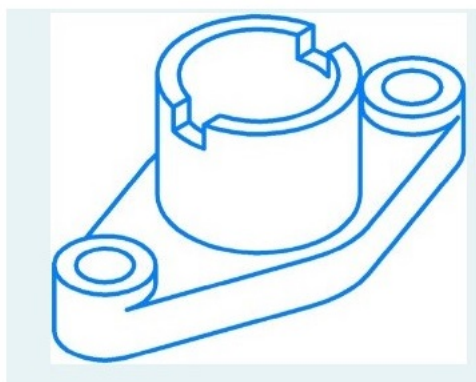
Выберите рациональную последовательность обработки вала:



1. d_2 на L_2 ; d_1 на L_1 ; d_4 на L_4 ; d_3 на L_3 ;
2. d_4 на L_4 ; d_1 на L_1 ; d_3 на L_3 ; d_2 на L_2 ;
3. d_3 на L_3 ; d_1 на L_1 ; d_2 на L_2 ; d_4 на L_4 ;
4. d_1 на L_1 ; d_2 на L_2 ; d_4 на L_4 ; d_3 на L_3 ;

№ 10 Прочитайте текст, выберите правильный ответ и запишите аргументы, обосновывающие выбор ответа

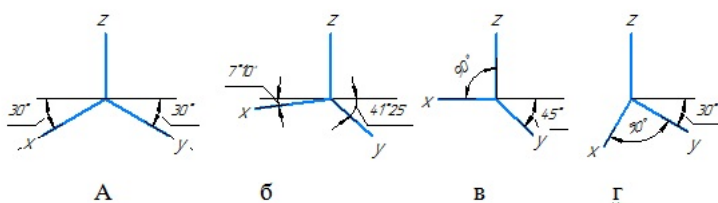
Сколько изображений необходимо сделать для чертежа данной детали. Обоснуйте.



Ответы: 1, 2, 3, 4

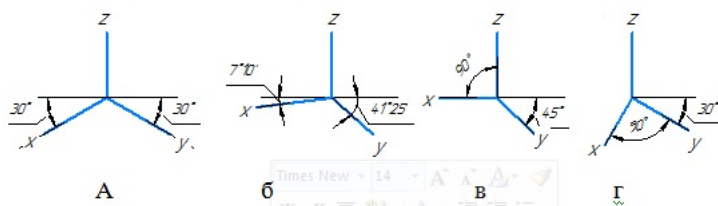
№ 11 Прочитайте текст, выберите правильные ответы и запишите аргументы, обосновывающие выбор ответов

Оси стандартной косоугольной проекции показаны на рисунке ...



№ 12 Прочитайте текст, выберите правильные ответы и запишите аргументы, обосновывающие выбор ответов

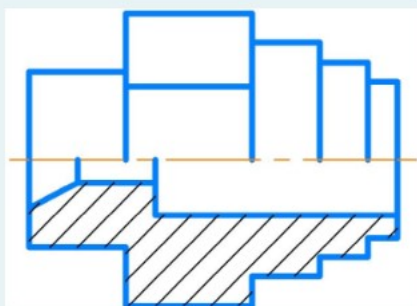
Оси стандартной прямоугольной проекции показаны на рисунке ...



ПК-1.2 - Способен к участию в разработке технических требований и заданий на проектирование типовых систем, приборов, узлов и деталей лазерной техники, лазерных оптико-электронных приборов и систем

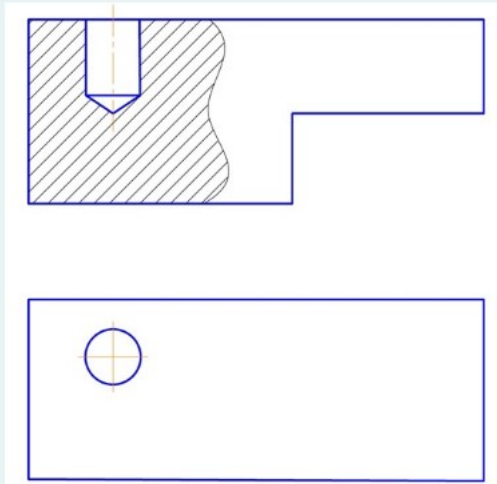
№ 1 Прочитайте текст и запишите развернутый обоснованный ответ

Какое минимальное количество операций надо использовать для создания 3D модели данной детали?



№ 2 Прочитайте текст и запишите развернутый обоснованный ответ

Сколько размеров формы необходимо нанести на чертеже данной детали?



№ 3 Прочитайте текст и установите соответствие
Сопоставьте определения:

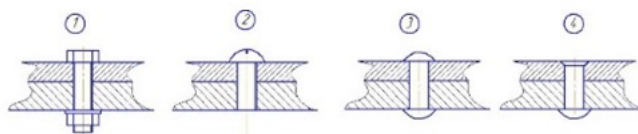
Вид	А -Дополнительное изображение (обычно увеличенное) какой-либо части предмета, содержащее подробности, не указанные на основном изображении.
Разрез	Б- Изображение предмета, полученное при мысленном рассечении предмета плоскостью, Изображают только то, что расположено в секущей плоскости.
Сечение	В- Изображение предмета, мысленно рассеченного одной или несколькими плоскостями. Показывается то, что расположено в секущей плоскости и за ней.
	Г- Изображение видимой, обращенной к наблюдателю части предмета.

№ 4 Прочитайте текст, выберите правильный ответ и запишите аргументы, обосновывающие выбор ответа
Пояснительная записка по ГОСТ 2.106-2019 в общем случае должна состоять из следующих разделов:

1. Введение
2. Наименование и область применения проектируемого изделия
3. Техническая характеристика
4. Описание и обоснование выбранной конструкции с указанием, какие части заимствованы из ранее разработанных изделий
5. Расчеты, подтверждающие работоспособность и надежность конструкции
6. Описание организации работ с применением разрабатываемого изделия
7. Ожидаемые технико-экономические показатели.

В зависимости от особенностей изделия отдельные разделы допускается объединять или исключать, кроме раздела ... (укажите цифру, под которой указан данный раздел).

№ 5 Прочитайте текст, выберите правильный ответ и запишите аргументы, обосновывающие выбор ответа



Где правильно показано соединение с помощью винта

№ 6 Прочитайте текст, выберите правильные ответы и запишите аргументы, обосновывающие выбор ответов
Укажите, какие стандартные изделия с резьбой. Возможно несколько вариантов ответа.

1. Болт
2. Шпонка
3. Шпилька
4. Штифт

№ 7 Прочитайте текст, выберите правильные ответы и запишите аргументы, обосновывающие выбор ответов

Какие резьбы относятся к ходовым. Возможно несколько вариантов ответа:

- 1.Трубная цилиндрическая
- 2.Метрическая
- 3.Упорная
- 4.Трапецеидальная

№ 8 Прочитайте текст, выберите правильные ответы и запишите аргументы, обосновывающие выбор ответов
Какие резьбы относятся к резьбам со стандартным профилем. Возможно несколько вариантов ответа:

- 1.Трубная цилиндрическая
- 2.Метрическая
- 3.Трубная коническая
4. Прямоугольная

№ 9 Прочитайте текст и установите соответствие
На соответствие:

	А. изделие, составные части которого соединяют между собой на предприятии-изготовителе сборочными операциями (пайка, сварка и т.п.).
	Б. изделие, изготовленное из однородного по наименованию и марке материала без применения сборочных операций.
1.Деталь -	В. два или более изделия, не соединяемые на предприятии сборочными операциями, но представляющие собой набор изделий,
2.Сборочная единица	имеющих общее назначение вспомогательного характера (комплект инструмента для автомашины).
3.Комплекс	Г. два или более специфицированных изделия, не соединяемые
4.Комплект	на предприятии-изготовителе сборочными операциями, но предназначенных для выполнения взаимосвязанных эксплуатационных функций (поточная линия станков).
	Д. изделие, примененное по стандарту, полностью и однозначно определяющего его конструкцию, показатели качества, правила приемки и поставки

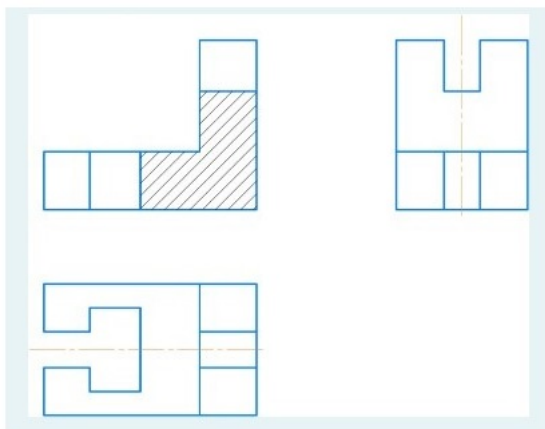
№ 10 Прочитайте текст и установите последовательность
Определите в какой последовательности записываются разделы в спецификацию по ГОСТ 2.106-2019:

1. Программные изделия и базы данных
2. Комплекты
3. Комплексы
4. Детали
5. Стандартные изделия
6. Прочие изделия
7. Документация
8. Материалы
9. Иные разделы (при необходимости)
10. Сборочные единицы

№ 11 Прочитайте текст и установите последовательность
Согласно ГОСТ 2.103-2013 процесс проектирования изделий разбивается на стадии, выполняемые в следующей последовательности:

1. Разработка проектной конструкторской документации (КД). Разработка технического проекта (разработка технического проекта, разработка и испытание материальных объектов и т.д.).
2. Разработка рабочей КД. Разработка КД опытного образца изделия.
3. Разработка проектной КД. Разработка технического предложения (изучение и анализ технического задания, подбор материалов, разработка технического предложения и т.д.).
4. Разработка рабочей КД. Разработка КД на изделие серийного (массового) производства.
5. Разработка проектной КД. Разработка эскизного проекта (разработка эскизного проекта, разработка и испытание материальных объектов и т.д.).

Сколько размеров надо указать на виде сверху:



Ответы: 2,4,6,7