

УТВЕРЖДАЮ  
Декан факультета

\_\_\_\_\_ Матвеев П.В.  
(подпись) ФИО  
«\_\_\_» \_\_\_\_\_ 20\_\_

## РАБОЧАЯ ПРОГРАММА ДИСЦИПЛИНЫ ИНЖЕНЕРНАЯ И КОМПЬЮТЕРНАЯ ГРАФИКА

Направление/специальность подготовки	27.03.02 Управление качеством
Специализация/профиль/программа подготовки	Управление качеством процессов и бизнес-аналитика
Уровень высшего образования	Бакалавриат
Форма обучения	Заочная
Факультет	Р Международного промышленного менеджмента и коммуникации
Выпускающая кафедра	Р1 МЕНЕДЖМЕНТ ОРГАНИЗАЦИИ
Кафедра-разработчик рабочей программы	ОЗ ИНЖЕНЕРНАЯ И МАШИННАЯ ГЕОМЕТРИЯ И ГРАФИКА

КУРС	СЕМЕСТР	ОБЩАЯ ТРУДОЁМКОСТЬ (ЗАЧЕТНЫХ ЕДИНИЦ)	ЧАСЫ (по наличию видов занятий)									ВИД ПРОМЕЖУТОЧНОГО КОНТРОЛЯ
			ОБЩАЯ ТРУДОЁМКОСТЬ	АУДИТОРНЫЕ ЗАНЯТИЯ				САМОСТОЯТЕЛЬНАЯ РАБОТА				
				ВСЕГО	ЛЕКЦИИ	ЛАБОРАТОРНЫЙ ПРАКТИКУМ	ПРАКТИЧЕСКИЕ ЗАНЯТИЯ	ВСЕГО	КУРСОВОЙ ПРОЕКТ	КУРСОВАЯ РАБОТА	ДРУГИЕ ВИДЫ САМОСТ. РАБОТЫ	
1	2	4	144	14	4	0	10	130	0	0	130	диф. зач.

ЛИСТ СОГЛАСОВАНИЯ

РАБОЧАЯ ПРОГРАММА СОСТАВЛЕНА В СООТВЕТСТВИИ С ТРЕБОВАНИЯМИ ФЕДЕРАЛЬНОГО  
ГОСУДАРСТВЕННОГО ОБРАЗОВАТЕЛЬНОГО СТАНДАРТА ВЫСШЕГО ОБРАЗОВАНИЯ (ФГОС ВО)

27.03.02 Управление качеством

год набора группы: 2025

Программу составил:

Кафедра ОЗ ИНЖЕНЕРНАЯ И МАШИННАЯ ГЕОМЕТРИЯ И ГРАФИКА  
Глазунов Константин Олегович, к.филос.н., доцент

\_\_\_\_\_

Программа рассмотрена  
на заседании кафедры-разработчика  
рабочей программы **ОЗ ИНЖЕНЕРНАЯ И МАШИННАЯ ГЕОМЕТРИЯ И ГРАФИКА**

Заведующий кафедрой Тихонов-Бугров Д.Е., к.т.н., доц.

\_\_\_\_\_

Программа рассмотрена  
на заседании выпускающей кафедры

**Р1 МЕНЕДЖМЕНТ ОРГАНИЗАЦИИ**

Заведующий кафедрой Шматко А.Д., д.э.н., проф.

\_\_\_\_\_

## **РАБОЧАЯ ПРОГРАММА ДИСЦИПЛИНЫ ИНЖЕНЕРНАЯ И КОМПЬЮТЕРНАЯ ГРАФИКА**

### **Разделы рабочей программы**

1. ЦЕЛИ ОСВОЕНИЯ ДИСЦИПЛИНЫ
2. МЕСТО ДИСЦИПЛИНЫ В СТРУКТУРЕ ООП ВО
3. СТРУКТУРА И СОДЕРЖАНИЕ ДИСЦИПЛИНЫ
4. ФОРМЫ КОНТРОЛЯ ОСВОЕНИЯ ДИСЦИПЛИНЫ
5. УЧЕБНО-МЕТОДИЧЕСКОЕ И ИНФОРМАЦИОННОЕ ОБЕСПЕЧЕНИЕ ДИСЦИПЛИНЫ
6. МАТЕРИАЛЬНО-ТЕХНИЧЕСКОЕ ОБЕСПЕЧЕНИЕ ДИСЦИПЛИНЫ

### **Приложения к рабочей программе дисциплины**

- Приложение 1. Аннотация рабочей программы
- Приложение 2. Технологии и формы обучения
- Приложение 3. Фонды оценочных средств

## 1. ЦЕЛИ ОСВОЕНИЯ ДИСЦИПЛИНЫ

Целью освоения дисциплины является формирование следующих компетенций:

ОПК-11 — Способен разрабатывать техническую документацию (в том числе и в электронном виде) в области управления качеством в условиях цифровой экономики с учетом действующих стандартов качества

ОПК-3 — Способен использовать фундаментальные знания для решения базовых задач управления качеством в технических системах с целью совершенствования в профессиональной деятельности

Формированию компетенций служит достижение следующих результатов образования:

### **ОПК-11**

*знания:*

формировать электронную модель изделий и чертёжно-конструкторскую документацию с использованием графического пакета Компас;

*умения;*

*умения:*

практические: выполнять электронные модели рабочие и сборочные чертежи с использованием программных средств «Компас». способностью к анализу предлагаемой конструкции, принципа ее действия, особенностям выполнений чертежей деталей для последующего их соединения;;

*навыки:*

способностью применять современные программные средства выполнения и редактирования изображений, чертежей и подготовки конструкторско-технологической документации;.

### **ОПК-3**

*знания:*

Знать ГОСТы по оформлению чертежей и чертежной документации;;

*умения:*

Формировать 3D модель, создавать ассоциативный чертеж, выпускать техническую документацию с использованием стандартов, норм и правил;;

*навыки:*

Владеть программным пакетом Компас;.

## 2. МЕСТО ДИСЦИПЛИНЫ В СТРУКТУРЕ ООП ВО

Дисциплина **ИНЖЕНЕРНАЯ И КОМПЬЮТЕРНАЯ ГРАФИКА** является дисциплиной **обязательной части блока 1** программы подготовки по направлению *27.03.02 Управление качеством*.

Содержание дисциплины является логическим продолжением дисциплин: **ВВЕДЕНИЕ В СПЕЦИАЛЬНОСТЬ**.

Содержание дисциплины является основой для освоения дисциплин: **МЕТРОЛОГИЯ И ОСНОВЫ ВЗАИМОЗАМЕЯЕМОСТИ**.

Предварительные компетенции, сформированные у обучающегося до начала изучения дисциплины:

- ОПК.Д-1 — Способен решать профессиональные задачи на основе знаний (на промежуточном уровне) экономической, организационной и управленческой теории
- УК-6 — Способен управлять своим временем, выстраивать и реализовывать траекторию саморазвития на основе принципов образования в течение всей жизни

### 3. СТРУКТУРА И СОДЕРЖАНИЕ ДИСЦИПЛИНЫ

Общая трудоемкость дисциплины составляет 4 з.е., 144 ч.

#### 3.1. Содержание (дидактика) дисциплины

КУРС	СЕМЕСТР	Наименование разделов и дидактических единиц	ВСЕГО	Аудиторные занятия в контактной форме			Самостоятельная работа студентов	Формируемая компетенция, %	
				ВСЕГО	Лекции	Практические занятия		ОПК-11	ОПК-3
1	2	Раздел 1. Элементы начертательной геометрии. Метод проекций. Точка на комплексном чертеже. Прямая. Плоскость. Построение точки в плоскости. Пересечение плоскостей. Пересечение прямой с плоскостью. Перпендикулярность прямой и плоскости. Параллельность прямой и плоскости. Способы преобразования чертежа. Замена плоскостей проекций. Поверхности: коническая, цилиндрическая, поверхность вращения (сфера, конус, тор), поверхности Каталана. Точка на поверхности.	28	6	2	4	22	10	10
1	2	Раздел 2. ГОСТы ЕСКД 300-серии. Общие правила оформления чертежей. Выбор главного изображения и его расположение на чертеже. Выбор количества изображений, масштаба, формата. Основные правила нанесения размеров с учетом технологии изготовления.	28	4	2	2	24	25	25
1	2	Раздел 3. Обозначение на чертежах параметров шероховатости поверхности. Резьбы. Изображение и обозначение резьбы. Стандартные элементы. Резьбовые проточки.	26	2	0	2	24	25	25
1	2	Раздел 4. Компьютерная графика. Создание модели детали в 3D с помощью пакета Компас. Создание чертежа из модели. Оформление чертежа.	62	2	0	2	60	40	40
Всего за 2 семестр			144	14	4	10	130	100	100
Всего по дисциплине			144	14	4	10	130	100	100

#### 3.2. Аудиторный практикум

№ п/п	Номер и наименование раздела дисциплины	Тема практического занятия	Объем, ауд. часов
1	Раздел 1. Элементы начертательной геометрии.	Решение задач. Ответы на вопросы студентов по лекции. Выдача Д31 «Домашнее задание по начертательной геометрии». Отрабатываемый вопрос – отработка подходов для решения домашнего задания по начертательной геометрии.	4
2	Раздел 2. ГОСТы ЕСКД 300-серии. Общие правила оформления чертежей.	Выбор главного изображения и его расположение на чертеже. Выбор количества изображений, масштаба, формата. Основные правила нанесения размеров с учетом технологии изготовления. Чертеж детали. Выдача Д32 «Разработка РКД по чертежу ВО» Деталь №1.	2
3	Раздел 3. Обозначение на чертежах параметров шероховатости поверхности. Резьбы.	Изображение и обозначение. Стандартные элементы. Резьбовые проточки. Выдача Д33 «Разработка РКД по чертежу ВО» Деталь №2.	2
4	Раздел 4. Компьютерная графика.	Создание модели детали в 3D с помощью пакета Компас. Создание чертежа из модели. Оформление чертежа.	2
Всего за 2 семестр			10

#### 3.3. Самостоятельная работа студента (СРС)

№ п/п	Номер и наименование раздела дисциплины	Содержание учебного задания	Объем, часов
1	Раздел 1. Элементы начертательной геометрии.	Метод проекций. Точка на комплексном чертеже. Прямая. Плоскость. Построение точки в плоскости. Пересечение плоскостей. Пересечение прямой с плоскостью. Перпендикулярность прямой и плоскости. Параллельность прямой и плоскости.	6
2		Способы преобразования чертежа. Замена плоскостей проекций. Поверхности: коническая, цилиндрическая, поверхность вращения (сфера, конус, тор), поверхности Каталана. Точка на поверхности.	6
3		Выполнение ДЗ №1	10
4	Раздел 2. ГОСТы ЕСКД 300-серии. Общие правила оформления чертежей.	Изучение ГОСТ 2.301-68, ГОСТ 2.302-68, ГОСТ 2.303-68, ГОСТ 2.304-84. Заполнение основной надписи. Изучение ГОСТ 2.317 – 68 Аксонометрия. Изучение ГОСТ 2.305-2008 Изображения: виды, разрезы, сечения. Изучение – ГОСТ 2.307- 68 Размеры.	24
5	Раздел 3. Обозначение на чертежах параметров шероховатости поверхности.	Шероховатости поверхности. Стандартизованные элементы деталей. Фаски, проточки. Резьбы. Основные понятия и определения. Типы резьб. Условное обозначение на чертеже.	12
6	Резьбы.	Выполнение эскиза детали №1 из ДЗ №2 и детали №2 из ДЗ №3	12
7	Раздел 4. Компьютерная графика.	Знакомство с программой Компас	30
8		Выполнение моделей и чертежей детали №1 из ДЗ №2 и детали №2 из ДЗ №3	30
Всего за 2 семестр			130

### 4. ФОРМЫ КОНТРОЛЯ ОСВОЕНИЯ ДИСЦИПЛИНЫ

СЕМЕСТР	НЕДЕЛИ СЕМЕСТРА															
	1	2	3	4	5	6	7	8	9	10	11	12	13	14	15	16
2						ДР		Раб.тетр		ДР	ДЗ				ДЗ	ДР

Условные обозначения:

- ДР – диагностическая работа;
- Раб.тетр – задания в рабочей тетради;
- ДЗ – домашнее задание;
- Тест – тест;
- диф. зач. – дифференцированный зачет.

Текущий контроль успеваемости студентов проводится в дискретные временные интервалы в следующих формах:

- диагностическая работа;
- задания в рабочей тетради;

- домашнее задание;
- тест.

**Промежуточная аттестация** проводится в формах:

- дифференцированный зачет.

## 5. УЧЕБНО-МЕТОДИЧЕСКОЕ И ИНФОРМАЦИОННОЕ ОБЕСПЕЧЕНИЕ ДИСЦИПЛИНЫ

### 5.1. Основная литература по дисциплине:

1. В. А. Дюмин, М. В. Ракитская, Д. Е. Тихонов-Бутров ; БГТУ "ВОЕНМЕХ" им. Д. Ф. Устинова. Начертательная геометрия шаг за шагом. Шаги 1 - 6 Точка, прямая, плоскость. БГТУ "ВОЕНМЕХ" им. Д. Ф. Устинова, 2007, 1323 экз.
2. В. А. Дюмин, М. В. Ракитская, Д. Е. Тихонов-Бутров ; БГТУ "ВОЕНМЕХ" им. Д. Ф. Устинова. Начертательная геометрия шаг за шагом. Шаги 7 - 11 Преобразование чертежа. БГТУ "ВОЕНМЕХ" им. Д. Ф. Устинова, 2009, эл. рес.
3. В. А. Дюмин, М. В. Ракитская, Д. Е. Тихонов-Бутров ; БГТУ "ВОЕНМЕХ" им. Д. Ф. Устинова. Начертательная геометрия шаг за шагом. Шаги 12 - 17 Поверхности, аксонометрии. СПб.БГТУ "ВОЕНМЕХ" им. Д. Ф. Устинова, 2013, 474 экз.
4. Д. Е. Тихонов-Бутров, С. Н. Абросимов, Б. И. Рыбин. . Справочное пособие по инженерной графике. СПб.БГТУ "ВОЕНМЕХ" им. Д. Ф. Устинова, 2017, эл. рес.
5. К. О. Глазунов, Е. А. Солодухин, В. В. Шварцов. . Применение прикладных библиотек при создании 3D-модели детали в САПР "Компас". СПб.БГТУ "ВОЕНМЕХ" им. Д. Ф. Устинова, 2020, 18 экз.
6. М. В. Ракитская. . Основные приёмы формирования рабочих чертежей типовых деталей машиностроения. СПб.БГТУ "ВОЕНМЕХ" им. Д. Ф. Устинова, 2018, 181 экз.
7. С. Н. Абросимов, В. А. Дюмин, М. В. Ракитская. Введение в инженерную графику. СПб.БГТУ "ВОЕНМЕХ" им. Д. Ф. Устинова, 2008, 955 экз.
8. С. Н. Абросимов, В. А. Дюмин, М. В. Ракитская. . Введение в инженерную графику. СПб.БГТУ "ВОЕНМЕХ" им. Д. Ф. Устинова, 2008, эл. рес.

### 5.2. Дополнительная литература по дисциплине:

не требуется.

### 5.3. Периодические издания:

1. Геометрия и графика.

### 5.4. Перечень ресурсов информационно-телекоммуникационной сети "Интернет", необходимых для освоения дисциплины, электронные библиотечные системы:

1. <http://library.voenmeh.ru/jirbis2> — Фундаментальная библиотека БГТУ «ВОЕНМЕХ» им. Д.Ф. Устинова;
2. <http://e.lanbook.com> — ЭБС Лань;
3. <https://urait.ru> — Главная – Образовательная платформа Юрайт. Для вузов и ссузов..

### Современные профессиональные базы данных:

1. <https://rusneb.ru> – Национальная электронная библиотека (НЭБ);
2. <https://cyberleninka.ru/> - Научная электронная библиотека «Киберленинка»;
- <http://www.rfbr.ru/rffi/ru/library> - Полнотекстовая электронная библиотека Российского фонда фундаментальных исследований.

### Информационные справочные системы:

1. Техэксперт – Информационный портал технического регулирования: Нормы, правила, стандарты РФ;
2. [http://library.voenmeh.ru/jirbis2/index.php?option=com\\_irbis&view=irbis&Itemid=457](http://library.voenmeh.ru/jirbis2/index.php?option=com_irbis&view=irbis&Itemid=457) - БД ГОСТов собственной генерации БГТУ "ВОЕНМЕХ" им. Д. Ф. Устинова;
3. <http://www.consultant.ru/>- КонсультантПлюс- информационный портал правовой информации.

### 5.5. Программное обеспечение:

1. КОМПАС-3D V17.

### 5.6. Информационные технологии:

взаимодействие с обучающимися посредством ЭИОС Moodle БГТУ «ВОЕНМЕХ» им. Д.Ф. Устинова.



## **6. МАТЕРИАЛЬНО-ТЕХНИЧЕСКОЕ ОБЕСПЕЧЕНИЕ ДИСЦИПЛИНЫ**

### **6.1. Лекционные занятия:**

специализированные требования по оборудованию отсутствуют; аудитория с посадочными местами по количеству студентов; доска.

### **6.2. Практические занятия:**

1. Проектор;
2. КОМПАС-3D V17.

### **6.3. Прочее:**

1. рабочее место преподавателя, оснащенное компьютером с доступом в Интернет;
2. рабочие места студентов, оснащенные компьютерами с доступом в Интернет, предназначенные для работы в электронной образовательной среде.

### Аннотация рабочей программы

Дисциплина **ИНЖЕНЕРНАЯ И КОМПЬЮТЕРНАЯ ГРАФИКА** является дисциплиной **обязательной части блока 1** программы подготовки по направлению 27.03.02 *Управление качеством*. Дисциплина реализуется на факультете *О Естественных наук* БГТУ "ВОЕНМЕХ" им. Д.Ф. Устинова кафедрой *ОЗ ИНЖЕНЕРНАЯ И МАШИННАЯ ГЕОМЕТРИЯ И ГРАФИКА*.

Дисциплина нацелена на формирование *компетенций*:

ОПК-11 Способен разрабатывать техническую документацию (в том числе и в электронном виде) в области управления качеством в условиях цифровой экономики с учетом действующих стандартов качества;

ОПК-3 Способен использовать фундаментальные знания для решения базовых задач управления качеством в технических системах с целью совершенствования в профессиональной деятельности.

Содержание дисциплины охватывает круг вопросов, связанных с созданием чертежа детали с использованием пакета Компас 3D.

Программой дисциплины предусмотрены следующие **виды контроля**:

**Текущий контроль успеваемости** студентов проводится в дискретные временные интервалы в следующих формах:

- диагностическая работа;
- задания в рабочей тетради;
- домашнее задание;
- тест.

**Промежуточная аттестация** проводится в формах:

- дифференцированный зачет.

Общая трудоемкость освоения дисциплины составляет 4 з.е., **144 ч**. Программой дисциплины предусмотрены лекционные занятия (**4 ч.**), практические занятия (**10 ч.**), самостоятельная работа студента (**130 ч**).

## ТЕХНОЛОГИИ И ФОРМЫ ОБУЧЕНИЯ

### Рекомендации по освоению дисциплины для студента

Трудоемкость освоения дисциплины составляет 144 ч., из них 14 ч. аудиторных занятий, и 130 ч., отведенных на самостоятельную работу студента.

Рекомендации по распределению учебного времени по видам самостоятельной работы и разделам дисциплины приведены в таблице.

Контроль освоения дисциплины производится в соответствии с Положением о текущем, рубежном контроле успеваемости и промежуточной аттестации обучающихся.

Формы контроля и критерии оценивания приведены в приложении 3 к Рабочей программе.

Наименование работы	Рекомендуемая литература	Трудоемкость, час.
<b>Раздел 1. Элементы начертательной геометрии.</b>		
Метод проекций. Точка на комплексном чертеже. Прямая. Плоскость. Построение точки в плоскости. Пересечение плоскостей. Пересечение прямой с плоскостью. Перпендикулярность прямой и плоскости. Параллельность прямой и плоскости.	В. А. Дюмин, М. В. Ракитская, Д. Е. Тихонов-Бугров ; БГТУ "ВОЕНМЕХ" им. Д. Ф. Устинова. Начертательная геометрия шаг за шагом. Шаги 1 - 6 Точка, прямая, плоскость: БГТУ "ВОЕНМЕХ" им. Д. Ф. Устинова, 2007 (главы 1-6)	6
Способы преобразования чертежа. Замена плоскостей проекций. Поверхности: коническая, цилиндрическая, поверхность вращения (сфера, конус, тор), поверхности Каталана. Точка на поверхности.	В. А. Дюмин, М. В. Ракитская, Д. Е. Тихонов-Бугров ; БГТУ "ВОЕНМЕХ" им. Д. Ф. Устинова. Начертательная геометрия шаг за шагом. Шаги 7 - 11 Преобразование чертежа: БГТУ "ВОЕНМЕХ" им. Д. Ф. Устинова, 2009 (главы 7-12)	6
Выполнение ДЗ№1	В. А. Дюмин, М. В. Ракитская, Д. Е. Тихонов-Бугров ; БГТУ "ВОЕНМЕХ" им. Д. Ф. Устинова. Начертательная геометрия шаг за шагом. Шаги 12 - 17 Поверхности, аксонометрии: СПб.БГТУ "ВОЕНМЕХ" им. Д. Ф. Устинова, 2013 (главы 13-17)	10
Итого по разделу 1		22
<b>Раздел 2. ГОСТы ЕСКД 300-серии. Общие правила оформления чертежей.</b>		
Изучение ГОСТ 2.301-68, ГОСТ 2.302-68, ГОСТ 2.303-68, ГОСТ 2.304-84. Заполнение основной надписи. Изучение ГОСТ 2.317 – 68 Аксонометрия. Изучение ГОСТ 2.305-2008 Изображения: виды, разрезы, сечения. Изучение – ГОСТ 2.307- 68 Размеры.	С. Н. Абросимов, В. А. Дюмин, М. В. Ракитская. Введение в инженерную графику: СПб.БГТУ "ВОЕНМЕХ" им. Д. Ф. Устинова, 2008 (вся) М. В. Ракитская. . Основные приёмы формирования рабочих чертежей типовых деталей машиностроения: СПб.БГТУ "ВОЕНМЕХ" им. Д. Ф. Устинова, 2018 (глава 1)	24
Итого по разделу 2		24
<b>Раздел 3. Обозначение на чертежах параметров шероховатости поверхности. Резьбы.</b>		
Шероховатости поверхности. Стандартизованные элементы деталей. Фаски, проточки. Резьбы. Основные понятия и определения. Типы резьб. Условное обозначение на чертеже.	М. В. Ракитская. . Основные приёмы формирования рабочих чертежей типовых деталей машиностроения: СПб.БГТУ "ВОЕНМЕХ" им. Д. Ф. Устинова, 2018 (вся) Д. Е. Тихонов-Бугров, С. Н. Абросимов, Б. И. Рыбин. . Справочное пособие по инженерной графике: СПб.БГТУ "ВОЕНМЕХ" им. Д. Ф. Устинова, 2017 (1,2,3,10)	12
Выполнение эскиза детали №1 из ДЗ№2 и детали №2 из ДЗ№3	С. Н. Абросимов, В. А. Дюмин, М. В. Ракитская. . Введение в инженерную графику: СПб.БГТУ "ВОЕНМЕХ" им. Д. Ф. Устинова, 2008 (вся)	12
Итого по разделу 3		24
<b>Раздел 4. Компьютерная графика.</b>		
Знакомство с программой Компас	Д. Е. Тихонов-Бугров, С. Н. Абросимов, Б. И. Рыбин. . Справочное пособие по инженерной графике: СПб.БГТУ "ВОЕНМЕХ" им. Д. Ф. Устинова, 2017 (вся)	30
Выполнение моделей и чертежей детали №1 из ДЗ№2 и детали №2 из ДЗ№3	К. О. Глазунов, Е. А. Солoduхин, В. В. Шкварцов. . Применение прикладных библиотек при создании 3D-модели детали в САПР "Компас": СПб.БГТУ "ВОЕНМЕХ" им. Д. Ф. Устинова, 2020 (вся)	30
Итого по разделу 4		60

## ФОНД ОЦЕНОЧНЫХ СРЕДСТВ

Фонд оценочных средств, позволяющие оценить результаты обучения по данной дисциплине, включают в себя:

- диагностическая работа
- задания в рабочей тетради;
- домашнее задание;
- тест;
- дифференцированный зачет.

### Критерии оценивания

#### Диагностическая работа

Диагностическая работа проводится в форме теста в ЭИОС Moodle:

- при правильном ответе менее чем на 60% вопросов - не аттестация;
- при правильном ответе на 60% вопросов и более - аттестация.

#### Задания в рабочей тетради

Правильность выполнения

#### Домашнее задание

Домашнее задание №1. Разработка рабочей конструкторской документации (РКД) на Пробку резьбовую и Гайку.

Домашнее задание №2. Разработка рабочей конструкторской документации (РКД) по чертежу вида общего (ВО). Деталь №1 и Деталь №2

Минимальное количество ошибок для данного чертежа (3 ошибки)

Правильность оформления

#### Тест

Электронное тестирование засчитывается, если студент дает 75% правильных ответов на тест

Итоговый тест размещен в ЭИОС Moodle "Инженерная и компьютерная графика"

Тест включает 30 вопросов.

#### Дифференцированный зачет

Дифференцированный зачет ставится при условии сдачи всех домашних заданий и тестирования

Если студент набирает более 51 балла до 74 баллов( 3 диагностические работы 30 баллов max и выполнение всех дз max 70 баллов) оценка "удовлетворительно"

Если студент набирает более 75 баллов до 85 баллов оценка "хорошо".

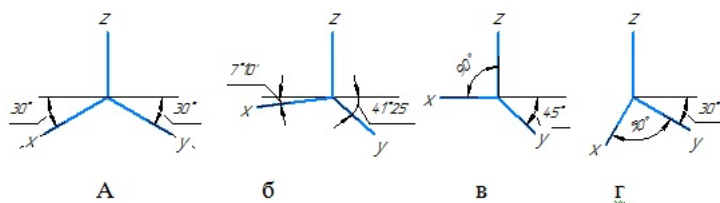
Если студент набирает более 86 баллов оценка "отлично".

КУРС	СЕМЕСТР	Наименование разделов и дидактических единиц	ВСЕГО	Аудиторные занятия в контактной форме			Самостоятельная работа студентов	Формируемая компетенция, %		НАИМЕНОВАНИЕ ОЦЕНОЧНОГО СРЕДСТВА
				ВСЕГО	Лекции	Практические занятия		ОПК-11	ОПК-3	
1	2	Раздел 1. Элементы начертательной геометрии.	28	6	2	4	22	10	10	Задания в рабочей тетради
1	2	Раздел 2. ГОСТы ЕСКД 300-серии. Общие правила оформления чертежей.	28	4	2	2	24	25	25	Домашнее задание
1	2	Раздел 3. Обозначение на чертежах параметров шероховатости поверхности. Резьбы.	26	2	0	2	24	25	25	Домашнее задание
1	2	Раздел 4. Компьютерная графика.	62	2	0	2	60	40	40	Тест, Домашнее задание
Всего за 2 семестр			144	14	4	10	130	100	100	
Всего по дисциплине			144	14	4	10	130	100	100	

ОПК-11 - Способен разрабатывать техническую документацию (в том числе и в электронном виде) в области управления качеством в условиях цифровой экономики с учетом действующих стандартов качества

№ 1 Прочитайте текст, выберите правильные ответы и запишите аргументы, обосновывающие выбор ответов

Оси стандартной косоугольной проекции показаны на рисунке ...



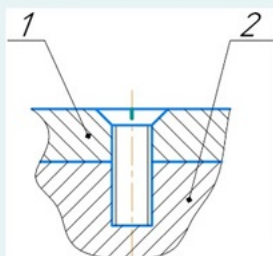
№ 2 Прочитайте текст и запишите развернутый обоснованный ответ

Расшифруйте обозначение:

M20xPh3P1-LH

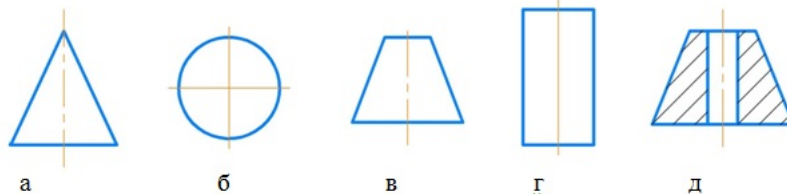
№ 3 Прочитайте текст и запишите развернутый обоснованный ответ

Напишите, какую длину должен иметь винт M12, если толщина детали поз.1 10мм, материал детали поз.2 алюминий.



№ 4 Прочитайте текст и установите соответствие

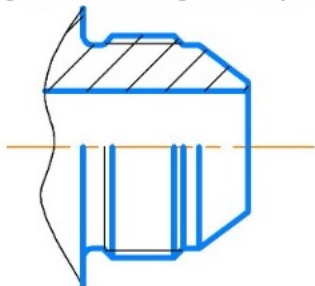
Установите соответствие заданной поверхности вращения тому количеству размеров, которые необходимо поставить для ее задания.



Ответы: 1, 2, 3, 4, 5, 6

№ 5 Прочитайте текст и установите соответствие

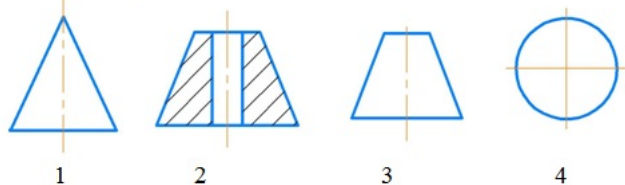
При простановке размеров конструктор разделяет контур детали на соответствующие элементарные поверхности. Определите число различных поверхностей у этого элемента детали?



конические поверхности	1
торовые поверхности	2
цилиндрические поверхности	3
	4

№ 6 Прочитайте текст и установите последовательность

установите эти поверхности вращения, в порядке возрастания их параметров.



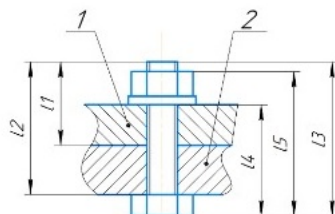
№ 7 Прочитайте текст и установите последовательность

Установите, в какой последовательности записывается обозначение метрической, упорной, трапецидальной резьбы:

1. условное обозначения типа резьбы
2. шаг резьбы
3. наружный диаметр резьбы
4. ход резьбы
5. левая резьба

№ 8 Прочитайте текст, выберите правильный ответ и запишите аргументы, обосновывающие выбор ответа

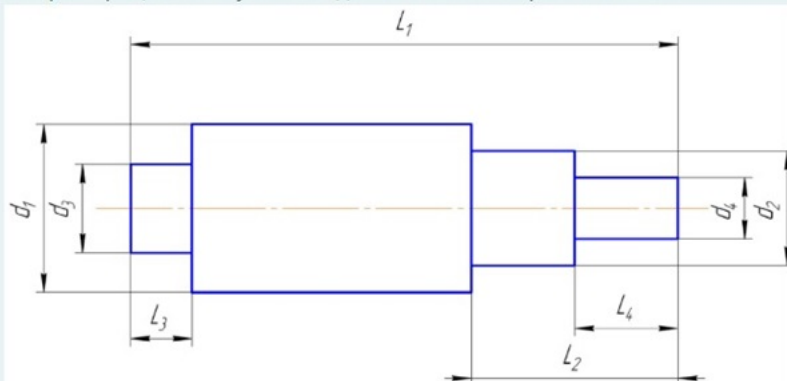
Какая длина болта записывается в спецификацию?



L1, l2, l3, l4, l5

№ 9 Прочитайте текст, выберите правильный ответ и запишите аргументы, обосновывающие выбор ответа

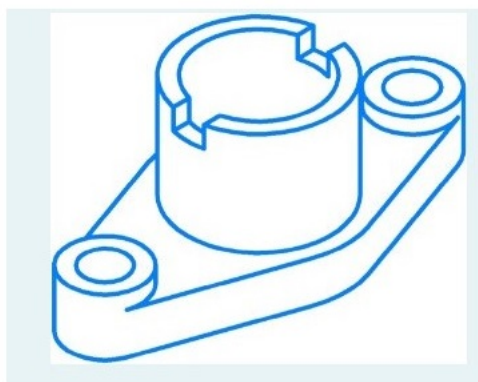
Выберите рациональную последовательность обработки вала:



1. d2 на L2; d1 на L1; d4 на L4; d3 на L3;
2. d4 на L4; d1 на L1; d3 на L3; d2 на L2;
3. d3 на L3; d1 на L1; d2 на L2; d4 на L4;
4. d1 на L1; d2 на L2; d4 на L4; d3 на L3;

№ 10 Прочитайте текст, выберите правильный ответ и запишите аргументы, обосновывающие выбор ответа

Сколько изображений необходимо сделать для чертежа данной детали. Обоснуйте.



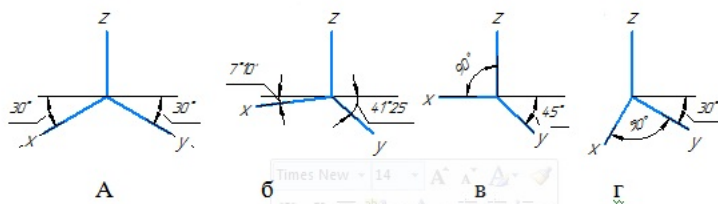
Ответы: 1, 2, 3, 4

№ 11 Прочитайте текст, выберите правильные ответы и запишите аргументы, обосновывающие выбор ответов  
В каких резьбах в условном обозначении резьбы присутствует наружный диаметр резьбы. Возможно несколько вариантов ответа:

- 1.Трубная цилиндрическая
- 2.Метрическая
- 3.Упорная
- 4.Трапецеидальная

№ 12 Прочитайте текст, выберите правильные ответы и запишите аргументы, обосновывающие выбор ответов

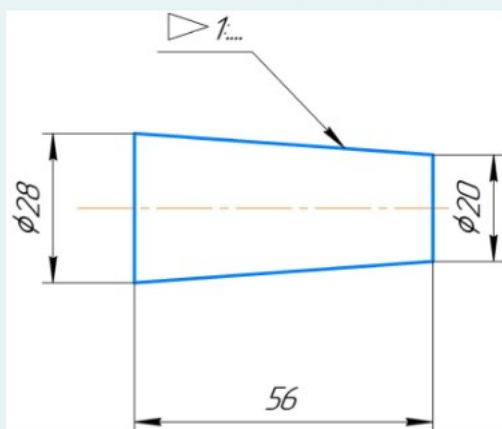
Оси стандартной прямоугольной проекции показаны на рисунке ...



**ОПК-3 - Способен использовать фундаментальные знания для решения базовых задач управления качеством в технических системах с целью совершенствования в профессиональной деятельности**

№ 1 Прочитайте текст и запишите развернутый обоснованный ответ

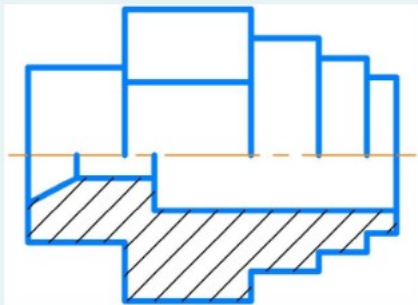
Написать, какая конусность (1:....) у конуса, представленного на рис. ("1:" указывать не надо, ввести одно



№ 2 Прочитайте текст и запишите развернутый обоснованный ответ



Какое минимальное количество операций надо использовать для создания 3D модели данной детали?



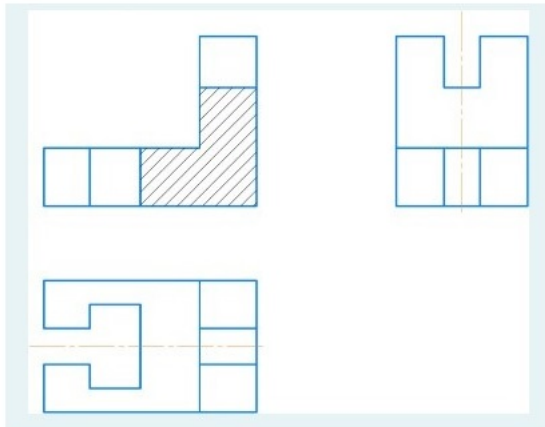
№ 3 Прочитайте текст и установите соответствие

Сопоставьте определения:

Вид	А - Дополнительное изображение (обычно увеличенное) какой-либо части предмета, содержащее подробности, указанные на основном изображении.
Разрез	Б - Изображение предмета, полученное при мысленном рассечении предмета плоскостью. Изображают то, что расположено в секущей плоскости.
Сечение	В - Изображение предмета, мысленно рассеченного одной или несколькими плоскостями. Показывается то, что расположено в секущей плоскости и за ней.
	Г - Изображение видимой, обращенной к наблюдателю части предмета.

№ 4 Прочитайте текст, выберите правильный ответ и запишите аргументы, обосновывающие выбор ответа

Сколько размеров надо указать на виде сверху:



Ответы: 2,4,6,7

№ 5 Прочитайте текст и установите последовательность

Согласно ГОСТ 2.103-2013 процесс проектирования изделий разбивается на стадии, выполняемые в следующей последовательности:

1. Разработка проектной конструкторской документации (КД). Разработка технического проекта (разработка технического проекта, разработку материальных объектов и т.д.).
2. Разработка рабочей КД. Разработка КД опытного образца изделия.
3. Разработка проектной КД. Разработка технического предложения (изучение и анализ технического задания, подбор материалов, разработка технического предложения и т.д.).
4. Разработка рабочей КД. Разработка КД на изделие серийного (массового) производства.
5. Разработка проектной КД. Разработка эскизного проекта (разработка эскизного проекта, разработка и испытание материальных объектов и т.д.).

№ 6 Прочитайте текст и установите соответствие

На соответствие:

- |             |  |
|-------------|--|
| 1. Деталь - | А. изделие, составные части которого соединяют |
|-------------|--|


2.Сборочная единица	между собой на предприятии-изготовителе сборочными операциями (пайка, сварка и т.п.).
3.Комплекс	Б. изделие, изготовленное из однородного по наименованию и
4.Комплект	марке материала без применения сборочных операций.  В. два или более изделия, не соединяемые на предприятии сборочными операциями, но представляющие с набор изделий,  имеющих общее назначение вспомогательного характера (комплект инструмента для автомашины).  Г. два или более специфицированных изделия, не соединяемые  на предприятии-изготовителе сборочными операциями, но предназначенных для выполнения взаимосвяз эксплуатационных  функций (поточная линия станков).  Д. изделие, примененное по стандарту, полностью и однозначно определяющего его конструкцию, показат качества, правила приемки и поставки

№ 7 Прочитайте текст, выберите правильный ответ и запишите аргументы, обосновывающие выбор ответа  
Пояснительная записка по ГОСТ 2.106-2019 в общем случае должна состоять из следующих разделов:

1. Введение
2. Наименование и область применения проектируемого изделия
3. Техническая характеристика
4. Описание и обоснование выбранной конструкции с указанием, какие части заимствованы из ранее разработанных изделий
5. Расчеты, подтверждающие работоспособность и надежность конструкции
6. Описание организации работ с применением разрабатываемого изделия
7. Ожидаемые технико-экономические показатели.

В зависимости от особенностей изделия отдельные разделы допускается объединять или исключать, кроме раздела ... (укажите цифру, под кс данный раздел).

№ 8 Прочитайте текст, выберите правильный ответ и запишите аргументы, обосновывающие выбор ответа



Где правильно показано соединение с помощью винта

№ 9 Прочитайте текст, выберите правильные ответы и запишите аргументы, обосновывающие выбор ответов  
Укажите, какие стандартные изделия с резьбой. Возможно несколько вариантов ответа.

1. Болт
2. Шпонка
3. Шпилька
4. Штифт

№ 10 Прочитайте текст, выберите правильные ответы и запишите аргументы, обосновывающие выбор ответов  
Какие резьбы относятся к ходовым. Возможно несколько вариантов ответа:

- 1.Трубная цилиндрическая
- 2.Метрическая
- 3.Упорная
- 4.Трапецеидальная

№ 11 Прочитайте текст, выберите правильные ответы и запишите аргументы, обосновывающие выбор ответов  
Какие резьбы относятся к резьбам со стандартным профилем. Возможно несколько вариантов ответа:

- 1.Трубная цилиндрическая
- 2.Метрическая
- 3.Трубная коническая

#### 4. Прямоугольная

№ 12 Прочитайте текст и установите последовательность

Определите в какой последовательности записываются разделы в спецификацию по ГОСТ 2.106-2019:

1. Программные изделия и базы данных
2. Комплекты
3. Комплексы
4. Детали
5. Стандартные изделия
6. Прочие изделия
7. Документация
8. Материалы
9. Иные разделы (при необходимости)
10. Сборочные единицы