



*ЛИСТ СОГЛАСОВАНИЯ*

**РАБОЧАЯ ПРОГРАММА СОСТАВЛЕНА В СООТВЕТСТВИИ С ТРЕБОВАНИЯМИ ФЕДЕРАЛЬНОГО  
ГОСУДАРСТВЕННОГО ОБРАЗОВАТЕЛЬНОГО СТАНДАРТА ВЫСШЕГО ОБРАЗОВАНИЯ (ФГОС ВО)**

**15.03.01 Машиностроение**

год набора группы: 2025

Программу составили:

Кафедра Е4 ВЫСОКОЭНЕРГЕТИЧЕСКИЕ УСТРОЙСТВА АВТОМАТИЧЕСКИХ СИСТЕМ \_\_\_\_\_

Нестеров Николай Иванович, к.т.н., доцент, доцент

Кафедра Е4 ВЫСОКОЭНЕРГЕТИЧЕСКИЕ УСТРОЙСТВА АВТОМАТИЧЕСКИХ СИСТЕМ \_\_\_\_\_

Фанифатов Алексей Олегович, к.т.н., доцент

Программа рассмотрена  
на заседании кафедры-разработчика  
рабочей программы **Е4 ВЫСОКОЭНЕРГЕТИЧЕСКИЕ УСТРОЙСТВА АВТОМАТИЧЕСКИХ СИСТЕМ**

Заведующий кафедрой Нестеров Н.И., к.т.н., доц. \_\_\_\_\_

Программа рассмотрена  
на заседании выпускающей кафедры

**Е4 ВЫСОКОЭНЕРГЕТИЧЕСКИЕ УСТРОЙСТВА АВТОМАТИЧЕСКИХ СИСТЕМ**

Заведующий кафедрой Нестеров Н.И., к.т.н., доц. \_\_\_\_\_

## **РАБОЧАЯ ПРОГРАММА ДИСЦИПЛИНЫ ТЕОРИЯ ОБРАБОТКИ МЕТАЛЛОВ ДАВЛЕНИЕМ**

### **Разделы рабочей программы**

1. ЦЕЛИ ОСВОЕНИЯ ДИСЦИПЛИНЫ
2. МЕСТО ДИСЦИПЛИНЫ В СТРУКТУРЕ ООП ВО
3. СТРУКТУРА И СОДЕРЖАНИЕ ДИСЦИПЛИНЫ
4. ФОРМЫ КОНТРОЛЯ ОСВОЕНИЯ ДИСЦИПЛИНЫ
5. УЧЕБНО-МЕТОДИЧЕСКОЕ И ИНФОРМАЦИОННОЕ ОБЕСПЕЧЕНИЕ ДИСЦИПЛИНЫ
6. МАТЕРИАЛЬНО-ТЕХНИЧЕСКОЕ ОБЕСПЕЧЕНИЕ ДИСЦИПЛИНЫ

### **Приложения к рабочей программе дисциплины**

- Приложение 1. Аннотация рабочей программы
- Приложение 2. Технологии и формы обучения
- Приложение 3. Фонды оценочных средств

## 1. ЦЕЛИ ОСВОЕНИЯ ДИСЦИПЛИНЫ

Целью освоения дисциплины является формирование следующих компетенций:

ПК-1.2 — Способен определять напряженно-деформированное состояние заготовки в процессе ее пластического деформирования

ПК-1.6 — Способен проводить эксперименты по исследованию технологических параметров операций обработки металлов давлением по стандартным и заданным методикам, обрабатывать и технически грамотно оформлять результаты научно-исследовательских работ в области машиностроения

Формированию компетенций служит достижение следующих результатов образования:

### **ПК-1.2**

*знания:*

методов определения напряженно-деформированного состояния заготовки в процессе деформации;

*умения:*

рассчитывать параметры напряженно-деформированного состояния заготовки;

анализировать распределения параметров напряженно-деформированного заготовки;

*навыки:*

владение методами инженерных расчетов.

### **ПК-1.6**

*знания:*

методик проведения экспериментов в области обработки металлов давлением;

*умения:*

рассчитывать технологические параметры операций обработки металлов давлением;

*навыки:*

владение методами инженерных расчетов.

## 2. МЕСТО ДИСЦИПЛИНЫ В СТРУКТУРЕ ООП ВО

Дисциплина **ТЕОРИЯ ОБРАБОТКИ МЕТАЛЛОВ ДАВЛЕНИЕМ** является дисциплиной **части**, формируемой участниками образовательных отношений блока 1, программы подготовки по направлению 15.03.01 *Машиностроение*.

Содержание дисциплины является логическим продолжением дисциплин: **ВЫСШАЯ МАТЕМАТИКА, ФИЗИКА, ВВЕДЕНИЕ В СПЕЦИАЛЬНОСТЬ, ОБРАБОТКА МЕТАЛЛОВ ДАВЛЕНИЕМ, ТЕОРИЯ ПЛАСТИЧНОСТИ**.

Содержание дисциплины является основой для освоения дисциплин: **ТЕХНОЛОГИЯ КОВКИ И ОБЪЕМНОЙ ШТАМПОВКИ**.

Предварительные компетенции, сформированные у обучающегося до начала изучения дисциплины:

- ОПК-1 — Способен применять естественнонаучные и общетехнические знания, методы математического анализа и моделирования в профессиональной деятельности
- ОПК-6 — Способен решать стандартные задачи профессиональной деятельности на основе информационной и библиографической культуры с применением информационно-коммуникационных технологий
- ПК-1.1 — Способен разрабатывать новые технологические процессы листовой и объемной холодной штамповки,ковки, горячей штамповки
- ПК-1.2 — Способен определять напряженно-деформированное состояние заготовки в процессе ее пластического деформирования
- УК-6 — Способен управлять своим временем, выстраивать и реализовывать траекторию саморазвития на основе принципов образования в течение всей жизни

### 3. СТРУКТУРА И СОДЕРЖАНИЕ ДИСЦИПЛИНЫ

Общая трудоемкость дисциплины составляет 3 з.е., 108 ч.

#### 3.1. Содержание (дидактика) дисциплины

КУРС	СЕМЕСТР	Наименование разделов и дидактических единиц	ВСЕГО	Аудиторные занятия в контактной форме			Самостоятельная работа студентов	Формируемая компетенция, %	
				ВСЕГО	Лекции	Лабораторный практикум		ПК-1.2	ПК-1.6
4	7	Раздел 1. Методы определения напряженно-деформированного состояния заготовки и основных технологических параметров процессов обработки металлов давлением. Основные технологические параметры процессов обработки металлов давлением. Метод совместного решения дифференциальных уравнений равновесия и условия пластичности. Метод сопротивления материалов пластическому деформированию. Метод баланса работ. Вариационные методы. Метод конечных элементов.	10	4	4	0	6	10	0
4	7	Раздел 2. Контактное трение при пластическом деформировании. Особенности и роль контактного трения. Теория контактного трения и основные зависимости. Способы оценки сил контактного трения. Факторы, влияющие на коэффициент трения. Методы определения коэффициента трения.	12	6	6	0	6	10	0
4	7	Раздел 3. Влияние гидростатического давления на технологические параметры процессов пластической деформации. Влияние гидростатического давления на предельную пластичность, силу и работу деформирования, упругую разгрузку. Связь между гидростатическим давлением и отношением площадей контактной и свободной поверхностей заготовки.	6	2	2	0	4	10	0
4	7	Раздел 4. Классификации процессов ОМД. Классификации С.И.Губкина, Н.И.Корнеева, Г.А.Смирнова-Аляева.	10	4	4	0	6	5	0
4	7	Раздел 5. Процесс изгиба листового материала. Круговой изгиб. Напряженно-деформированное состояние узкой и широкой заготовки. Определение параметров деформации узкой и широкой заготовки. Положение нейтральной поверхности деформаций и напряжений. Определение напряжений в узкой и широкой заготовках. Поперечный изгиб. Характеристика напряженно-деформированного состояния. Минимальный радиус изгиба. Сила изгиба.	48	25	8	17	23	20	100
4	7	Раздел 6. Процесс отбортовки. Определение параметров напряженно-деформированного состояния в характерных точках очага пластической деформации. Определение диаметра исходного отверстия. Определение толщины стенки на кромке борта. Определение высоты борта. Определение критического диаметра. Определение силы деформирования.	10	4	4	0	6	20	0
4	7	Раздел 7. Процесс свободного осаживания заготовок односвязного контура между плоскопараллельными плитами. Характеристика напряженно-деформированного состояния. Сила деформирования цилиндрической заготовки, прямоугольной в плане заготовки, заготовки произвольного поперечного сечения.	12	6	6	0	6	25	0
Всего за 7 семестр			108	51	34	17	57	100	100
Всего по дисциплине			108	51	34	17	57	100	100

#### 3.2. Лабораторный практикум

№ п/п	Номер и наименование раздела дисциплины	Тема лабораторного практикума	Объем, ауд. часов
1	Раздел 5. Процесс изгиба листового материала.	Исследование деформированного и напряженного состояний наружной поверхности изгибаемой листовой заготовки при холодной деформации	17
Всего за 7 семестр			17

#### 3.3. Самостоятельная работа студента (СРС)

№ п/п	Номер и наименование раздела дисциплины	Содержание учебного задания	Объем, часов
1	Раздел 1. Методы определения напряженно-деформированного состояния заготовки и основных технологических параметров процессов обработки металлов давлением.	Изучение содержания лекционных занятий и рекомендованной литературы.	6
2	Раздел 2. Контактное трение при пластическом деформировании.	Изучение содержания лекционных занятий и рекомендованной литературы.	6
3	Раздел 3. Влияние гидростатического давления на технологические параметры процессов пластической деформации.	Изучение содержания лекционных занятий и рекомендованной литературы.	4
4	Раздел 4. Классификации процессов ОМД.	Изучение содержания лекционных занятий и рекомендованной литературы.	6
5	Раздел 5. Процесс изгиба листового материала.	Изучение содержания лекционных занятий и рекомендованной литературы.	6
6		Проведение расчетов параметров напряженно-деформированного состояния и силы деформирования. Оформление отчета и подготовка к защите.	17
7	Раздел 6. Процесс отбортовки.	Изучение содержания лекционных занятий и рекомендованной литературы.	6
8	Раздел 7. Процесс свободного осаживания заготовок односвязного контура между плоскопараллельными плитами.	Изучение содержания лекционных занятий и рекомендованной литературы.	6

**4. ФОРМЫ КОНТРОЛЯ ОСВОЕНИЯ ДИСЦИПЛИНЫ**

СЕМЕСТР	НЕДЕЛИ СЕМЕСТРА																
	1	2	3	4	5	6	7	8	9	10	11	12	13	14	15	16	17
7					ТекК	ДР			ТекК	ДР					ТекК	ДР	ЛР

Условные обозначения:

- ДР – диагностическая работа;
- ТекК – вопросы для текущего контроля;
- ЛР – лабораторная работа.

**Текущий контроль успеваемости** студентов проводится в дискретные временные интервалы в следующих формах:

- диагностическая работа;
- вопросы для текущего контроля;
- лабораторная работа.

**Промежуточная аттестация** проводится в формах:

- экзамен.

## 5. УЧЕБНО-МЕТОДИЧЕСКОЕ И ИНФОРМАЦИОННОЕ ОБЕСПЕЧЕНИЕ ДИСЦИПЛИНЫ

### 5.1. Основная литература по дисциплине:

1. В. Р. Каргин, Б. В. Каргин. . Теория обработки металлов давлением. Самара: СамГУ, 2019, эл. рес.
2. Г. А. Смирнов-Аляев. . Сопротивление материалов пластическому деформированию. Л.: Машиностроение. Ленингр. отд-ние, 1978, 131 экз.
3. Д. П. Кузнецов, Н. И. Нестеров, К. М. Иванов. . Теория пластичности и теория обработки металлов давлением. СПб.БГТУ "ВОЕНМЕХ" им. Д. Ф. Устинова, 2007, 163 экз.
4. К. М. Иванов, Н. И. Нестеров, Д. В. Усманов. . Прикладная теория пластичности. СПб.: Политехника, 2009, 70 экз.
5. К. М. Иванов, Н. И. Нестеров, Д. В. Усманов. . Механика процессов обработки давлением. СПб.БГТУ "ВОЕНМЕХ" им. Д. Ф. Устинова, 2012, 110 экз.

### 5.2. Дополнительная литература по дисциплине:

не требуется.

### 5.3. Периодические издания:

не требуются.

### 5.4. Перечень ресурсов информационно-телекоммуникационной сети "Интернет", необходимых для освоения дисциплины, электронные библиотечные системы:

1. <https://e.lanbook.com/> (ЭБС ЛАНБ);
2. <https://moodle.voenmeh.ru/course/view.php?id=3986> — БГТУ «ВОЕНМЕХ» им. Д.Ф. Устинова // Moodle: Вход на сайт;
3. [http://library.voenmeh.ru/jirbis2/index.php?option=com\\_irbis&view=irbis&Itemid=474](http://library.voenmeh.ru/jirbis2/index.php?option=com_irbis&view=irbis&Itemid=474) (Электронная библиотека университета) — Фундаментальная библиотека БГТУ «ВОЕНМЕХ» им. Д.Ф. Устинова.

### Современные профессиональные базы данных:

1. <https://rusneb.ru> – Национальная электронная библиотека (НЭБ);
2. <https://cyberleninka.ru/> - Научная электронная библиотека «Киберленинка»;  
<http://www.rfbr.ru/rffi/ru/library> - Полнотекстовая электронная библиотека Российского фонда фундаментальных исследований.

### Информационные справочные системы:

1. Техэксперт – Информационный портал технического регулирования: Нормы, правила, стандарты РФ;
2. [http://library.voenmeh.ru/jirbis2/index.php?option=com\\_irbis&view=irbis&Itemid=457](http://library.voenmeh.ru/jirbis2/index.php?option=com_irbis&view=irbis&Itemid=457) - БД ГОСТов собственной генерации БГТУ "ВОЕНМЕХ" им. Д. Ф. Устинова;
3. <http://www.consultant.ru/>- КонсультантПлюс- информационный портал правовой информации.

### 5.5. Программное обеспечение:

не требуется.

### 5.6. Информационные технологии:

взаимодействие с обучающимися посредством ЭИОС Moodle БГТУ «ВОЕНМЕХ» им. Д.Ф. Устинова.



## **6. МАТЕРИАЛЬНО-ТЕХНИЧЕСКОЕ ОБЕСПЕЧЕНИЕ ДИСЦИПЛИНЫ**

### **6.1. Лекционные занятия:**

специализированные требования по оборудованию отсутствуют; аудитория с посадочными местами по количеству студентов; доска.

### **6.2. Лабораторные занятия:**

1. Испытательная машина Shimadzu AGX-100 с номинальной силой 100 кН;
2. Испытательная машина ИМЧ-30 с номинальной силой 300 кН;
3. Инструментальные измерительные микроскопы;
4. Гравировально-фрезерный станок Roland (Великобритания).

### **6.3. Прочее:**

1. рабочее место преподавателя, оснащенное компьютером с доступом в Интернет;
2. рабочие места студентов, оснащенные компьютерами с доступом в Интернет, предназначенные для работы в электронной образовательной среде.

### **Аннотация рабочей программы**

Дисциплина **ТЕОРИЯ ОБРАБОТКИ МЕТАЛЛОВ ДАВЛЕНИЕМ** является дисциплиной **части, формируемой участниками образовательных отношений блока 1**, программы подготовки по направлению *15.03.01 Машиностроение*. Дисциплина реализуется на факультете *Е Оружие и системы вооружения* БГТУ "ВОЕНМЕХ" им. Д.Ф. Устинова кафедрой *Е4 ВЫСОКОЭНЕРГЕТИЧЕСКИЕ УСТРОЙСТВА АВТОМАТИЧЕСКИХ СИСТЕМ*.

Дисциплина нацелена на формирование *компетенций*:

ПК-1.2 Способен определять напряженно-деформированное состояние заготовки в процессе ее пластического деформирования;

ПК-1.6 Способен проводить эксперименты по исследованию технологических параметров операций обработки металлов давлением по стандартным и заданным методикам, обрабатывать и технически грамотно оформлять результаты научно-исследовательских работ в области машиностроения.

Содержание дисциплины охватывает круг вопросов, связанных с решением задач по определению напряженно-деформированного состояния, силы деформирования, размеров исходных заготовок в процессах обработки металлов давлением.

Программой дисциплины предусмотрены следующие **виды контроля**:

**Текущий контроль успеваемости** студентов проводится в дискретные временные интервалы в следующих формах:

- диагностическая работа;
- вопросы для текущего контроля;
- лабораторная работа.

**Промежуточная аттестация** проводится в формах:

- экзамен.

Общая трудоемкость освоения дисциплины составляет **3 з.е., 108 ч.** Программой дисциплины предусмотрены лекционные занятия (**34 ч.**), лабораторный практикум (**17 ч.**), самостоятельная работа студента (**57 ч.**).

## ТЕХНОЛОГИИ И ФОРМЫ ОБУЧЕНИЯ

### Рекомендации по освоению дисциплины для студента

Трудоемкость освоения дисциплины составляет 108 ч., из них 51 ч. аудиторных занятий, и 57 ч., отведенных на самостоятельную работу студента.

Рекомендации по распределению учебного времени по видам самостоятельной работы и разделам дисциплины приведены в таблице.

Контроль освоения дисциплины производится в соответствии с Положением о текущем, рубежном контроле успеваемости и промежуточной аттестации обучающихся.

Формы контроля и критерии оценивания приведены в приложении 3 к Рабочей программе.

Наименование работы	Рекомендуемая литература	Трудоемкость, час.
<b>Раздел 1. Методы определения напряженно-деформированного состояния заготовки и основных технологических параметров процессов обработки металлов давлением.</b>		
Изучение содержания лекционных занятий и рекомендованной литературы.	К. М. Иванов, Н. И. Нестеров, Д. В. Усманов. . Прикладная теория пластичности: СПб.: Политехника, 2009 (главы 12-15) К. М. Иванов, Н. И. Нестеров, Д. В. Усманов. . Механика процессов обработки давлением: СПб.БГТУ "ВОЕНМЕХ" им. Д. Ф. Устинова, 2012 (Введение, п.1.4, п.1.7)	6
Итого по разделу 1		6
<b>Раздел 2. Контактное трение при пластическом деформировании.</b>		
Изучение содержания лекционных занятий и рекомендованной литературы.	К. М. Иванов, Н. И. Нестеров, Д. В. Усманов. . Механика процессов обработки давлением: СПб.БГТУ "ВОЕНМЕХ" им. Д. Ф. Устинова, 2012 (п.1.1) В. Р. Каргин, Б. В. Каргин. . Теория обработки металлов давлением: Самара: СамГУ, 2019 (7)	6
Итого по разделу 2		6
<b>Раздел 3. Влияние гидростатического давления на технологические параметры процессов пластической деформации.</b>		
Изучение содержания лекционных занятий и рекомендованной литературы.	К. М. Иванов, Н. И. Нестеров, Д. В. Усманов. . Механика процессов обработки давлением: СПб.БГТУ "ВОЕНМЕХ" им. Д. Ф. Устинова, 2012 (п.1.2, п.1.3.4)	4
Итого по разделу 3		4
<b>Раздел 4. Классификации процессов ОМД.</b>		
Изучение содержания лекционных занятий и рекомендованной литературы.	К. М. Иванов, Н. И. Нестеров, Д. В. Усманов. . Механика процессов обработки давлением: СПб.БГТУ "ВОЕНМЕХ" им. Д. Ф. Устинова, 2012 (п.1.3)	6
Итого по разделу 4		6
<b>Раздел 5. Процесс изгиба листового материала.</b>		
Изучение содержания лекционных занятий и рекомендованной литературы.	Д. П. Кузнецов, Н. И. Нестеров, К. М. Иванов. . Теория пластичности и теория обработки металлов давлением: СПб.БГТУ "ВОЕНМЕХ" им. Д. Ф. Устинова, 2007 (лаб. работа №3)	6
Проведение расчетов параметров напряженно-деформированного состояния и силы деформирования. Оформление отчета и подготовка к защите.	К. М. Иванов, Н. И. Нестеров, Д. В. Усманов. . Механика процессов обработки давлением: СПб.БГТУ "ВОЕНМЕХ" им. Д. Ф. Устинова, 2012 (п.2.1) Г. А. Смирнов-Аляев. . Сопротивление материалов пластическому деформированию: Л.: Машиностроение. Ленингр. отд-ние, 1978 (гл. 9)	17
Итого по разделу 5		23
<b>Раздел 6. Процесс отбортовки.</b>		
Изучение содержания лекционных занятий и рекомендованной литературы.	К. М. Иванов, Н. И. Нестеров, Д. В. Усманов. . Механика процессов обработки давлением: СПб.БГТУ "ВОЕНМЕХ" им. Д. Ф. Устинова, 2012 (п.2.3)	6
Итого по разделу 6		6
<b>Раздел 7. Процесс свободного осаживания заготовок односвязного контура между плоскопараллельными плитами.</b>		
Изучение содержания лекционных занятий и рекомендованной литературы.	К. М. Иванов, Н. И. Нестеров, Д. В. Усманов. . Механика процессов обработки давлением: СПб.БГТУ	6

	"ВОЕНМЕХ" им. Д. Ф. Устинова, 2012 (п.3.1)	
Итого по разделу 7		6

## ФОНД ОЦЕНОЧНЫХ СРЕДСТВ

Фонд оценочных средств, позволяющие оценить результаты обучения по данной дисциплине, включают в себя:

- диагностическая работа
- вопросы для текущего контроля;
- лабораторная работа;
- экзамен.

### Критерии оценивания

#### Диагностическая работа

Диагностическая работа проводится в форме теста в ЭИОС Moodle:

- при правильном ответе менее чем на 60% вопросов - не аттестация;
- при правильном ответе на 60% вопросов и более - аттестация.

#### Вопросы для текущего контроля

Вопросы для текущего контроля успеваемости в форме диагностической работы разрабатываются (обновляются) ежегодно в соответствии с материалами, изученными обучающимися.

#### Лабораторная работа

Отчет по ЛР представляется в печатном виде. Защита отчета проходит в форме доклада студента по выполненной работе и ответов на вопросы преподавателя.

В случае если оформление отчета и поведение студента во время защиты соответствуют указанным требованиям, работа считается сданной.

Отчет не может быть принят и подлежит доработке в случаях: отсутствие необходимых разделов; отсутствие необходимого графического материала; некорректная обработка результатов измерений; несоответствие оформления установленным требованиям.

#### Экзамен

По каждому контрольному мероприятию обучающий (три диагностических работы, сдача лабораторной работы и учет посещаемости занятий) обучающийся набирает баллы в соответствии технологической картой дисциплины.

Минимальное количество баллов и количество баллов, необходимое для получения экзаменационной оценки (отлично, хорошо, удовлетворительно), устанавливается нормативным актом по университету. Если по результатам обучения в семестре обучающийся не набрал минимальное количество баллов, то ему необходимо защитить отчет по лабораторной работе и явиться на экзамен.

Если обучающийся претендует на более высокую оценку, то ему необходимо явиться на экзамен.

Экзаменационные вопросы:

1. Роль и особенности контактного трения при пластической деформации.
2. Определение силы трения. Законы трения.
3. Методы определения значений коэффициента трения.
4. Влияние гидростатического давления на пластичность.
5. Влияние гидростатического давления на усилие и работу деформирования.
6. Классификация процессов ОМД по Г.А Смирнову-Аляеву./С.И.Губкину,/Н.И.Корнееву.
7. Гибка листового материала. Общая характеристика. Способы.
8. Определение параметров деформированного состояния при круговом изгибе.
9. Положение нейтрального слоя итоговой деформации при круговом изгибе.
10. Изменение толщины заготовки при круговом изгибе.
11. Напряженное состояние узких заготовок при круговом изгибе.
12. Напряженное состояние широких заготовок при круговом изгибе.
13. Определение положения нейтрального слоя напряжений при круговом изгибе.
14. Определение изгибающего момента и работы деформирования при круговом изгибе.
15. Напряженно-деформированное состояние заготовки при отбортовке.
16. Высота борта при отбортовке.
17. Толщина борта при отбортовке.
18. Сила деформирования при отбортовке.
19. Осадка. Общая характеристика. Деформированное состояние.
20. Напряженное состояние на контактной поверхности осаживаемой заготовки.
21. Определение силы деформирования при осаживании цилиндрической заготовки.
22. Определение силы деформирования при осаживании прямоугольной заготовки в плане.
23. Определение силы осадки заготовки произвольного поперечного сечения.

Для получения положительной оценки на экзамене студент должен:  
знать:

область применения теории обработки металлов давлением;  
расчетные зависимости для определения технологических параметров процессов обработки металлов давлением;  
закономерности формоизменения металла и распределения параметров напряженно-деформированного состояния;  
уметь:

проводить анализ распределения параметров напряженно-деформированного состояния заготовок; рассчитывать параметры напряженно-деформированного состояния заготовок и сил деформирования; владеть методами инженерных расчетов.

Оценка «Отлично» выставляется студенту, прочно усвоившему программный материал, исчерпывающе, грамотно и логически стройно его излагающему, в ответе которого тесно увязывается теория с практикой. При этом студент не затрудняется с ответом при видоизменении задания, свободно справляется с задачами, вопросами и другими видами применения знаний, показывает знакомство с литературой, правильно обосновывает принятые решения.

Оценка «Хорошо» выставляется студенту, знающему программный материал, грамотно и по существу излагающему его, который не допускает существенных неточностей в ответе на вопрос, правильно применяет теоретические положения при решении практических вопросов и задач, владеет необходимыми навыками и приемами их выполнения.

Оценка «Удовлетворительно» выставляется студенту, который имеет знания только основного материала, но не усвоил деталей, допускает неточности, недостаточно правильные формулировки, нарушения последовательности в изложении программного материала и испытывает затруднения при выполнении практических задач.

Оценка «Неудовлетворительно» выставляется студенту, который не знает значительной части программного материала, допускает существенные ошибки, неуверенно, с большими затруднениями решает практические задачи.

Возможна сдача экзамена путем выполнения итогового теста.

Вопросы для тестирования

1. Какой основной параметр положен в основу классификации процессов обработки металлов давлением Г.А. Смирнова-Аляева?
2. От чего зависит величина предельной деформации металла для конкретной операции обработки давлением?
3. На какие параметры влияет величина гидростатического давления?
4. Какие признаки положены в основу классификации процессов ОМД, предложенной С.И. Губкиным?
5. По классификации процессов ОМД, предложенной С.И. Губкиным, процессы деформирования с нагревом, без нагрева или с охлаждением заготовки могут быть:
6. Контактное трение при пластической деформации влияет на:
7. Контактное трение при пластической деформации характеризуется следующими параметрами:
8. Если на поверхности контакта инструмента и заготовки нет никаких разделяющих тел и сред, то такое трение называют:
9. Если на поверхности контакта инструмента и заготовки есть промежуточный слой и слой ведет себя как твердое тело, т.е. не обладает основным свойством жидкости – жидкотекучестью, то такое трение называют:
10. Кто предложил определять силу трения по закону  $P_t = \mu \cdot N$  ?
11. Кто предложил определять силу трения по закону  $P_t = \mu N + Q$  ?
12. Кто предложил определять силу трения по закону  $P_t = \mu (N + qFq)$  ?
13. Кто предложил определять силу трения по закону  $P_t = \tau_0 F_s + C N$  ?
14. При решении задач необходимо знать граничные условия, т.е. учитывать контактное трение. Способы задания этих условий:
15. К факторам, влияющим на величину коэффициента трения при пластической деформации, следует отнести:
16. Укажите наиболее точные методы определения величины коэффициента трения в процессах ОМД.
17. Какой закон трения положен в основу метода определения коэффициента трения с помощью точечных датчиков?
18. Какой закон трения положен в основу метода определения коэффициента трения при прокатке, предложенного И.М. Павловым?
19. Какой закон трения положен в основу метода определения коэффициента трения осаживанием коническими бойками?
20. Какой закон трения положен в основу метода определения коэффициента трения свободным осаживанием?
21. В методе клещевого захвата экспериментально необходимо определять?
22. Укажите признаки кругового изгиба.
23. Укажите признаки поперечного изгиба.
24. При анализе напряженно-деформированного состояния при круговом изгибе заготовки подразделяют на:
25. Что принято за критерий деления изгибаемых заготовок на «узкие» и «широкие»?
26. Укажите схемы деформированного и напряженного состояния для наружной зоны «узкой» заготовки при круговом изгибе.
27. Укажите схемы деформированного и напряженного состояния для внутренней зоны «узкой» заготовки при круговом изгибе.
28. Как изменяется толщина заготовки при гибке?
29. Укажите зависимости для определения параметров деформаций в наружной зоне при изгибе «широкой» заготовки.
30. Укажите схемы деформированного и напряженного состояния для наружной зоны «широкой» заготовки при круговом изгибе.
31. Укажите схемы деформированного и напряженного состояния для внутренней зоны «широкой» заготовки при круговом изгибе.
32. Укажите зависимости для определения параметров деформаций во внутренней зоне при изгибе «широкой» заготовки.
33. Укажите зависимости для определения параметров деформаций в наружной зоне при изгибе «узкой» заготовки.
34. Укажите зависимости для определения параметров деформаций во внутренней зоне при изгибе «узкой» заготовки.
35. Укажите, для какой поверхности и при круговом изгибе какой заготовки приведены схемы деформированного и напряженного состояния.
36. При изгибе какой заготовки и в какой зоне предельная деформация материала заготовки наименьшая?
37. Что называют «минимальным радиусом изгиба»?
38. К какой группе по классификации процессов обработки металлов давлением, предложенной Г.А. Смирновым-Аляевым, относится гибка?

39. К какой группе по классификации процессов обработки металлов давлением, предложенной Г.А. Смирновым-Аляевым, относится отбортовка?
40. Как изменяется толщина заготовки в процессе отбортовки?
41. Какой вид деформированного состояния на наружной кромке борта при отбортовке (точка А)?
42. Какой вид деформированного состояния на внутренней кромке борта при отбортовке (точка В)?
43. Что называют критическим диаметром при отбортовке?
44. Как для процесса отбортовки определить значение интенсивности деформаций в точке В?
45. Как для процесса отбортовки определить значение интенсивности деформаций в точке А?
46. Как изменяется толщина заготовки на наружной стенке в процессе образования кольца с двойной стенкой?
47. Как изменяется толщина заготовки на внутренней стенке в процессе образования кольца с двойной стенкой?
48. Какой вид деформированного состояния в наружной стенке в процессе образования кольца с двойной стенкой?
49. Какой вид деформированного состояния во внутренней стенке в процессе образования кольца с двойной стенкой?
50. Зона III осаживаемой заготовки является:
51. Зона I осаживаемой заготовки является:
52. Что является основной причиной неравномерности деформации по объему осаживаемой заготовки?
53. Неравномерность деформации по объему осаживаемой заготовки уменьшается при:
54. По результатам экспериментальных исследований установлено, что на контактной поверхности осаживаемой заготовки в общем случае можно выделить следующие зоны:
55. При решении задачи определения силы при осаживании заготовки какой принят закон трения в зоне торможения на контактной поверхности?
56. При решении задачи определения силы при осаживании заготовки какой принят закон трения в зоне скольжения на контактной поверхности?
57. Какие допущения приняты для решения задачи определения силы при осаживании цилиндрической заготовки?
58. Какие допущения приняты для решения задачи определения силы при осаживании прямоугольной в плане заготовки?
59. Какие допущения приняты для решения задачи определения силы при осаживании цилиндрической и прямоугольной в плане заготовки?
60. К какой группе по классификации процессов обработки металлов давлением, предложенной Г.А. Смирновым-Аляевым, относится осадка?
- Тест для приема экзамена состоит из 30 вопросов.
- При тестировании: отлично – от 29 до 30 баллов; хорошо – от 25 до 29 баллов; удовлетворительно – от 20 до 25 баллов; неудовлетворительно – менее 20 баллов.

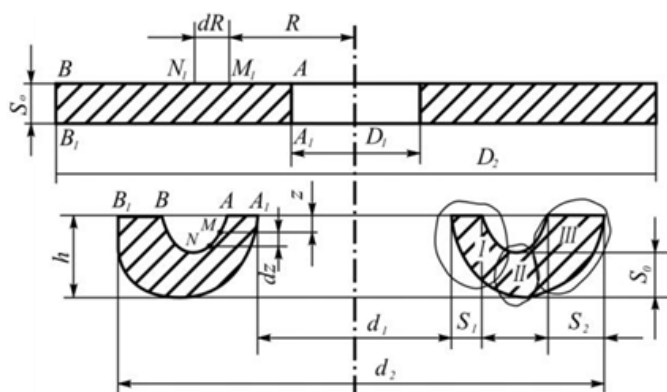
КУРС	СЕМЕСТР	Наименование разделов и дидактических единиц	ВСЕГО	Аудиторные занятия в контактной форме			Самостоятельная работа студентов	Формируемая компетенция, %		НАИМЕНОВАНИЕ ОЦЕНОЧНОГО СРЕДСТВА
				ВСЕГО	Лекции	Лабораторный практикум		ПК-1.2	ПК-1.6	
4	7	Раздел 1. Методы определения напряженно-деформированного состояния заготовки и основных технологических параметров процессов обработки металлов давлением.	10	4	4	0	6	10	0	Вопросы для текущего контроля
4	7	Раздел 2. Контактное трение при пластическом деформировании.	12	6	6	0	6	10	0	Вопросы для текущего контроля
4	7	Раздел 3. Влияние гидростатического давления на технологические параметры процессов пластической деформации.	6	2	2	0	4	10	0	Вопросы для текущего контроля
4	7	Раздел 4. Классификации процессов ОМД.	10	4	4	0	6	5	0	Вопросы для текущего контроля
4	7	Раздел 5. Процесс изгиба листового материала.	48	25	8	17	23	20	100	Лабораторная работа, Вопросы для текущего контроля
4	7	Раздел 6. Процесс отбортовки.	10	4	4	0	6	20	0	Вопросы для текущего контроля
4	7	Раздел 7. Процесс свободного осаживания заготовок односвязного контура между плоскопараллельными плитами.	12	6	6	0	6	25	0	Вопросы для текущего контроля
Всего за 7 семестр			108	51	34	17	57	100	100	
Всего по дисциплине			108	51	34	17	57	100	100	



**ПК-1.2 - Способен определять напряженно-деформированное состояние заготовки в процессе ее пластического деформирования**

№ 1 Прочитайте текст и установите соответствие

Какие зоны существуют в заготовке при образовании кольца с двойной стенкой?



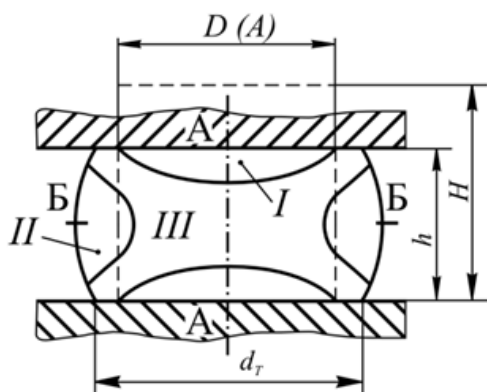
К каждой позиции в левом столбце, подберите позицию из правого столбца

- |    |     |
|----|-----|
| 1. | I   |
| 2. | II  |
| 3. | III |

- |    |                                     |
|----|-------------------------------------|
| А. | Зона без деформации                 |
| В. | Зона упругой деформации             |
| Г. | Зона упруго-пластической деформации |
| Д. | Зона пластической деформации        |

№ 2 Прочитайте текст и установите соответствие

При свободной осадке в заготовке можно выделить следующие зоны



К каждой позиции в левом столбце, подберите позицию из правого столбца

- |    |     |
|----|-----|
| 1. | I   |
| 2. | II  |
| 3. | III |

- |    |                            |
|----|----------------------------|
| А. | Зона без деформации        |
| Б. | Зона наименьшей деформации |
| В. | Зона средней деформации    |
| Г. | Зона наибольшей деформации |

№ 3 Прочитайте текст и установите последовательность

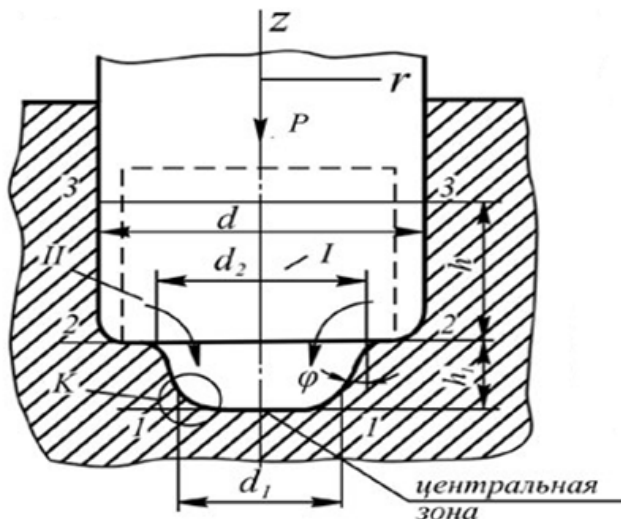
В какой последовательность обычно происходит определение параметров НДС?

Запишите соответствующую последовательность цифр слева направо без пробелов и точек

1. Расчет интенсивности деформации
2. Расчет компонентов напряжения
3. Определение интенсивности напряжения
4. Расчет компонентов деформации

№ 4 Прочитайте текст и установите последовательность

В какой последовательности происходит определение напряженно-деформированного состояния при расчете усилия штамповки осесимметричных деталей с «бобышкой»?



Запишите соответствующую последовательность цифр слева направо без пробелов и точек

1. Сечение 3 - 3
2. Сечение 1 - 1
3. Сечение 2 - 2

№ 5 Прочитайте текст, выберите правильный ответ и запишите аргументы, обосновывающие выбор ответа  
Деформированное состояние при изгибе «узких» заготовок является

Запишите номер выбранного ответа без точки и обоснование выбора

1. Линейным
2. Плоским
3. Объемным
4. Плоским переходящим в объемное

№ 6 Прочитайте текст, выберите правильные ответы и запишите аргументы, обосновывающие выбор ответов  
Укажите признаки кругового изгиба

Запишите номера выбранных ответов без пробелов и точек и обоснование выбора

1. В различных зонах очага деформации радиус кривизны разный, имеется контакт с инструментом, площадь поверхности контакта все время изменяется
2. Касательные напряжения в плоскости радиального сечения отсутствуют
3. Наружные и внутренние поверхности заготовки являются цилиндрическими и концентрическими
4. В поперечных сечениях изгибаемой заготовки наряду с нормальными напряжениями действуют и касательные

№ 7 Прочитайте текст, выберите правильные ответы и запишите аргументы, обосновывающие выбор ответов  
Что является основной причиной неравномерности деформации по объему осаживаемой заготовки?

Запишите номера выбранных ответов без пробелов и точек и обоснование выбора

1. Наличие контактного трения

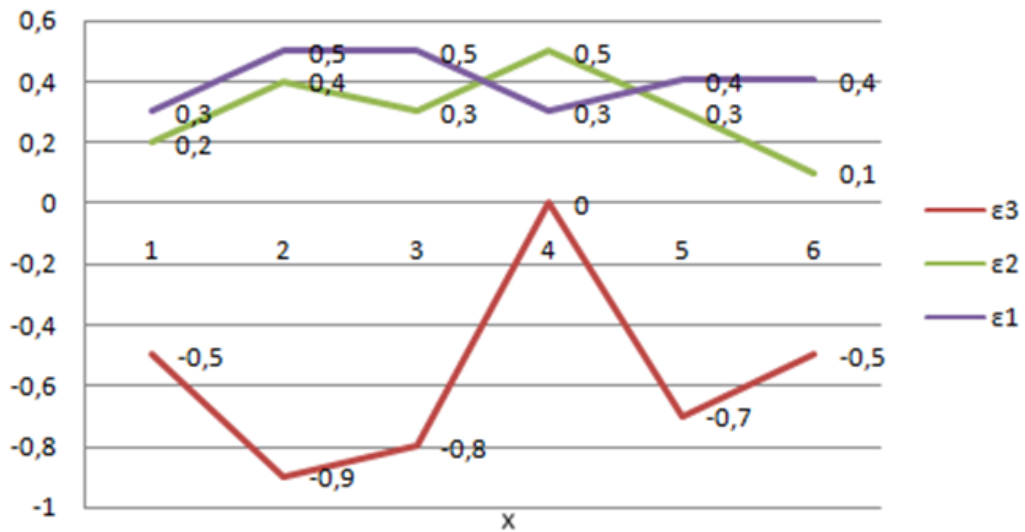
2. Высота заготовки

3. Механические свойства заготовки

4. Температура деформирования

№ 8 Прочитайте текст и запишите развернутый обоснованный ответ

Найдите ошибку в графике главных деформаций



№ 9 Прочитайте текст и запишите развернутый обоснованный ответ

В расчете усилия деформирования цилиндрических заготовок при осадке приняты следующие допущения:

1.  $\sigma_i = \text{const}$  по объему заготовки.
2. Вид деформированного состояния во всем объеме заготовки соответствует простому сжатию.
3. Боковая поверхность искривляется по радиусу.
4. Координатные оси главные.
5. Деформация монотонна.
6. Нормальные напряжения являются функцией координаты  $r$ .

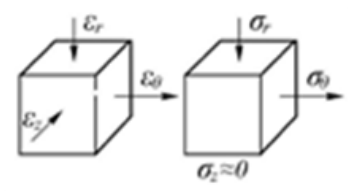
В каком из допущений сделана ошибка и почему?

№ 10 Прочитайте текст, выберите правильный ответ и запишите аргументы, обосновывающие выбор ответа

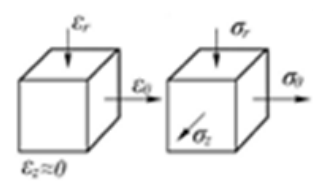
Укажите схемы деформированного и напряженного состояния для наружной зоны «широкой» заготовки при круговом изгибе

Запишите номер выбранного ответа без точки и обоснование выбора

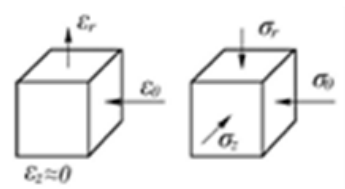
1.



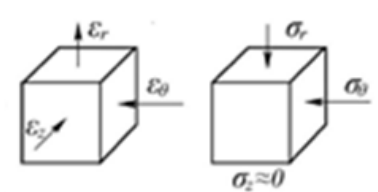
2.



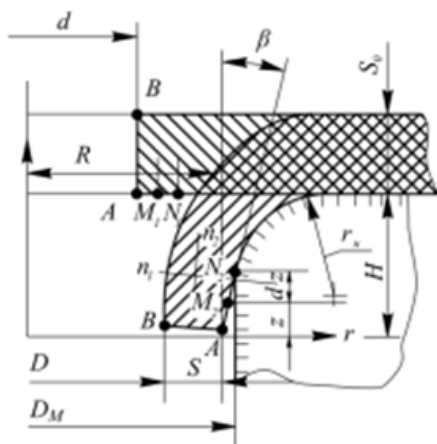
3.



4.



№ 11 Прочитайте текст, выберите правильный ответ и запишите аргументы, обосновывающие выбор ответа  
Какой вид деформированного состояния на внешней кромке борта при отбортовке (точка А)?



Запишите номер выбранного ответа без точки и обоснование выбора

1. Сдвиг
2. Сжатие
3. Растяжение
4. Простое растяжение

№ 12 Прочитайте текст, выберите правильные ответы и запишите аргументы, обосновывающие выбор ответов  
Какие допущения приняты для решения задачи определения силы при осаживании цилиндрической заготовки?

Запишите номера выбранных ответов без пробелов и точек и обоснование выбора

1. Вид деформированного состояния во всем объеме заготовки – простой сдвиг
2. Трение на контактной поверхности отсутствует
3. Интенсивность напряжений постоянна по объему заготовки
4. Вид деформированного состояния во всем объеме заготовки – простое сжатие

**ПК-1.6 - Способен проводить эксперименты по исследованию технологических параметров операций обработки металлов давлением по стандартным и заданным методикам, обрабатывать и технически грамотно оформлять результаты научно-исследовательских работ в области машиностроения**

№ 1 Прочитайте текст, выберите правильные ответы и запишите аргументы, обосновывающие выбор ответов  
Как в отчете оформляются перечисления?

Запишите номера выбранных ответов без пробелов и точек и обоснование выбора

1. - ...
- ...
2. 1) ...

2) ...

3. I) ...

II) ...

4. a) ...

б) ...

№ 2 Прочитайте текст, выберите правильные ответы и запишите аргументы, обосновывающие выбор ответов  
Какой формы ячейки используются в методе делительной сетки?

Запишите номера выбранных ответов без пробелов и точек и обоснование выбора

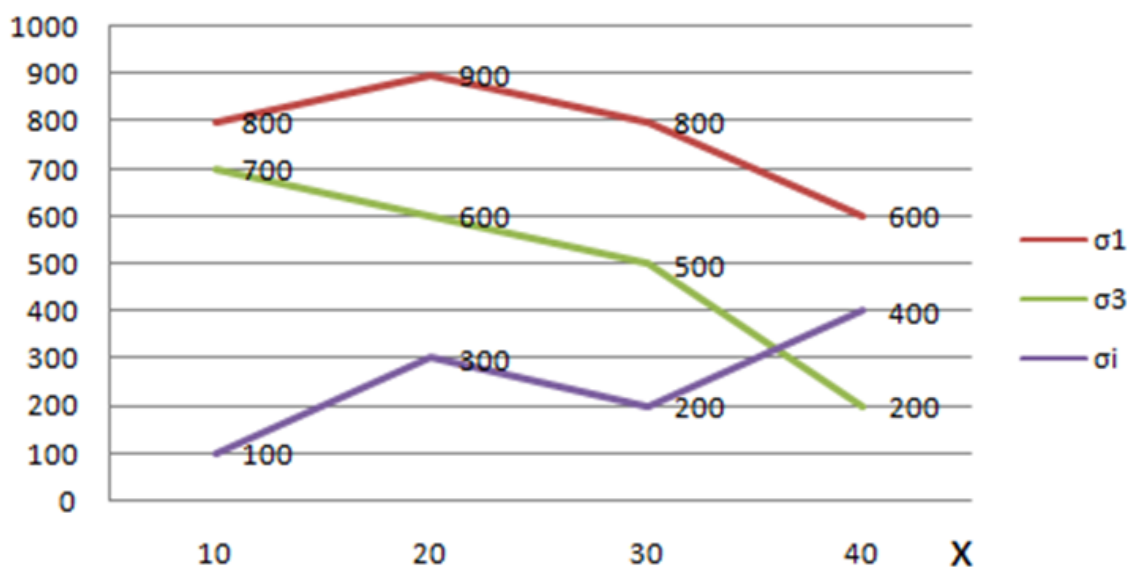
1. Треугольные

2. Квадратные

3. В форме круга

4. В форме шестигранника

№ 3 Прочитайте текст и запишите развернутый обоснованный ответ  
Найдите ошибку в графике



№ 4 Прочитайте текст и запишите развернутый обоснованный ответ

Почему в случае гибки метод делительной сетки дает результаты, отличающиеся от реальных значений даже с учетом погрешности метода?

№ 5 Прочитайте текст и установите соответствие

Какие параметры напряженно - деформированного состояния можно определить с помощью следующих методов?

К каждой позиции в левом столбце, подберите позицию из правого столбца

- |    |                                  |   |
|----|----------------------------------|---|
| 1. | Метод делительной сетки          | A. Только деформации                            |
| 2. | Метод твердости                  | B. Только напряжения                            |
| 3. | Метод микроструктурных измерений | Г. Только интенсивности деформации и напряжения |
|    |                                  | Д. Все параметры                                |

№ 6 Прочитайте текст и установите последовательность

В какой последовательности должны располагаться структурные элементы отчета о научно-исследовательской работе?

Запишите соответствующую последовательность цифр слева направо без пробелов и точек

1. Содержание

2. Титульный лист
3. Список использованных источников
4. Введение
5. Реферат
6. Основная часть
7. Приложения
8. Заключение

№ 7 Прочитайте текст и установите последовательность

Какова последовательность действий при определении параметров НДС методом делительной сетки?

Запишите соответствующую последовательность цифр слева направо без пробелов и точек

1. Расчет интенсивности деформации
2. Расчет компонентов напряжения
3. Определение интенсивности напряжения
4. Измерение ячеек сетки до деформации
6. Расчет компонентов деформации
7. Измерение ячеек сетки после деформации

№ 8 Прочитайте текст, выберите правильный ответ и запишите аргументы, обосновывающие выбор ответа

Какой тип шрифта используется для основного текста отчета?

Запишите номер выбранного ответа без точки и обоснование выбора

1. Arial
2. Times New Roman
3. GOST type A
4. Calibri

№ 9 Прочитайте текст, выберите правильный ответ и запишите аргументы, обосновывающие выбор ответа

Как оформляются в тексте основной части отчета ссылки на использованные источники?

Запишите номер выбранного ответа без точки и обоснование выбора

1. /1/
2. [1]
3. {1}
4. [a]

№ 10 Прочитайте текст, выберите правильный ответ и запишите аргументы, обосновывающие выбор ответа

Выберите правильный вариант совокупности главных компонентов деформации

Запишите номер выбранного ответа без точки и обоснование выбора

1. 0,4; 0,6; 0,2
2. - 0,3; - 0,2; 0,8
3. 0,6; - 0,8; 0,2
4. 0,1; 0,4; -0,7

№ 11 Прочитайте текст, выберите правильные ответы и запишите аргументы, обосновывающие выбор ответов

Что можно определить с помощью метода делительной сетки?

Запишите номера выбранных ответов без пробелов и точек и обоснование выбора

1. Деформации
2. Напряжения

3. Усилие

4. Твердость

№ 12 Прочитайте текст и установите соответствие

Какую точность измерения имеют следующие инструменты?

К каждой позиции в левом столбце, подберите позицию из правого столбца

1. Механический штангенциркуль

2. Ручной микрометр

3. Инструментальный микроскоп

А. 0,05  
мм

Б. 0,01  
мм

В. 0,1  
мм

Г. 1  
мм