

УТВЕРЖДАЮ
Декан факультета

_____ Матвеев П.В.
(подпись) ФИО
«___» _____ 20__

РАБОЧАЯ ПРОГРАММА ДИСЦИПЛИНЫ ФИЗИКА

Направление/специальность подготовки	12.03.02 Опототехника
Специализация/профиль/программа подготовки	Оптико-электронные приборы и системы
Уровень высшего образования	Бакалавриат
Форма обучения	Очная
Факультет	О Естественнонаучный
Выпускающая кафедра	О4 ФИЗИКА
Кафедра-разработчик рабочей программы	О4 ФИЗИКА

КУРС	СЕМЕСТР	ОБЩАЯ ТРУДОЁМКОСТЬ (ЗАЧЕТНЫХ ЕДИНИЦ)	ЧАСЫ (по наличию видов занятий)									ВИД ПРОМЕЖУТОЧНОГО КОНТРОЛЯ
			ОБЩАЯ ТРУДОЁМКОСТЬ	АУДИТОРНЫЕ ЗАНЯТИЯ				САМОСТОЯТЕЛЬНАЯ РАБОТА				
				ВСЕГО	ЛЕКЦИИ	ЛАБОРАТОРНЫЙ ПРАКТИКУМ	ПРАКТИЧЕСКИЕ ЗАНЯТИЯ	ВСЕГО	КУРСОВОЙ ПРОЕКТ	КУРСОВАЯ РАБОТА	ДРУГИЕ ВИДЫ САМОСТ. РАБОТЫ	
1	2	4	144	68	34	17	17	76	0	0	76	ЭКЗ.
2	3	4	144	68	34	17	17	76	0	0	76	ЭКЗ.
2	4	3	108	68	34	17	17	40	0	0	40	диф. зач.
ВСЕГО		11	396	204	102	51	51	192	0	0	192	

ЛИСТ СОГЛАСОВАНИЯ

РАБОЧАЯ ПРОГРАММА СОСТАВЛЕНА В СООТВЕТСТВИИ С ТРЕБОВАНИЯМИ ФЕДЕРАЛЬНОГО
ГОСУДАРСТВЕННОГО ОБРАЗОВАТЕЛЬНОГО СТАНДАРТА ВЫСШЕГО ОБРАЗОВАНИЯ (ФГОС ВО)

12.03.02 Оптотехника

год набора группы: 2024

Программу составили:

Кафедра О4 ФИЗИКА

Барбарович Марина Васильевна, ассистент

Кафедра О4 ФИЗИКА

Арешкин Алексей Георгиевич, к.ф.-м.н., доцент, доцент

Программа рассмотрена

на заседании кафедры-разработчика

рабочей программы **О4 ФИЗИКА**

Заведующий кафедрой Федоров Д.Л., д.ф.-м.н., проф.

Программа рассмотрена

на заседании выпускающей кафедры

О4 ФИЗИКА

Заведующий кафедрой Федоров Д.Л., д.ф.-м.н., проф.

РАБОЧАЯ ПРОГРАММА ДИСЦИПЛИНЫ ФИЗИКА

Разделы рабочей программы

1. ЦЕЛИ ОСВОЕНИЯ ДИСЦИПЛИНЫ
2. МЕСТО ДИСЦИПЛИНЫ В СТРУКТУРЕ ООП ВО
3. СТРУКТУРА И СОДЕРЖАНИЕ ДИСЦИПЛИНЫ
4. ФОРМЫ КОНТРОЛЯ ОСВОЕНИЯ ДИСЦИПЛИНЫ
5. УЧЕБНО-МЕТОДИЧЕСКОЕ И ИНФОРМАЦИОННОЕ ОБЕСПЕЧЕНИЕ ДИСЦИПЛИНЫ
6. МАТЕРИАЛЬНО-ТЕХНИЧЕСКОЕ ОБЕСПЕЧЕНИЕ ДИСЦИПЛИНЫ

Приложения к рабочей программе дисциплины

- Приложение 1. Аннотация рабочей программы
- Приложение 2. Технологии и формы обучения
- Приложение 3. Фонды оценочных средств

1. ЦЕЛИ ОСВОЕНИЯ ДИСЦИПЛИНЫ

Целью освоения дисциплины является формирование следующих компетенций:

ОПК-1 — способность применять естественнонаучные и общетехнические знания, методы математического анализа и моделирования в инженерной деятельности, связанной с проектированием и конструированием, технологиями производства оптоэлектронных приборов и комплексов
ОПК-3 — способность проводить экспериментальные исследования и измерения, обрабатывать и представлять полученные данные с учетом специфики оптических измерений

Формированию компетенций служит достижение следующих результатов образования:

ОПК-1

знания:

на уровне представлений:

- общей физической картины окружающего мира как системы взаимосвязанных физических явлений, различных форм движения материи;
- роли физики как фундамента для изучения дисциплин профессионального цикла, как основу для выделения в своей профессиональной деятельности физических явлений и процессов, определяющих принципы работы различных технических устройств;

на уровне понимания:

- смысла таких понятий как: физическое явление, физическая величина, модель, гипотеза, эксперимент, наблюдение, измерение, физическая теория, физический закон;
- фундаментальных понятий, законов и теорий классической и современной физики;
- на уровне воспроизведения:
 - формулировок физических законов, принципов и постулатов, их математическое выражение по основным разделам физики: физические основы механики, электричества и магнетизма, электродинамики, физики колебаний и волн, оптики, квантовой физики, атомной и ядерной физики;

умения:

теоретические:

- определить пути решения поставленной задачи, очертить круг физических законов, знание которых позволит решить данную задачу;

практические:

- решать типовые задачи по разделам курса физики;
- разбираться в принципах действия физических приборов и способах их применения;
- производить расчеты по результатам измерений;
- оценивать погрешность измеряемых величин;

навыки:

- грамотно и аргументировано излагать собственные мысли, обосновывать свои суждения;
- работать с широким кругом физических приборов и оборудования.

ОПК-3

знания:

на уровне представлений:

- взаимосвязи теории и эксперимента, служащего базой для формирования теории и подтверждающего её положения.

на уровне понимания:

- физических моделей, используемых при построении теории явления;
- границ применимости теории, построенной на определенной физической модели;
- принципов построения физических экспериментов.

на уровне воспроизведения:

- методов решения задач по описанию физических явлений;
- методов проведения эксперимента и обработки результатов измерений;
- методики оценки погрешности измеряемых величин;

умения:

теоретические:

- поставить цель проводимого эксперимента и определить последовательность действий при его проведении.

практические:

- анализировать полученные результаты и сопоставлять их с теоретически прогнозируемыми;
- представлять функциональные зависимости физических величин в виде графиков;

навыки:

- составлять научные отчеты с грамотными выводами о проделанной работе;
- работать с литературой и иными источниками информации.

2. МЕСТО ДИСЦИПЛИНЫ В СТРУКТУРЕ ООП ВО

Дисциплина **ФИЗИКА** является дисциплиной **обязательной части блока 1** программы подготовки по направлению *12.03.02 Оптотехника*.

Содержание дисциплины является логическим продолжением дисциплин: **ВЫСШАЯ МАТЕМАТИКА**.

Содержание дисциплины является основой для освоения дисциплин: **ВВЕДЕНИЕ В ОПТОТЕХНИКУ, ВОЛНОВАЯ ОПТИКА, ИСТОЧНИКИ И ПРИЕМНИКИ ИЗЛУЧЕНИЯ, ЛИНИИ ПЕРЕДАЧИ ЛУЧЕВОЙ ЭНЕРГИИ, КОМПЬЮТЕРНОЕ МОДЕЛИРОВАНИЕ ОПТИЧЕСКИХ СИСТЕМ СПЕЦИАЛЬНОГО НАЗНАЧЕНИЯ**.

Предварительные компетенции, сформированные у обучающегося до начала изучения дисциплины:

- ОПК-1 — Способен применять естественнонаучные и общетехнические знания, методы математического анализа и моделирования в инженерной деятельности, связанной с проектированием и конструированием, технологиями производства оптоэлектронных, оптических и оптико-электронных приборов и комплексов

3. СТРУКТУРА И СОДЕРЖАНИЕ ДИСЦИПЛИНЫ

Общая трудоемкость дисциплины составляет 11 з.е., 396 ч.

3.1. Содержание (дидактика) дисциплины

КУРС	СЕМЕСТР	Наименование разделов и дидактических единиц	ВСЕГО	Аудиторные занятия в контактной форме				Самостоятельная работа студентов	Формируемая компетенция, %	
				ВСЕГО	Лекции	Лабораторный практикум	Практические занятия		ОПК-1	ОПК-3
1	2	Раздел 1. Физические основы механики. 1.1. Кинематика материальной точки и твердого тела. Поступательное и вращательное движение твердого тела. 1.2. Динамика материальной точки. Понятие состояния в классической механике. Законы Ньютона. Уравнение движения. Неинерциальные системы отсчета. Силы инерции. 1.3. Законы сохранения в механике. 1.4. Динамика твердого тела. 1.5. Принцип относительности в механике. 1.6. Основы релятивистской механики. 1.7. Элементы механики сплошных сред.	76	36	18	9	9	40	20	20
1	2	Раздел 2. Молекулярная физика и термодинамика. 2.1. Основы молекулярно-кинетической теории. 2.2. Функции распределения. Классическая и квантовая статистики. 2.3. Основы термодинамики. Термодинамические функции состояния Три начала термодинамики. 2.4. Цикл Карно. Принципы построения тепловых машин. 2.5. Явление переноса. 2.6. Силы молекулярного взаимодействия. Реальные газы. Фазовые превращения.	68	32	16	8	8	36	15	15
Всего за 2 семестр			144	68	34	17	17	76	35	35
2	3	Раздел 3. Электричество и магнетизм. 3.1. Электрическое поле в вакууме. Проводники и диэлектрики в электрическом поле. 3.2. Постоянный электрический ток. 3.3. Магнитное поле в вакууме. 3.4. Магнитное поле в веществе. 3.5. Электромагнитная индукция. 3.6. Уравнения Максвелла в интегральной и дифференциальной форме. Материальные уравнения. 3.7. Квазистационарные токи. 3.8. Принцип относительности в электродинамике.	112	56	28	13	15	56	20	20
2	3	Раздел 4. Физика колебаний. 4.1. Гармонический осциллятор. Примеры гармонических осцилляторов. 4.2. Кинематика и динамика гармонических колебаний. 4.3. Свободные затухающие колебания. 4.4. Вынужденные колебания гармонического осциллятора под действием синусоидальной силы. 4.5. Физический смысл спектрального разложения. Нормальные колебания (моды). 4.6. Ангармонический осциллятор.	32	12	6	4	2	20	10	10
Всего за 3 семестр			144	68	34	17	17	76	30	30
2	4	Раздел 5. Волновые процессы. 5.1. Упругие волны. Плоская синусоидальная волна. Волновое уравнение. Энергия упругой волны. Сферические волны. Стоячие волны. Эффект Доплера. 5.2. Электромагнитные волны. Энергия электромагнитной волны. Свет как электромагнитная волна. Поляризация света. 5.3. Интерференция волн. Интерференция двух монохроматических волн. Понятие о когерентности волн. Интерференция световых волн. Интерференция в тонких пленках. 5.4. Дифракция волн. Принцип Гюйгенса-Френеля. Дифракция Френеля на круглом отверстии. Дифракция Фраунгофера на прямой бесконечной щели. Дифракционная решетка. Дифракция рентгеновских лучей, формула Вульфа-Брэгга. 5.5. Взаимодействие электромагнитных волн с веществом. Отражение и преломление света на границе раздела двух сред. Формулы Френеля. Дисперсия света. Фазовая и групповая скорость.	55	35	14	12	9	20	15	15
2	4	Раздел 6. Квантовая физика. 6.1. Тепловое излучение. Квантовая оптика. Фотоны. 6.2. Корпускулярно-волновой дуализм. Волны де Бройля. Принцип неопределенности. 6.3. Квантовые состояния. Волновая функция и ее статистический смысл. Принцип суперпозиции. 6.4. Уравнение Шредингера. Операторы физических величин. Частица в одномерной потенциальной яме. Прохождение частицы под и над потенциальным барьером. Гармонический осциллятор. 6.5. Строение атомов. Спектры водородоподобных атомов. Теория Бора. Квантовая теория строения атома. Квантовые числа. 6.6. Основы теории строения многоэлектронных атомов. Принцип Паули. Периодическая система элементов Д.И. Менделеева. 6.7. Строение молекул. Физическая природа химической связи. Ионная и ковалентная связь. Молекулярные спектры. 6.8. Атомное ядро. Строение атомного ядра. Дефект масс. Радиоактивность превращения ядер. Ядерные реакции. Элементарные частицы.	53	33	20	5	8	20	20	20
Всего за 4 семестр			108	68	34	17	17	40	35	35
Всего по дисциплине			396	204	102	51	51	192	100	100

3.2. Аудиторный практикум

№ п/п	Номер и наименование раздела дисциплины	Тема практического занятия	Объем, ауд. часов
1	Раздел 1. Физические основы механики.	Занятие 1.1. Кинематические характеристики движения: траектория, перемещение, путь, скорость, ускорение, угловая скорость, угловое ускорение. Занятие 1.2. Динамика материальной точки, законы Ньютона. Силы в механике: сила трения, сила упругости. Закон всемирного тяготения. Неинерциальные системы отсчета, силы инерции. Занятие 1.3. Импульс системы материальных точек. Работа, кинетическая и потенциальная энергия. Законы сохранения импульса и энергии. Занятие 1.4. Динамика поступательного и вращательного движения твердого тела.	9
2	Раздел 2. Молекулярная физика и термодинамика.	Занятие 2.1. Уравнение состояния идеального газа – уравнение Менделеева-Клапейрона. Основное уравнение молекулярно-кинетической теории. Молекулярно-кинетический смысл давления и температуры. Занятие 2.2. Распределение Максвелла молекул газа по скоростям. Средние скорости молекул. Распределение Больцмана молекул в силовом потенциальном поле. Барометрическая формула. Занятие 2.3. I и II начала термодинамики. КПД циклических процессов. Занятие 2.4. Энтропия	8
Всего за 2 семестр			17
3	Раздел 3. Электричество и магнетизм.	Занятие 3.1. Закон Кулона. Расчет напряженностей электростатических полей и сил взаимодействия в вакууме. Принцип суперпозиции. Занятие 3.2. Теорема Гаусса для вектора напряженности электростатического поля в вакууме. Потенциал электростатического поля, связь между напряженностью и потенциалом. Занятие 3.3. Конденсаторы. Работа и энергия электрического поля. Занятие 3.4. Закон Био-Савара-Лапласа в вакууме. Принцип суперпозиции. Теорема о циркуляции вектора магнитной индукции. Занятие 3.5. Сила Лоренца. Движение заряженной частицы в однородном магнитном поле. Сила Ампера. Поток магнитной индукции. Работа при движении проводника с током в магнитном поле. Занятие 3.6. Электромагнитная индукция. Заряд, протекающий в проводнике при возникновении ЭДС индукции. Явление самоиндукции, токи при замыкании и размыкании цепи. Энергия магнитного поля. Занятие 3.7 Электрическое и магнитное поле в веществе. Уравнения Максвелла	15
4	Раздел 4. Физика колебаний.	Занятие 4.1. Свободные, затухающие и вынужденные механические и электромагнитные колебания.	2
Всего за 3 семестр			17
5	Раздел 5. Волновые процессы.	Занятие 5.1. Характеристики плоской и сферической монохроматической волн. Волновое уравнение. Стоячие волны. Акустический эффект Доплера. Занятие 5.2. Интерференция двух монохроматических световых волн. Опыт Юнга и Френеля. Интерференция света в тонких пленках. Полосы равного наклона и равной толщины. Кольца Ньютона. Занятие 5.3. Дифракция Френеля на круглом отверстии и	9

		диске. Зоны Френеля. Векторная диаграмма. Дифракция Фраунгофера на длинной прямоугольной щели. Дифракционная решетка, ее характеристики как спектрального прибора. Занятие 5.4. Поляризация света, степень поляризации. Закон Малюса. Угол Брюстера.	
6	Раздел 6. Квантовая физика.	Занятие 6.1. Законы теплового излучения абсолютно черного тела. Формула Планка для излучательной способности абсолютно черного тела. Свойства фотонов. Внешний фотоэффект, законы Столетова, уравнение Эйнштейна. Эффект Комптона. Тормозное рентгеновское излучение. Давление света. Занятие 6.2. Волны де Бройля. Соотношения неопределенностей Гейзенберга. Квантовые состояния электрона в потенциальной яме. Занятие 6.3. Отражение частицы от потенциального барьера и ее прохождение сквозь барьер, туннельный эффект. Модель Бора для атома водорода и водородоподобных ионов. Занятие 6.4. Уравнение Шредингера для атома водорода, сферически симметричное решение. Квантовые числа электрона в многоэлектронном атоме. Ядерные реакции, энергия реакции.	8
Всего за 4 семестр			17

3.3. Лабораторный практикум

№ п/п	Номер и наименование раздела дисциплины	Тема лабораторного практикума	Объем, ауд. часов
1	Раздел 1. Физические основы механики.	Аудиторные часы отведены на сдачу Домашнего задания №1, выполнение и сдачу отчетов по вводной лабораторной работе и двум лабораторным работам из перечисленных в соответствии с индивидуальным графиком выполнения лабораторных работ в лаборатории механики и молекулярной физики. Лабораторная работа №2. Изучение равноускоренного движения на машине Атвуда. Лабораторная работа №3. Определение коэффициента трения качения. Лабораторная работа №4. Исследование центрального удара шаров. Лабораторная работа №5. Определение ускорения свободного падения при помощи математического и обратного маятников. Лабораторная работа №6. Исследование законов динамики вращательного движения твердого тела. Лабораторная работа №7. Определение момента инерции маятника Максвелла. Лабораторная работа №8. Определение момента инерции твердых тел с помощью крутильных колебаний. Лабораторная работа №9. Определение модуля кручения нити и момента инерции системы, совершающей крутильные колебания. Лабораторная работа №10. Определение скорости монтажного патрона с помощью баллистического крутильного маятника.	9
2	Раздел 2. Молекулярная физика и термодинамика.	Аудиторные часы отведены на сдачу Домашнего задания №2, выполнение и сдачу отчета по одной лабораторной работе из перечисленных в соответствии с индивидуальным графиком выполнения лабораторных работ в лаборатории механики и молекулярной физики. Лабораторная работа №1. Определение универсальной газовой постоянной методом откачки. Лабораторная работа №2. Определение отношения (C_p / C_v) методом звуковых стоячих волн. Лабораторная работа №3. Определение отношения (C_p / C_v) методом Клемана и Дезорма. Лабораторная работа №4. Определение отношения (C_p / C_v) методом Клемана и Дезорма с помощью установки ФПТ1-6Н. Лабораторная работа №5. Изучение тепловых машин на примере двигателя Стирлинга. Лабораторная работа №6. Определение коэффициента вязкости жидкости. Лабораторная работа №7. Определение коэффициента вязкости воздуха капиллярным методом. Лабораторная работа №8. Определение теплопроводности воздуха.	8
Всего за 2 семестр			17
3	Раздел 3. Электричество и магнетизм.	Аудиторные часы отведены на сдачу Домашнего задания №1 и №2, выполнение и сдачу отчетов по вводной лабораторной работе (Работа с электроизмерительными приборами) и по двум лабораторным работам из перечисленных в соответствии с индивидуальным графиком выполнения лабораторных работ в лаборатории электричества и магнетизма: Из лабораторного практикума "Электричество" Лабораторная работа №1. Изучение электростатического поля методом моделирования. Лабораторная работа №2. Законы Кирхгофа. Лабораторная работа №3. Исследование зависимости полезной мощности, КПД источника тока и силы тока в цепи от нагрузки. Лабораторная работа №5. Изучение процессов заряда и разряда конденсаторов. Лабораторная работа №6. Изучение свойств сегнетоэлектрика. Из лабораторного практикума "Электромагнетизм" Лабораторная работа №1. Измерение магнитного поля Земли. Лабораторная работа №2. Определение напряженности магнитного поля в точках оси кругового тока. Лабораторная работа №3. Изучение магнитного поля соленоида с помощью датчика Холла. Лабораторная работа №4. Исследование петли гистерезиса ферромагнетика. Лабораторная работа №5. Определение взаимной индуктивности двух контуров. Лабораторная работа №6. Изучение явления взаимной индукции.	13
4	Раздел 4. Физика колебаний.	Аудиторные часы отведены на подготовку к выполнению и сдачу отчета по одной лабораторной работе из перечисленных в соответствии с индивидуальным графиком выполнения лабораторных работ в лаборатории электричества и магнетизма. Из лабораторного практикума "Электричество" Лабораторная работа №4. Определение диэлектрических проницаемостей жидкостей и поляризуемости неполярной молекулы резонансным методом. Лабораторная работа №7 Изучение вынужденных колебаний в колебательном контуре.	4
Всего за 3 семестр			17
5	Раздел 5. Волновые процессы.	Аудиторные часы отведены на сдачу Домашнего задания №1, проведение вводного занятия по теме "Оптические приборы", выполнение и сдачу отчетов по двум лабораторным работам из перечисленных в соответствии с индивидуальным графиком выполнения лабораторных работ в лаборатории оптики. Лабораторная работа №1. Измерение показателей преломления жидкостей. Лабораторная работа №2. Определение длины световой волны при помощи бипризмы. Лабораторная работа №3. Измерения с помощью интерференционных колец Ньютона. Лабораторная работа №4. Дифракция на упорядоченном и хаотическом множествах препятствий. Лабораторная работа №5. Дифракция Фраунгофера на длинной прямоугольной щели. Лабораторная работа №6. Изучение свойств отражательной дифракционной решетки и определение с ее помощью длины световой волны. Лабораторная работа №7. Определение концентрации раствора при помощи полутеневого сахариметра. Лабораторная работа №8. Изучение законов поляризации света. Лабораторная работа №9. Изучение дисперсии света.	12
6	Раздел 6. Квантовая физика.	Аудиторные часы отведены на сдачу Домашнего задания №2, выполнение и сдачу отчета по одной лабораторной работе из перечисленных в соответствии с индивидуальным графиком выполнения лабораторных работ в лаборатории оптики. Лабораторная работа №1 (кв.опт.). Изучение спектров испускания и поглощения. Лабораторная работа №2 (кв.опт.). Исследование спектров инертных газов. Лабораторная работа №3 (кв.опт.). Изучение спектра атома водорода и определение постоянной Ридберга.	5
Всего за 4 семестр			17

3.4. Самостоятельная работа студента (СРС)

№ п/п	Номер и наименование раздела дисциплины	Содержание учебного задания	Объем, часов
1	Раздел 1. Физические основы механики.	Выполнение вводной лабораторной работы. Подготовка к лабораторным работам №1, 2. Оформление отчетов по лабораторным работам. Подготовка к защите лабораторных работ. Выполнение Домашнего задания №1. Подготовка к тестам №1, №2. Подготовка к диагностическим работам №1, №2.	40
2	Раздел 2. Молекулярная физика и термодинамика.	Подготовка к лабораторной работе № 4. Оформление отчета по лабораторной работе. Подготовка к защите лабораторной работе. Выполнение домашнего задания №2. Подготовка к тесту №3. Подготовка к диагностической работе №3.	36
Всего за 2 семестр			76
3	Раздел 3. Электричество и магнетизм.	Подготовка к лабораторным работам №1, 2, 3. Оформление отчетов по лабораторным работам. Подготовка к защите лабораторных работ. Подготовка к практическим занятиям по темам №1, 2, 3. Выполнение Домашнего задания №1. Подготовка к тестам №1, №2. Подготовка к диагностическим работам №1, №2. Подготовка к практическим занятиям по темам № 4, 5, 6, 7. Выполнение Домашнего задания №2. Подготовка к тесту №3. Подготовка к диагностической работе № 3.	56
4	Раздел 4. Физика колебаний.	Подготовка к лабораторной работе №4. Оформление отчета по лабораторной работе. Подготовка к защите лабораторной работы.	20
Всего за 3 семестр			76
5	Раздел 5. Волновые процессы.	Подготовка к лабораторным работам №1, 2. Оформление отчетов по двум лабораторным работам. Подготовка к защите лабораторных работ. Подготовка к практическим занятиям по темам №1, 2, 3, 4. Выполнение Домашнего задания №1. Повторение лекционного материала по темам "Физика колебаний" и "Волновые процессы". Подготовка к тестам №1, №2. Подготовка к диагностическим работам №1, №2.	20
6	Раздел 6. Квантовая физика.	Подготовка к лабораторной работе №3. Оформление отчета по лабораторной работе. Подготовка к защите лабораторной работы. Подготовка к практическим занятиям по темам №5, 6, 7, 8. Выполнение Домашнего задания №2. Повторение лекционного материала по темам раздела "Квантовая физика". Подготовка к тесту №3. Подготовка к диагностической работе №3.	20
Всего за 4 семестр			40

4. ФОРМЫ КОНТРОЛЯ ОСВОЕНИЯ ДИСЦИПЛИНЫ

СЕМЕСТР	НЕДЕЛИ СЕМЕСТРА																
	1	2	3	4	5	6	7	8	9	10	11	12	13	14	15	16	17
2			Отч. по ЛР		Отч. по ЛР, Тест	ДР			Отч. по ЛР, ДЗ, Тест	ДР					ДЗ, Отч. по ЛР, Тест	ДР	
3			Отч. по ЛР		Отч. по ЛР, Тест	ДР			Отч. по ЛР, Тест, ДЗ	ДР					Отч. по ЛР, ДЗ, Тест	ДР	
4					Отч. по ЛР, Тест	ДР			Отч. по ЛР, Тест, ДЗ	ДР					ДЗ, Отч. по ЛР, Тест	ДР	диф. зач.

Условные обозначения:

- ДР – диагностическая работа;
- Отч. по ЛР – отчет по ЛР;
- Тест – тест;
- ДЗ – домашнее задание;
- диф. зач. – дифференцированный зачет.

Текущий контроль успеваемости студентов проводится в дискретные временные интервалы в следующих формах:

- диагностическая работа;
- отчет по ЛР;
- тест;
- домашнее задание.

Промежуточная аттестация проводится в формах:

- экзамен;
- дифференцированный зачет.

5. УЧЕБНО-МЕТОДИЧЕСКОЕ И ИНФОРМАЦИОННОЕ ОБЕСПЕЧЕНИЕ ДИСЦИПЛИНЫ

5.1. Основная литература по дисциплине:

1. . Волновая оптика. СПб.БГТУ "ВОЕНМЕХ" им. Д. Ф. Устинова, 2018, 435 экз.
2. . Механика и молекулярная физика. СПб.БГТУ "ВОЕНМЕХ" им. Д. Ф. Устинова, 2012, эл. рес.
3. . Механика и молекулярная физика. СПб.БГТУ "ВОЕНМЕХ" им. Д. Ф. Устинова, 2012, 620 экз.
4. . Практикум по физике. СПб.БГТУ "ВОЕНМЕХ" им. Д. Ф. Устинова, 2005, 862 экз.
5. . Электромагнетизм. СПб.БГТУ "ВОЕНМЕХ" им. Д. Ф. Устинова, 2009, 423 экз.
6. . Электромагнетизм. СПб.БГТУ "ВОЕНМЕХ" им. Д. Ф. Устинова, 2006, 543 экз.
7. А. Г. Арешкин, Л. И. Васильева, С. Н. Соколова. . Основы квантовой механики и атомной физики. СПб.БГТУ "ВОЕНМЕХ" им. Д. Ф. Устинова, 2007, 408 экз.
8. А. Л. Загребин, М. Г. Леднев, Т. А. Павлова. . Магнетизм. СПб.БГТУ "ВОЕНМЕХ" им. Д. Ф. Устинова, 2007, 426 экз.
9. А. Л. Загребин, М. Г. Леднев, О. С. Алексеева. . Молекулярная физика и термодинамика. СПб.БГТУ "ВОЕНМЕХ" им. Д. Ф. Устинова, 2007, 410 экз.
10. Д. Д. Белова, Л. И. Васильева, О. С. Комарова. . Молекулярная физика. Санкт-Петербург: Изд-во БГТУ "ВОЕНМЕХ" им. Д. Ф. Устинова, 2023, 150 экз.
11. Д. Л. Фёдоров, Л. И. Васильева, Д. Ю. Иванов. . Квантовая оптика. СПб.БГТУ "ВОЕНМЕХ" им. Д. Ф. Устинова, 2021, 175 экз.
12. Д. Л. Фёдоров, Н. А. Иванова, Д. В. Виноградский. . Термодинамика. Санкт-Петербург: Изд-во БГТУ "ВОЕНМЕХ" им. Д. Ф. Устинова, 2024, 72 экз.
13. Д. Л. Фёдоров, Ю. Н. Лазарева, В. Г. Средин. . Физика. Волны. СПб.БГТУ "ВОЕНМЕХ" им. Д. Ф. Устинова, 2021, 122 экз.
14. Д. Л. Фёдоров, Ю. Н. Лазарева, В. Г. Средин. . Физика. Механика. СПб.БГТУ "ВОЕНМЕХ" им. Д. Ф. Устинова, 2016, 116 экз.
15. Д. Л. Фёдоров, Ю. Н. Лазарева, В. Г. Средин. . Физика. Основы молекулярно-кинетической теории и термодинамики. СПб.БГТУ "ВОЕНМЕХ" им. Д. Ф. Устинова, 2017, 152 экз.
16. Д. Л. Фёдоров, Ю. Н. Лазарева, В. Г. Средин. . Физика. Колебания. СПб.БГТУ "ВОЕНМЕХ" им. Д. Ф. Устинова, 2020, 135 экз.
17. Д. Л. Фёдоров, Ю. Н. Лазарева, В. Г. Средин. . Физика. Электричество. СПб.БГТУ "ВОЕНМЕХ" им. Д. Ф. Устинова, 2018, 128 экз.
18. Д. Л. Фёдоров, Ю. Н. Лазарева, В. Г. Средин. . Физика. Магнетизм. СПб.БГТУ "ВОЕНМЕХ" им. Д. Ф. Устинова, 2019, 222 экз.
19. Д. Л. Фёдоров, Ю. Н. Лазарева, В. Г. Средин. . Физика. Волновая оптика. СПб.БГТУ "ВОЕНМЕХ" им. Д. Ф. Устинова, 2022, эл. рес.
20. Д. Ю. Иванов, Т. Н. Князева, Ю. Н. Лазарева. . Введение в математическую обработку результатов эксперимента. СПб.БГТУ "ВОЕНМЕХ" им. Д. Ф. Устинова, 2018, 444 экз.
21. Д. Ю. Иванов, Ю. Н. Лазарева. . Математическая обработка результатов измерений в примерах. СПб.БГТУ "ВОЕНМЕХ" им. Д. Ф. Устинова, 2019, 247 экз.
22. Е. Г. Бородин. . Элементы теории поля в электростатике и электромагнетизме. СПб.БГТУ "ВОЕНМЕХ" им. Д. Ф. Устинова, 2014, 477 экз.
23. Е. Г. Бородин, А. Н. Старухин. . Колебания и волны. СПб.БГТУ "ВОЕНМЕХ" им. Д. Ф. Устинова, 2011, 426 экз.
24. Е. Г. Бородин, А. Н. Старухин. . Квантовая механика. СПб.БГТУ "ВОЕНМЕХ" им. Д. Ф. Устинова, 2012, 407 экз.
25. Е. Г. Бородин, Л. И. Васильева, Л. В. Котова. . Электромагнетизм. СПб.: Изд-во БГТУ "ВОЕНМЕХ" им. Д. Ф. Устинова, 2023, 92 экз.
26. Е. И. Бутиков. . Оптика. СПб.: БХВ-Петербург, 2003, 35 экз.
27. И. В. Савельев. Курс физики. Т. 3 Квантовая оптика. БГТУ "ВОЕНМЕХ" им. Д. Ф. Устинова, 2008, 298 экз.
28. И. В. Савельев. Курс общей физики. Т. 2 Электричество и магнетизм. Волны. Оптика. СПб.БГТУ "ВОЕНМЕХ" им. Д. Ф. Устинова, 2007, 279 экз.
29. И. В. Савельев. Курс общей физики. Т. 1 Механика. Молекулярная физика. БГТУ "ВОЕНМЕХ" им. Д. Ф. Устинова, 2007, 291 экз.
30. И. Е. Иродов. . Задачи по общей физике. СПб.: Лань, 2007, 683 экз.
31. И. К. Некрасов. . Основы физики атомного ядра и элементарных частиц. СПб.БГТУ "ВОЕНМЕХ" им. Д. Ф. Устинова, 2010, 469 экз.
32. Л. И. Васильева, Б. С. Губанов, Т. В. Иванова. . Методы решения задач по оптике. СПб.БГТУ "ВОЕНМЕХ" им. Д. Ф. Устинова, 2008, 838 экз.
33. Л. И. Васильева, Н. А. Иванова, Т. Н. Князева. . Электромагнитное поле в веществе. СПб.БГТУ "ВОЕНМЕХ" им. Д. Ф. Устинова, 2017, 400 экз.
34. Л. И. Васильева, Н. А. Иванова, Ю. Н. Лазарева. . Статистические распределения в физике. СПб.БГТУ "ВОЕНМЕХ" им. Д. Ф. Устинова, 2015, 254 экз.
35. М. Г. Леднев, А. Л. Загребин, А. А. Колсанова. . Постоянный электрический ток. СПб.БГТУ "ВОЕНМЕХ" им. Д. Ф. Устинова, 2013, 449 экз.
36. Н. А. Иванова, О. С. Комарова, Т. Н. Князева. . Механика. Санкт-Петербург: Изд-во БГТУ "ВОЕНМЕХ" им. Д. Ф. Устинова, 2023, 146 экз.
37. Ю. Н. Лазарева, В. А. Живулин, Д. В. Виноградский. . Электричество. СПб.: Изд-во БГТУ "ВОЕНМЕХ" им. Д. Ф. Устинова, 2023, 122 экз.

5.2. Дополнительная литература по дисциплине:

1. И. Е. Иродов. Квантовая физика. Основные законы. М.: БИНОМ. Лаборатория знаний, 2007, 3 экз.

5.3. Периодические издания:

1. Естественные и технические науки;
2. Научно-методический журнал «Информатизация образования и науки».

5.4. Перечень ресурсов информационно-телекоммуникационной сети "Интернет", необходимых для освоения дисциплины, электронные библиотечные системы:

1. <https://www.biblio-online.ru/> - Электронная библиотека ЮРАЙТ;
2. <http://mt-ebook.ru/> - Электронная библиотечная система «ГНТ»;
3. <https://ibooks.ru/> - Электронная библиотечная система ibooks.ru;
4. <http://e.lanbook.com/> - Электронная библиотечная система издательства «Лань»;
5. http://library.voenmeh.ru/jirbis2/index.php?option=com_irbis&view=irbis&Itemid=474 - Электронная библиотека университета — Фундаментальная библиотека БГТУ «ВОЕНМЕХ» им. Д.Ф. Устинова.

Современные профессиональные базы данных:

1. <https://rusneb.ru> – Национальная электронная библиотека (НЭБ);
2. <https://cyberleninka.ru/> - Научная электронная библиотека «КиберЛенинка»;
- <http://www.rfbr.ru/rffi/ru/library> - Полнотекстовая электронная библиотека Российского фонда фундаментальных исследований.

Информационные справочные системы:

1. Техэксперт – Информационный портал технического регулирования: Нормы, правила, стандарты РФ;
2. http://library.voenmeh.ru/jirbis2/index.php?option=com_irbis&view=irbis&Itemid=457 - БД ГОСТов собственной генерации БГТУ "ВОЕНМЕХ" им. Д. Ф. Устинова;
3. <http://www.consultant.ru/> - КонсультантПлюс- информационный портал правовой информации.

5.5. Программное обеспечение:

не требуется.

5.6. Информационные технологии:

взаимодействие с обучающимися посредством ЭИОС Moodle БГТУ «ВОЕНМЕХ» им. Д.Ф. Устинова.

6. МАТЕРИАЛЬНО-ТЕХНИЧЕСКОЕ ОБЕСПЕЧЕНИЕ ДИСЦИПЛИНЫ

6.1. Лекционные занятия:

специализированные требования по оборудованию отсутствуют; аудитория с посадочными местами по количеству студентов; доска.

6.2. Практические занятия:

1. Проектор;
2. Интерактивная доска.

6.3. Лабораторные занятия:

1. Установки для проведения лабораторных работ по «механика, молекулярная физика»;
2. Установка для лабораторных работ по "Электричество и магнетизм";
3. Установка для лабораторных работ по "Волновая и квантовая оптика".

6.4. Прочее:

1. рабочее место преподавателя, оснащенное компьютером с доступом в Интернет;
2. рабочие места студентов, оснащенные компьютерами с доступом в Интернет, предназначенные для работы в электронной образовательной среде.

Аннотация рабочей программы

Дисциплина **ФИЗИКА** является дисциплиной **обязательной части блока 1** программы подготовки по направлению *12.03.02 Оптотехника*. Дисциплина реализуется на факультете *О Естественных наук* БГТУ "ВОЕНМЕХ" им. Д.Ф. Устинова кафедрой *О4 ФИЗИКА*.

Дисциплина нацелена на формирование *компетенций*:

ОПК-1 способность применять естественнонаучные и общетехнические знания, методы математического анализа и моделирования в инженерной деятельности, связанной с проектированием и конструированием, технологиями производства оптоэлектронных приборов и комплексов;

ОПК-3 способность проводить экспериментальные исследования и измерения, обрабатывать и представлять полученные данные с учетом специфики оптических измерений.

Содержание дисциплины охватывает круг вопросов, связанных с изучением фундаментальных понятий, законов и теорий классической и современной физики по основным разделам: физические основы механики, электричества и магнетизма, электродинамики, физики колебаний и волн, оптики, квантовой физики, атомной и ядерной физики.

Программой дисциплины предусмотрены следующие **виды контроля**:

Текущий контроль успеваемости студентов проводится в дискретные временные интервалы в следующих формах:

- диагностическая работа;
- отчет по ЛР;
- тест;
- домашнее задание.

Промежуточная аттестация проводится в формах:

- экзамен;
- дифференцированный зачет.

Общая трудоемкость освоения дисциплины составляет **11 з.е., 396 ч.** Программой дисциплины предусмотрены лекционные занятия (**102 ч.**), практические занятия (**51 ч.**), лабораторный практикум (**51 ч.**), самостоятельная работа студента (**192 ч.**).

ТЕХНОЛОГИИ И ФОРМЫ ОБУЧЕНИЯ

Рекомендации по освоению дисциплины для студента

Трудоемкость освоения дисциплины составляет 396 ч., из них 204 ч. аудиторных занятий, и 192 ч., отведенных на самостоятельную работу студента.

Рекомендации по распределению учебного времени по видам самостоятельной работы и разделам дисциплины приведены в таблице.

Контроль освоения дисциплины производится в соответствии с Положением о текущем, рубежном контроле успеваемости и промежуточной аттестации обучающихся.

Формы контроля и критерии оценивания приведены в приложении 3 к Рабочей программе.

Наименование работы	Рекомендуемая литература	Трудоемкость, час.
Раздел 1. Физические основы механики.		
Выполнение вводной лабораторной работы. Подготовка к лабораторным работам №1, 2. Оформление отчетов по лабораторным работам. Подготовка к защите лабораторных работ. Выполнение Домашнего задания №1. Подготовка к тестам №1, №2. Подготовка к диагностическим работам №1, №2.	И. Е. Иродов. . Задачи по общей физике: СПб.: Лань, 2007 (1) Н. А. Иванова, О. С. Комарова, Т. Н. Князева. . Механика: Санкт-Петербург: Изд-во БГТУ "ВОЕНМЕХ" им. Д. Ф. Устинова, 2023 (все) Д. Ю. Иванов, Т. Н. Князева, Ю. Н. Лазарева. . Введение в математическую обработку результатов эксперимента: СПб.БГТУ "ВОЕНМЕХ" им. Д. Ф. Устинова, 2018 (все) Д. Ю. Иванов, Ю. Н. Лазарева. . Математическая обработка результатов измерений в примерах: СПб.БГТУ "ВОЕНМЕХ" им. Д. Ф. Устинова, 2019 (все) Д. Л. Фёдоров, Ю. Н. Лазарева, В. Г. Средин. . Физика. Механика: СПб.БГТУ "ВОЕНМЕХ" им. Д. Ф. Устинова, 2016 (1-4) И. В. Савельев. Курс общей физики. Т. 1 Механика. Молекулярная физика: БГТУ "ВОЕНМЕХ" им. Д. Ф. Устинова, 2007 (1-4) . Механика и молекулярная физика: СПб.БГТУ "ВОЕНМЕХ" им. Д. Ф. Устинова, 2012 (все)	40
Итого по разделу 1		40
Раздел 2. Молекулярная физика и термодинамика.		
Подготовка к лабораторной работе № 4. Оформление отчета по лабораторной работе. Подготовка к защите лабораторной работе. Выполнение домашнего задания №2. Подготовка к тесту №3. Подготовка к диагностической работе №3.	И. Е. Иродов. . Задачи по общей физике: СПб.: Лань, 2007 (2) Д. Л. Фёдоров, Н. А. Иванова, Д. В. Виноградский. . Термодинамика: Санкт-Петербург: Изд-во БГТУ "ВОЕНМЕХ" им. Д. Ф. Устинова, 2024 (все) И. В. Савельев. Курс общей физики. Т. 1 Механика. Молекулярная физика: БГТУ "ВОЕНМЕХ" им. Д. Ф. Устинова, 2007 (10-16) А. Л. Загребин, М. Г. Леднёв, О. С. Алексеева. . Молекулярная физика и термодинамика: СПб.БГТУ "ВОЕНМЕХ" им. Д. Ф. Устинова, 2007 (все) Д. Л. Фёдоров, Ю. Н. Лазарева, В. Г. Средин. . Физика. Основы молекулярно-кинетической теории и термодинамики: СПб.БГТУ "ВОЕНМЕХ" им. Д. Ф. Устинова, 2017 (все) Д. Д. Белова, Л. И. Васильева, О. С. Комарова. . Молекулярная физика: Санкт-Петербург: Изд-во БГТУ "ВОЕНМЕХ" им. Д. Ф. Устинова, 2023 (все) Л. И. Васильева, Н. А. Иванова,	36

	Ю. Н. Лазарева. . Статистические распределения в физике: СПб.БГТУ "ВОЕНМЕХ" им. Д. Ф. Устинова, 2015 (все) . Механика и молекулярная физика: СПб.БГТУ "ВОЕНМЕХ" им. Д. Ф. Устинова, 2012 (все)	
Итого по разделу 2		36
Раздел 3. Электричество и магнетизм.		
Подготовка к лабораторным работам №1, 2,3. Оформление отчетов по лабораторным работам. Подготовка к защите лабораторных работ. Подготовка к практическим занятиям по темам №1, 2, 3. Выполнение Домашнего задания №1. Подготовка к тестам №1,№2. Подготовка к диагностическим работам №1,№2. Подготовка к практическим занятиям по темам № 4, 5, 6, 7. Выполнение Домашнего задания №2. Подготовка к тесту №3. Подготовка к диагностической работе № 3.	М. Г. Леднев, А. Л. Загребин, А. А. Колсанова. . Постоянный электрический ток: СПб.БГТУ "ВОЕНМЕХ" им. Д. Ф. Устинова, 2013 (все) . Электромагнетизм: СПб.БГТУ "ВОЕНМЕХ" им. Д. Ф. Устинова, 2006 (все) Л. И. Васильева, Н. А. Иванова, Т. Н. Князева. . Электромагнитное поле в веществе: СПб.БГТУ "ВОЕНМЕХ" им. Д. Ф. Устинова, 2017 (1) И. Е. Иродов. . Задачи по общей физике: СПб.: Лань, 2007 (3) Е. Г. Бородина, Л. И. Васильева, Л. В. Котова. . Электромагнетизм: СПб.: Изд-во БГТУ "ВОЕНМЕХ" им. Д. Ф. Устинова, 2023 (все) Д. Л. Фёдоров, Ю. Н. Лазарева, В. Г. Средин. . Физика. Электричество: СПб.БГТУ "ВОЕНМЕХ" им. Д. Ф. Устинова, 2018 (все) И. В. Савельев. Курс общей физики. Т. 2 Электричество и магнетизм. Волны. Оптика: СПб.БГТУ "ВОЕНМЕХ" им. Д. Ф. Устинова, 2007 (1-8) Ю. Н. Лазарева, В. А. Живулин, Д. В. Виноградский. . Электричество: СПб.: Изд-во БГТУ "ВОЕНМЕХ" им. Д. Ф. Устинова, 2023 (все) Д. Л. Фёдоров, Ю. Н. Лазарева, В. Г. Средин. . Физика. Магнетизм: СПб.БГТУ "ВОЕНМЕХ" им. Д. Ф. Устинова, 2019 (все) . Электромагнетизм: СПб.БГТУ "ВОЕНМЕХ" им. Д. Ф. Устинова, 2009 (все) . Практикум по физике: СПб.БГТУ "ВОЕНМЕХ" им. Д. Ф. Устинова, 2005 (1-3) Е. Г. Бородина. . Элементы теории поля в электростатике и электромагнетизме: СПб.БГТУ "ВОЕНМЕХ" им. Д. Ф. Устинова, 2014 (1-7) А. Л. Загребин, М. Г. Леднев, Т. А. Павлова. . Магнетизм: СПб.БГТУ "ВОЕНМЕХ" им. Д. Ф. Устинова, 2007 (все)	56
Итого по разделу 3		56
Раздел 4. Физика колебаний.		
Подготовка к лабораторной работе №4. Оформление отчета по лабораторной работе. Подготовка к защите лабораторной работы.	. Электромагнетизм: СПб.БГТУ "ВОЕНМЕХ" им. Д. Ф. Устинова, 2009 (все) Д. Л. Фёдоров, Ю. Н. Лазарева, В. Г. Средин. . Физика. Колебания: СПб.БГТУ "ВОЕНМЕХ" им. Д. Ф. Устинова, 2020 (все) И. В. Савельев. Курс общей физики. Т. 2 Электричество и магнетизм. Волны. Оптика: СПб.БГТУ "ВОЕНМЕХ" им. Д. Ф. Устинова, 2007 (17-20) Е. Г. Бородина, А. Н. Старухин. . Колебания и волны: СПб.БГТУ "ВОЕНМЕХ" им. Д. Ф. Устинова, 2011 (1-3)	20

	И. Е. Иродов. . Задачи по общей физике: СПб.: Лань, 2007 (4)	
Итого по разделу 4		20
Раздел 5. Волновые процессы.		
Подготовка к лабораторным работам №1, 2. Оформление отчетов по двум лабораторным работам. Подготовка к защите лабораторных работ. Подготовка к практическим занятиям по темам №1, 2, 3, 4. Выполнение Домашнего задания №1. Повторение лекционного материала по темам "Физика колебаний" и "Волновые процессы". Подготовка к тестам №1, №2. Подготовка к диагностическим работам №1, №2.	Л. И. Васильева, Б. С. Губанов, Т. В. Иванова. . Методы решения задач по оптике: СПб.БГТУ "ВОЕНМЕХ" им. Д. Ф. Устинова, 2008 (1-5) Д. Л. Фёдоров, Ю. Н. Лазарева, В. Г. Средин. . Физика. Волны: СПб.БГТУ "ВОЕНМЕХ" им. Д. Ф. Устинова, 2021 (все) Е. И. Бутиков. . Оптика: СПб.: БХВ-Петербург, 2003 (1-6) . Волновая оптика: СПб.БГТУ "ВОЕНМЕХ" им. Д. Ф. Устинова, 2018 (все) Д. Л. Фёдоров, Ю. Н. Лазарева, В. Г. Средин. . Физика. Волновая оптика: СПб.БГТУ "ВОЕНМЕХ" им. Д. Ф. Устинова, 2022 (все) И. Е. Иродов. . Задачи по общей физике: СПб.: Лань, 2007 (4, 5) И. В. Савельев. Курс общей физики. Т. 2 Электричество и магнетизм. Волны. Оптика: СПб.БГТУ "ВОЕНМЕХ" им. Д. Ф. Устинова, 2007 (17-21) Е. Г. Бородина, А. Н. Старухин. . Колебания и волны: СПб.БГТУ "ВОЕНМЕХ" им. Д. Ф. Устинова, 2011 (4-8)	20
Итого по разделу 5		20
Раздел 6. Квантовая физика.		
Подготовка к лабораторной работе №3. Оформление отчета по лабораторной работе. Подготовка к защите лабораторной работы. Подготовка к практическим занятиям по темам №5, 6, 7, 8. Выполнение Домашнего задания №2. Повторение лекционного материала по темам раздела "Квантовая физика". Подготовка к тесту №3. Подготовка к диагностической работе №3.	И. Е. Иродов. . Задачи по общей физике: СПб.: Лань, 2007 (5,6) Д. Л. Фёдоров, Л. И. Васильева, Д. Ю. Иванов. . Квантовая оптика: СПб.БГТУ "ВОЕНМЕХ" им. Д. Ф. Устинова, 2021 (все) И. К. Некрасов. . Основы физики атомного ядра и элементарных частиц: СПб.БГТУ "ВОЕНМЕХ" им. Д. Ф. Устинова, 2010 (все) И. Е. Иродов. Квантовая физика. Основные законы: М.: БИНОМ. Лаборатория знаний, 2007 (все) И. В. Савельев. Курс физики. Т. 3 Квантовая оптика: БГТУ "ВОЕНМЕХ" им. Д. Ф. Устинова, 2008 (все) Л. И. Васильева, Б. С. Губанов, Т. В. Иванова. . Методы решения задач по оптике: СПб.БГТУ "ВОЕНМЕХ" им. Д. Ф. Устинова, 2008 (6-7) Е. Г. Бородина, А. Н. Старухин. . Квантовая механика: СПб.БГТУ "ВОЕНМЕХ" им. Д. Ф. Устинова, 2012 (1-10) А. Г. Арешкин, Л. И. Васильева, С. Н. Соколова. . Основы квантовой механики и атомной физики: СПб.БГТУ "ВОЕНМЕХ" им. Д. Ф. Устинова, 2007 (1-5)	20
Итого по разделу 6		20

ФОНД ОЦЕНОЧНЫХ СРЕДСТВ

Фонд оценочных средств, позволяющие оценить результаты обучения по данной дисциплине, включают в себя:

- диагностическая работа
- домашнее задание;
- тест;
- отчет по ЛР;
- экзамен;
- экзамен;
- дифференцированный зачет.

Критерии оценивания

Диагностическая работа

Диагностическая работа проводится в форме теста в ЭИОС Moodle:

- при правильном ответе менее чем на 60% вопросов - не аттестация;
- при правильном ответе на 60% вопросов и более - аттестация.

Домашнее задание

В семестре предусмотрено выполнение двух индивидуальных домашних заданий.

Домашнее задание «зачтено», если решено не менее 80% задач.

Варианты индивидуальных домашних заданий по разделам курса и требования к их оформлению представлены в УМК дисциплины и выложены в ЭИОС Moodle БГТУ «ВОЕНМЕХ».

Тест

Тесты проводятся в ЭИОС Moodle БГТУ «ВОЕНМЕХ». Каждый вариант теста содержит 100% заданий, задания соответствуют темам изучаемого раздела курса.

Тест считается сданным, если обучающийся выбрал правильный вариант ответа не менее, чем в 60% заданий.

Варианты тестовых заданий по всем разделам курса представлены в УМК дисциплины, а в ЭИОС Moodle БГТУ «ВОЕНМЕХ» – тренировочные варианты.

Отчет по ЛР

Отчет по лабораторной работе (ЛР) представляется в рукописном виде, на листах формата А4, заполненных с одной стороны. Содержание отчета должно соответствовать шаблону отчета ЛР*.

ЛР считается принятой, а студент получает за нее отметку «сдано», если

а) при проверке отчета ЛР выполнены следующие требования:

- заполнены сводные таблицы с результатами измерений;
- выполнен расчет значений искомых величин и их погрешностей; правильно представлены окончательные результаты;
- построены необходимые графики в соответствии с требованиями, изложенными в методических пособиях к лабораторным работам (требования продублированы в шаблоне отчета ЛР);
- проведен анализ полученных результатов путем сравнения их с теоретическими значениями;
- даны письменные ответы на все контрольные вопросы (контрольные вопросы приведены в методических указаниях к каждой лабораторной работе).

б) при защите ЛР:

- студент в форме краткого сообщения изложил результаты выполненной им ЛР;
- студент в устной форме верно ответил на все вопросы, заданные преподавателем, из числа контрольных вопросов, ответы на которые даны в отчете по ЛР.

Если не выполнено хотя бы одно из выше указанных требований к отчету или дан неверный ответ на вопрос, то отчет подлежит доработке или студенту рекомендуется изучить вопрос, на который он ответил неверно.

*Шаблон ЛР размещен в ЭИОС Moodle БГТУ «ВОЕНМЕХ» и в УМК дисциплины.

Экзамен

Для промежуточной аттестации, проводимой в форме экзамена, используются билеты с заданиями. Типы заданий: 2 теоретических вопроса, и расчетная задача.

Оценка выставляется после собеседования со студентом в соответствии со следующими критериями:

- Оценка «отлично» выставляется, если обучающийся дал полные, исчерпывающие ответы на все теоретические вопросы билета, полностью и верно решил расчетную задачу, может ответить на дополнительный вопрос по теме курса.
- Оценка «хорошо» выставляется, если обучающийся предоставил ответы на все знания в билете, но имеются ошибочные рассуждения.
- Оценка «удовлетворительно» выставляется, если обучающийся верно решил задачу или предоставил ответы на только на 2 теоретических вопроса.
- Оценка «неудовлетворительно» выставляется, если обучающийся не предоставил ответов на задания билета.

Варианты экзаменационных билетов, а также список теоретических вопросов к экзамену представлены в УМК дисциплины, а в ЭИОС Moodle БГТУ «ВОЕНМЕХ» – тренировочные варианты.

Экзамен

Для промежуточной аттестации, проводимой в форме экзамена, используются билеты с заданиями. Типы заданий: 2 теоретических вопроса, и расчетная задача.

Оценка выставляется после собеседования со студентом в соответствии со следующими критериями:

- Оценка «отлично» выставляется, если обучающийся дал полные, исчерпывающие ответы на все теоретические вопросы билета, полностью и верно решил расчетную задачу, может ответить на дополнительный вопрос по теме курса.
- Оценка «хорошо» выставляется, если обучающийся предоставил ответы на все знания в билете, но имеются ошибочные рассуждения.
- Оценка «удовлетворительно» выставляется, если обучающийся верно решил задачу или предоставил ответы на только на 2 теоретических вопроса.
- Оценка «неудовлетворительно» выставляется, если обучающийся не предоставил ответов на задания билета.

Варианты экзаменационных билетов, а также список теоретических вопросов к экзамену представлены в УМК дисциплины, а в ЭИОС Moodle БГТУ «ВОЕНМЕХ» – тренировочные варианты.

Дифференцированный зачет

Для промежуточной аттестации, проводимой в форме дифференцированного зачета, используется итоговый тест, содержащий от 12 до 15 заданий. Тест проводится в ЭИОС Moodle БГТУ «ВОЕНМЕХ».

Тест считается сданным, если обучающийся выбрал правильный вариант ответа не менее, чем в 51% заданий.

Критерии пересчета результатов теста в оценку:

- 51 - 74% – зачтено-удовлетворительно;
- 75 - 84% – зачтено-хорошо;
- 85 - 100% – зачтено-отлично.

Варианты тестовых заданий представлены в УМК дисциплины, а в ЭИОС Moodle БГТУ «ВОЕНМЕХ» – тренировочные варианты.

КУРС	СЕМЕСТР	Наименование разделов и дидактических единиц	ВСЕГО	Аудиторные занятия в контактной форме				Самостоятельная работа студентов	Формируемая компетенция, %		НАИМЕНОВАНИЕ ОЦЕНОЧНОГО СРЕДСТВА
				ВСЕГО	Лекции	Лабораторный практикум	Практические занятия		ОПК-1	ОПК-3	
1	2	Раздел 1. Физические основы механики.	76	36	18	9	9	40	20	20	Отчет по ЛР, Домашнее задание, Тест
1	2	Раздел 2. Молекулярная физика и термодинамика.	68	32	16	8	8	36	15	15	Отчет по ЛР, Домашнее задание, Тест
Всего за 2 семестр			144	68	34	17	17	76	35	35	
2	3	Раздел 3. Электричество и магнетизм.	112	56	28	13	15	56	20	20	Отчет по ЛР, Домашнее задание, Тест
2	3	Раздел 4. Физика колебаний.	32	12	6	4	2	20	10	10	Отчет по ЛР
Всего за 3 семестр			144	68	34	17	17	76	30	30	
2	4	Раздел 5. Волновые процессы.	55	35	14	12	9	20	15	15	Отчет по ЛР, Домашнее задание, Тест
2	4	Раздел 6. Квантовая физика.	53	33	20	5	8	20	20	20	Отчет по ЛР, Домашнее задание, Тест
Всего за 4 семестр			108	68	34	17	17	40	35	35	
Всего по дисциплине			396	204	102	51	51	192	100	100	

Критерии оценивания

ОПК-1

Вопросы открытого типа:

№ 1 Дополните утверждение.

Тело, брошенное горизонтально с некоторой высоты, падает на землю. Если учитывать сопротивление воздуха, то полная механическая энергия тела _____.

№ 2

Расчетная задача (возможно 100 вариантов).

Тело массой $m = \{1\}$ кг брошено с поверхности земли с начальной скоростью $v_0 = \{4\}$ м/с под углом 60 градусов к горизонту и через некоторое время достигло максимальной высоты. Найти импульс тела p в данный момент времени. Ответ дать в (кг*м/с). Сопротивление воздуха не учитывать.

№ 3

Расчетная задача (возможно 100 вариантов).

Определить полную кинетическую энергию $E_{кин}$ обруча массой $m = \{2\}$ кг, катящегося без проскальзывания со скоростью $v_c = \{1\}$ м/с? Ответ выразите в джоулях (Дж) с точностью до целых.

№ 4

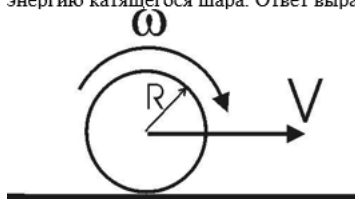
Тело массой $M = 4$ кг соединен с телом массой $m = 1$ кг невесомой и нерастяжимой нитью, перекинутой через невесомый блок (см. рис). Ускорение, с которым движутся грузы равно _____. Принять ускорение свободного падения $g = 10 \frac{м}{с^2}$. Вычисления провести в СИ. В ответ записать только целое число.



№ 5

Расчетная задача (возможно 100 вариантов)

Шар массы $m = \{1,2\}$ кг и радиуса R катится по гладкой горизонтальной плоскости со скоростью центра масс $V = \{7,2\}$ м/с. Найдите кинетическую энергию катящегося шара. Ответ выразите в Дж и округлите до сотых.



№ 6

Дополните утверждение.

Наименьшее число независимых координат, которые необходимо задать для полного определения положения тела в пространстве, называется _____.

№ 7 Дополните утверждение.

Термодинамические системы, которые не обмениваются с внешней средой ни энергией, ни веществом, называются _____.

№ 8

Если $V_{\text{вер}}$ – наиболее вероятная скорость молекул газа, $V_{\text{кв}}$ – средняя квадратичная скорость молекул того же газа в распределении Максвелла при заданной температуре, то отношение скоростей $\frac{V_{\text{кв}}}{V_{\text{вер}}}$ равно _____.

Ответ записать с точностью до сотых

№ 9

В закрытом сосуде находится идеальный газ. Если увеличить среднюю квадратичную скорость молекул газа на 11 %, то давление в сосуде возрастет в _____ раз.

Ответ записать с точностью до сотых.

№ 10

Если в замкнутом баллоне при неизменной массе газа температура увеличилась от 166°C до 429°C , то давление газа увеличилось в _____ раз.

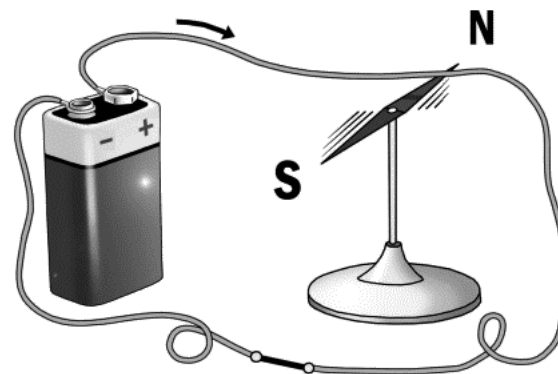
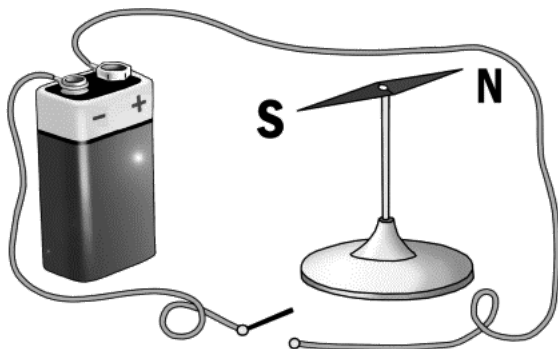
Ответ записать с точностью до сотых.

№ 11 Дополните утверждение.

Если поместить в конденсатор диэлектрик с большей диэлектрической проницаемостью, то его емкость _____.

№ 12 Дополните утверждение.

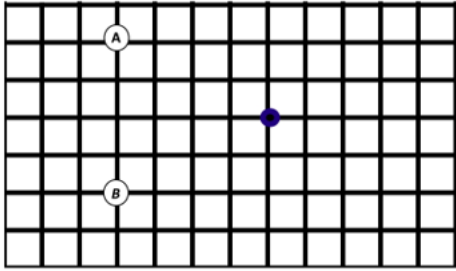
На рисунке представлен опыт _____.



№ 13

Дополните утверждение.

Согласно представленному ниже рисунку, вектор напряженности электростатического поля в точке (поле создается двумя точечными зарядами $A = +q$, $B = -q$) направлен _____.



№ 14

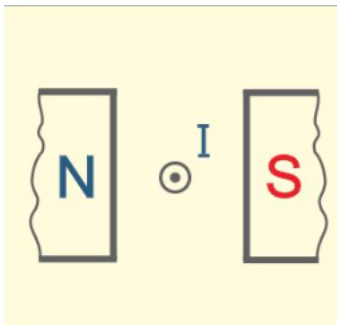
На уединённой неподвижной проводящей сфере радиусом $R = \{0,5\}$ м находится положительный заряд Q . Сфера находится в вакууме. Напряжённость электростатического поля сферы на ее поверхности $E(R) = \{36\}$ В/м. Найти потенциал $\varphi(0)$ в ее центре. Ответ выразите в вольтах (В) с точностью до целых.

№ 15

Чему равен поток вектора напряженности электрического поля через поверхность сферы, в центре которой находится диполь с моментом $p = qd$ ($q = 5$ нКл).

№ 16 Дополните утверждение.

На рисунке изображен проводник с током между полюсами магнита. Сила Ампера направлена _____.

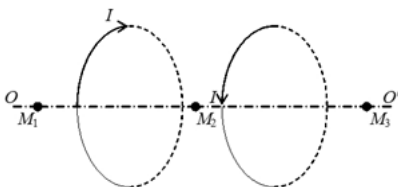


№ 17 Чему равна циркуляция вектора индукции магнитного поля B для заданного контура L :



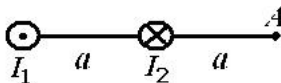
№ 18

Чему равен вектор индукции магнитного поля B в точке M_2 , если поле создается двумя одинаковыми круговыми витками с одинаковым током I .



№ 19

Магнитное поле создается двумя длинными параллельными прямолинейными проводниками, перпендикулярными плоскости рисунка, по которым текут токи I_1 и I_2 . Если $I_1 = 2I_2$, то чему равен вектор индукции магнитного поля B в точке A .



№ 20

Дополните утверждение.

Электрон влетает в поле под углом α ($0^\circ < \alpha < 90^\circ$), тогда его траектория движения представляет собой _____.

№ 21 Выберите из предложенных вариантов, чтобы выражение было верным.

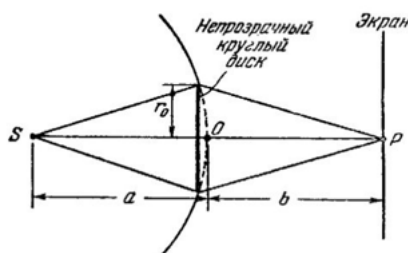
Ширина интерференционной полосы будет шире (зеленого /красного/ фиолетового) цвета.

№ 22 Расчетная задача (возможно 100 вариантов).

Установка для получения колец Ньютона освещается монохроматическим светом с длиной волны $\lambda = \{500\}$ нм, падающим по нормали к поверхности пластинки. Пространство между линзой и стеклянной пластинкой заполнено водой с показателем преломления $n = 1,33$. Найти толщину h слоя воды между линзой и пластинкой в том месте, где наблюдается первое $k = \{1\}$ темное кольцо в отраженном свете. Ответ дайте в $\cdot 10^{-9}$ (м), округлив до целых.

№ 23 Дополните утверждение.

На круглый непрозрачный диск падает по нормали сферическая световая волна. Точка наблюдения находится на оси, проходящей через центр диска, на некотором расстоянии. Если диск закрыл первые 5 зон Френеля, то в центре дифракционной картины наблюдается _____ пятно. Пример ответа: темное.



№ 24 Расчетная задача (возможно 100 вариантов).

Найти отношение давления света P_1 при нормальном падении на поверхность с коэффициентом отражения $\rho = \{1\}$ к давлению света P_2 на зачерненную поверхность при угле падения $\varphi = \{45^\circ\}$.

№ 25 Расчетная задача (возможно 100 вариантов).
На дифракционную решетку нормально падает монохроматический свет с длиной волны $\lambda = \{600\}$ нм. Найти общее число N дифракционных максимумов, которые дает эта решетка, если ее период $d = \{2\}$ мкм.

№ 26 Расчетная задача (возможно 100 вариантов).

Радиостанция работает на частоте $\nu = \{10\}$ МГц. Какова длина λ излучаемых радиоволн? Ответ выразите в (м) и округлите до сотых.

№ 27 Дополните утверждение.

Геометрическое место точек среды, колеблющихся в одной и той же фазе, называют волновой _____, геометрическое место точек, до которых доходят колебания к моменту времени t , называется волновым _____.

№ 28 Дополните утверждения.

Волной называют процесс распространения _____ с течением _____.

Бегущая механическая волна переносит _____, но не переносит вещество.

№ 29 На дифракционную решетку падает нормально монохроматический свет с длиной волны 450 нм. Ширина решетки 4 см, общее число щелей 10000. Наибольший порядок спектра, который можно получить с помощью этой решетки равен...

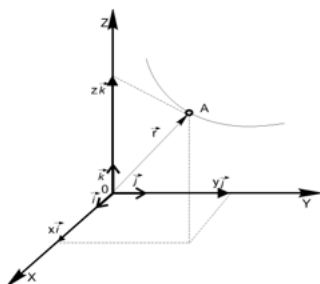
№ 30 На щель шириной $a = 6\lambda$ нормально падает параллельный пучок монохроматического света с длиной волны λ . Под каким углом дифракции будут наблюдаться третий дифракционный минимум.

Ответ записать числом градусов (например, 18)

Вопросы закрытого типа:

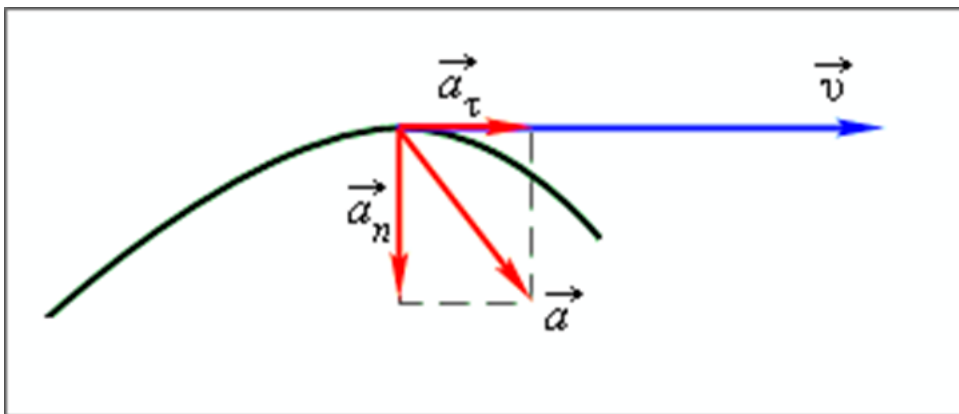
№ 1

Конец радиуса-вектора описывает при движении материальной точки А:



1. траекторию движения
2. пройденный путь
3. перемещение

№ 2 Рассмотрите изображение, установите соответствие векторных величин и их физического смысла.



1. тангенциальное ускорение
2. нормальное ускорение
3. ускорение

А. Характеризует быстроту изменения вектора скорости

Б. Характеризует изменение вектора скорости по величине

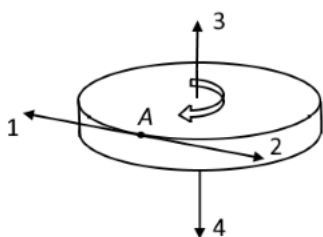
В. Характеризует изменение вектора скорости по направлению

№ 3 Точка М движется равномерно по свертывающейся плоской спирали. Как изменяется модуль ускорения точки?



1. не изменяется
2. уменьшается
3. увеличивается

№ 4 Диск радиуса R вращается вокруг вертикальной оси равноускоренно (см. рисунок). Укажите направление вектора углового ускорения точки А обода диска.



№ 5

Два автомобиля с одинаковыми масса m движутся со скоростями v и $2v$ относительно Земли в одном направлении. Импульс второго автомобиля в системе отчета, связанной с первым автомобилем равен...

Выберите один ответ:

1. $3mv$
2. $2mv$
3. mv
4. 0

№ 6

Какое (с точностью до целых) значение температуры по шкале Цельсия соответствует температуре 200K по абсолютной шкале?

Выберите один ответ:

1. $+473\text{ }^{\circ}\text{C}$
2. $-73\text{ }^{\circ}\text{C}$
3. $-473\text{ }^{\circ}\text{C}$
4. $+73\text{ }^{\circ}\text{C}$

№ 7 Соотнесите верные утверждения.

1. Диффузия
2. Испарение
3. Плавление
4. Вязкость
5. Теплопроводность
6. Сублимация

А. Фазовый переход

Б. Явление переноса

№ 8 Число степеней свободы для трехатомного газа, молекулы которого – три материальные точки, соединенные жесткой связью (треугольник), равно:

1. 3
2. 5
3. 6

№ 9 В скольких точках могут пересекаться изотерма и адиабата на диаграмме?

1. Одной
2. Двух
3. Трех и более

№ 10

Изменение энтропии в адиабатическом процессе:

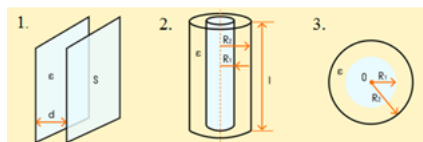
1. $=0$
2. >0
3. <0

№ 11 Какие из перечисленных ниже частиц имеют положительный заряд?

1. Атом
2. Электрон
3. Протон
4. Нейтрон
5. Фотон

№ 12

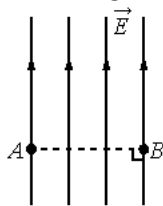
Соотнесите тип конденсатора с его изображением.



- А. Сферический
- Б. Плоский
- В. Цилиндрический

№ 13

На рисунке изображены линии напряжённости однородного электростатического поля. Как изменяется потенциал этого поля при перемещении из точки A в точку B , если отрезок AB перпендикулярен линиям напряжённости?

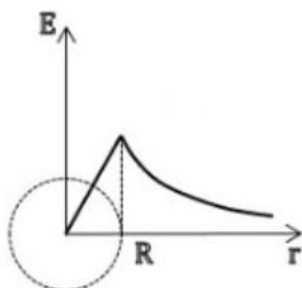


1. Повышается
2. Понижается
3. Не изменяется

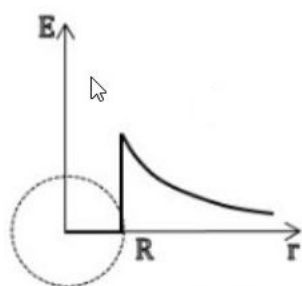
№ 14

Какой из приведенных графиков правильно отражает зависимость вектора напряжённости электростатического поля от расстояния r до центра равномерно заряженной по поверхности сферы радиуса R ?

1.



2.



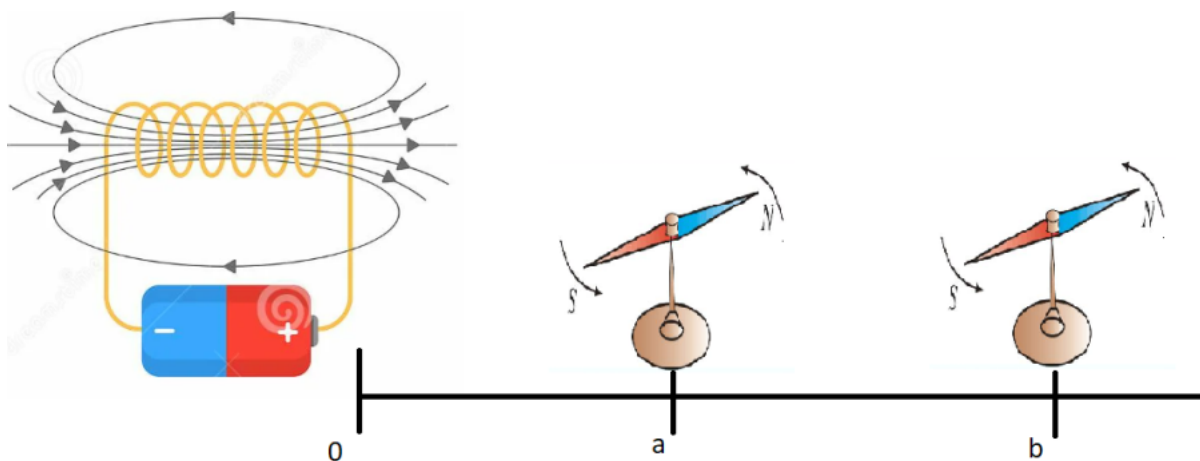
№ 15

В каком из перечисленных ниже случаев электрическое поле можно считать однородным?

1. поле бесконечной заряженной плоскости
2. поле двух равных по модулю и противоположных по знаку точечных зарядов
3. поле заряженного шара
4. поле между двумя бесконечными разноименно заряженными плоскостями
5. поле бесконечной заряженной нити


Ответ запишите в виде последовательности цифр.

№ 16 На какой из компасов магнитное поле контура будет действовать сильнее



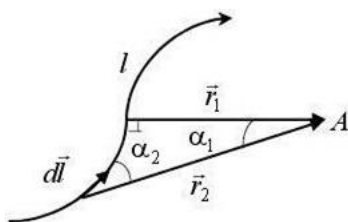
1. a
2. b
3. одинаково

№ 17 Какой из вариантов соответствует схеме расположения линий индукции магнитного поля вокруг прямолинейного проводника с током, перпендикулярного плоскости рисунка?



№ 18

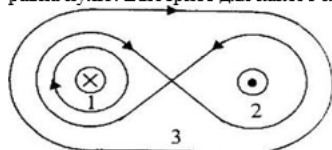
Закон Био-Савара-Лапласа определяет магнитную индукцию $d\vec{B}$ поля, создаваемого линейным элементом проводника $d\vec{l}$ с током I в некоторой точке A . Какой радиус-вектор и угол, изображенные на рисунке, входят в формулу?



1. r_1 и α_1
2. r_2 и α_2
3. r_1 и α_2
4. r_2 и α_1

№ 19

Циркуляция вектора магнитной индукции \vec{B} по замкнутому контуру равна нулю. Выберите для какого контура это утверждение верно?



1. Контур в виде восьмерки 2
2. Кругового контура 1
3. для всех
4. Овального контура 3

№ 20

Вставьте нужную фразу и запишите в ответ утверждение

В замкнутом проводнике возникает индукционный ток при.....

1. движении проводника в однородном магнитном поле
2. нахождении проводника в магнитном поле
3. изменении во времени магнитного потока, через поверхность, ограниченную этим проводником

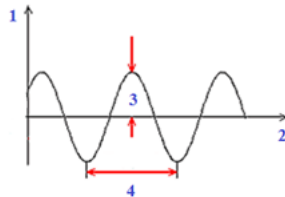
№ 21

Волны от двух когерентных источников приходят в одинаковой фазе. Чему равна амплитуда A результирующего колебания в этой точке, если амплитуда колебаний в каждой волне равна α ?

1. Нет правильного ответа
2. $A = 0$
3. $A = 2\alpha$
4. $A = \alpha$

№ 22

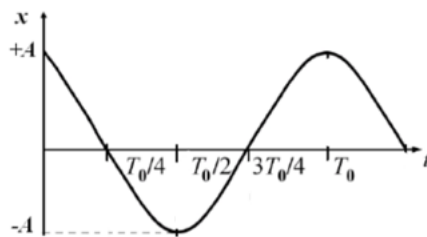
Установите соответствие между номерами и характеристиками механического колебания, представленного на рисунке.



- А. Амплитуда
Б. Период
В. Время
Г. Смещение

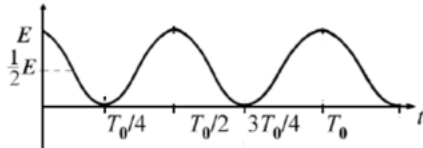
№ 23

Рассмотрите график гармонического колебания $x = A \cos(\omega t)$.

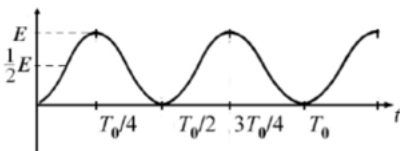


Соотнесите вид энергии с ее графиком.


1.



2.



3.



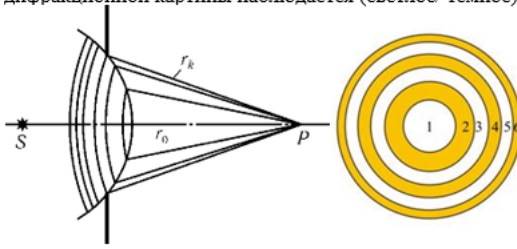
- А. Полная механическая энергия
Б. Потенциальная энергия
В. Кинетическая энергия

№ 24 Выберите из предложенных вариантов, чтобы выражение было верным.

Если в жидкой или газообразной среде приемник волн движется в противоположную сторону от источника волн, то частота волн, воспринимаемых приемником, (увеличивается /уменьшается/ не изменяется) относительно частоты колебаний, генерируемых источником.

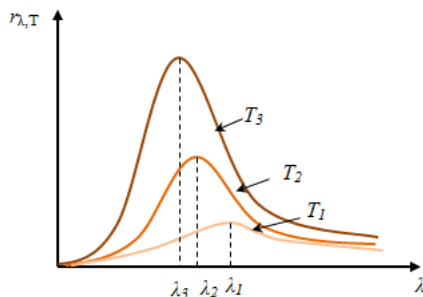
№ 25

Выберите из предложенных вариантов, чтобы выражение было верным.
 На диафрагму с круглым отверстием падает по нормали сферическая световая волна. Точка наблюдения находится на оси отверстия на некотором расстоянии. Если открыты 2 зоны Френеля, то в центре дифракционной картины наблюдается (светлое/ темное) пятно.



№ 26

Рассмотрите зависимость испускательной способности абсолютно черного тела (АЧТ) от длины волны. Укажите номер, соответствующий минимальной температуре АЧТ?



№ 27 Как изменится кинетическая энергия фотоэлектронов при фотоэффекте, если увеличить частоту падающего на металл света, не изменяя общую мощность излучения?

1. Не изменится
2. Увеличится
3. Уменьшится

№ 28


Установите соответствие между номерами и предложенными частями формулы эффекта Комптона.

$$1 = 2 - 3 = 4 \cdot (5 - 6)$$

- А. $\cos \theta$
- Б. λ
- В. λ'
- Г. 1
- Д. $\Delta \lambda$
- Е. λ_c

№ 29

На рисунке приведены спектр поглощения разреженных атомарных паров неизвестного вещества и спектры поглощения атомарных паров известных элементов.

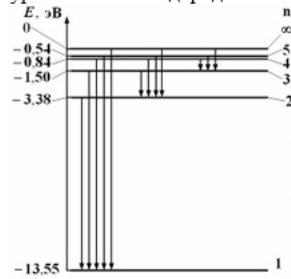


Проанализировав спектры, можно утверждать, что неизвестное вещество содержит:

1. только водород (H) и гелий (He)
2. только натрий (Na) и водород (H)
3. водород (H), гелий (He) и натрий (Na)
4. натрий (Na), водород (H) и другие элементы, но не гелий (He)

№ 30

На рисунке представлен фрагмент диаграммы энергетических уровней атома водорода.



Минимальный импульс имеет фотон, излучаемый при переходе:

1. С уровня 5 на уровень 3
2. С уровня 4 на уровень 3
3. С уровня 2 на уровень 1
4. С уровня 3 на уровень 2

ОПК-3

Вопросы открытого типа:

№ 1

Тело массой m движется со скоростью v , абсолютно неупруго сталкивается с телом массой $2m$, которое покоится. Определите с какой скоростью движутся тела после столкновения.

№ 2

Положение материальной точки А задается радиус-вектором: $\vec{r} = 6,3 \vec{i} + 2,3 \vec{j} + 1,2 \vec{k}$. Чему равна координат z ?

№ 3

Что в физике называют плечом силы относительно некоторой точки О

№ 4

Из чего складывается кинетическая энергия тела при плоском движении?

№ 5

Тело массой 5 кг соскальзывает вниз по наклонной плоскости длиной 3 м и углом наклона 30° .
Найти работу силы тяжести

№ 6

У идеального теплового двигателя, работающего по циклу Карно, нагреватель имеет температуру 600 К, холодильник — 200 К. Чему равен КПД этого двигателя?

№ 7

Укажите в чем в системе СИ измеряется количество вещества

№ 8

Бесконечно малое изменение внутренней энергии идеального газа дается соотношением:

$$dU = C_V \nu dT$$

Какая физическая величина обозначена в соотношении символом C_V ?

№ 9

Что в классической статистической физике гласит закон равнораспределения?

№ 10

Какому процессу соответствует график на рисунке?



№ 11

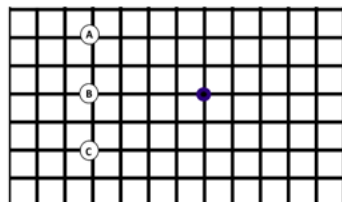
Найти силу взаимодействия двух точечных зарядов. Ответ выразить в Ньютонах, округлить до сотых.
 $q_1 = 3,5 \text{ мкКл}$; $q_2 = 2 \text{ мкКл}$; $r = 47,2 \text{ см}$

№ 12

Заряженный до напряжения $U = 300 \text{ В}$ конденсатор емкостью $C_1 = 50 \text{ мкФ}$ соединяют параллельно с незаряженным конденсатором емкостью $C_2 = 100 \text{ мкФ}$. Какое при этом напряжение установится на втором конденсаторе?

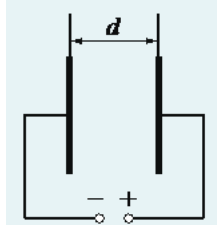
№ 13

Какое направление имеет вектор напряженности электростатического поля \vec{E} в точке, если поле создается тремя точечными зарядами $A = +q$, $B = -q$, $C = +q$. Размер 1 клетки $a \times a$. Ответ запишите словом



№ 14

Как изменится энергия запасенная в конденсаторе, если не отключая его от источника, увеличит расстояние между пластинами? Ответ запишите одним словом



№ 15

Какая физическая величина определяется следующим интегралом?

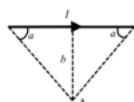
$$\Phi_E = \oint_S \vec{E} \cdot d\vec{S}$$

№ 16

Может ли магнитная сила совершить работу над электрическим зарядом?

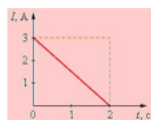
№ 17

Расчетная задача |



Найти магнитную индукцию в точке A (см. рис.), если в проводнике течет ток силой $\{I\} = 3$ А, расстояние $\{h\} = 27$ см, а угол $\alpha = 45^\circ$. Ответ выразите в мкТл округлив до сотых.

№ 18



На рисунке представлен график изменения силы тока в катушке с индуктивностью $L = 6$ Гн. Найти модуль ЭДС самоиндукции

№ 19

Расчетная задача |

Электрон влетает в однородное магнитное поле с индукцией $B = \{8,3\} \cdot 10^3$ Тл, со скоростью $v = \{1,2\} \cdot 10^7$ м/с, под углом $\alpha = 90^\circ$ к силовым линиям. Найти силу Лоренца действующую на электрон. Ответ выразить в нН и округлить до сотых. Заряд электрона $e = 1,6 \cdot 10^{-19}$ Кл
нано - 10^{-9} ; пико - 10^{-12}

№ 20

Расчетная задача |

Плоскую рамку площадью $S = \{0,5\}$ м² поместили в однородное магнитное поле с индукцией $B = \{6\}$ Тл, плоскость рамки перпендикулярна линиям магнитной индукции. Чему равен момент силы, который начнет действовать на рамку, если по ней пропустить ток $I = \{4\}$ А ?

№ 21

Порция электромагнитной волны – это?

№ 22

Рыболов заметил, что при прохождении волны поплавок за 10 с совершает 20 колебаний, а расстояние между следующими друг за другом гребнями волны на поверхности воды 1.2 м. Найдите скорость распространения волны

№ 23

Переведите энергию фотона из системы Си в эВ.
 $h\nu = 3,4 \cdot 10^{-19}$ Дж. Ответ округлите до сотых.

№ 24

В колебательном контуре заряд на обкладках конденсатора изменяется по закону: $q = 9 \cos(1,8 t + \pi/6)$ Кл
Чему равно амплитудное значение силы тока в катушке?

№ 25

Расстояние от источников до экрана уменьшили в 4 раза. Как изменится ширина интерференционной полосы при прочих равных условиях?

№ 26

Пучок естественного света интенсивностью I_0 падает на идеальный поляризатор. Чему равна интенсивность прошедшего света?

№ 27

Под каким углом наблюдается зеленая линия ($\lambda = 500$ нм) в спектре первого порядка, полученном с помощью дифракционной решетки с периодом 1 мкм?

№ 28

Работа выхода электрона с поверхности катода при фотоэффекте 3,4эВ. Определить наименьший запирающий потенциал, необходимый для прекращения фототока, если поверхность металла освещается излучением с длиной волны 0,204мкм. Ответ дать по модулю и представить с точностью до сотых.

№ 29

Электрон проходит ускоряющую разность потенциалов 52 В. Масса электрона $m = 9,1 \cdot 10^{-31}$ кг, постоянная Планка $h = 6,63 \cdot 10^{-34}$ Дж•с, элементарный заряд $e = 1,6 \cdot 10^{-19}$ Кл. Длина волны де Бройля электрона равна

№ 30

Звуковая волна описывается уравнением $\xi = 5 \cos(6280t - 20x)$ мм, где множитель при t выражен в рад/с, а множитель при x – в рад/м. Найти отношение длины волны к амплитуде смещения частиц среды.

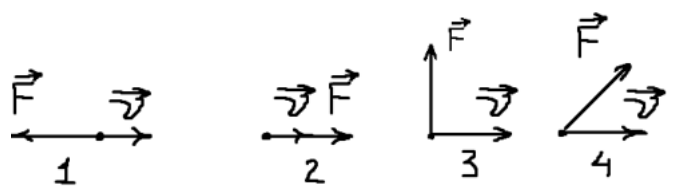
Вопросы закрытого типа:

№ 1 Проведите аналогию между поступательным и вращательными движениями:

1. p – импульс 1. I – момент инерции
2. m – масса 2. M – момент силы
3. F – сила 3. L – момент импульса

№ 2

На рисунке представлены четыре различных варианта взаимного расположения вектора силы, действующей на тело, и скорости тела. В каком случае работа силы отрицательна?



№ 3 Выберите единицы измерения работы в СИ:

1. Джоуль
2. Паскаль
3. Ньютон

№ 4 Энергия не возникает и не исчезает, она может передаваться от одного тела к другому, а также один вид энергии может превращаться в другой.

Выберите один ответ:

Верно

Неверно

№ 5

При движении точки по окружности дуговая координата зависит от времени по закону:

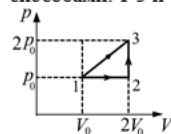
$$l = 2t^2,$$

где l – в метрах, t – в секундах. Как изменяется со временем угол между векторами полного ускорения и вектором скорости?

- ☐ увеличивается
- ☐ уменьшается
- ☐ не изменяется
- ☐ сначала уменьшается, потом увеличивается

№ 6

Идеальный газ переходит из состояния 1 в состояние 3 двумя способами: 1-3 и 1-2-3. Отношение работ A_{1-3}/A_{1-2-3} равно



- 1,5
- 2
- 3
- 4

№ 7 Чтобы нагреть 96 г молибдена на 1К, нужно передать ему количество теплоты, равное 24 Дж. Чему равна удельная теплоёмкость этого вещества?

- 250 Дж/кг К
- 500 Дж/кг К
- 125 Дж/кг К
- 750 Дж /кг К

№ 8

Какое устройство является примером тепловой машины?

- ☐ Локомотив
- ☐ Водонагреватель
- ☐ Холодильник
- ☐ Микроволновая печь

№ 9 Какая тепловая машина является наиболее эффективной по КПД?

Газовая турбина

Паровая турбина

Тепловая машина Карно

Дизельный двигатель

№ 10 Тепло всегда передается в направлении:

в обоих направлениях

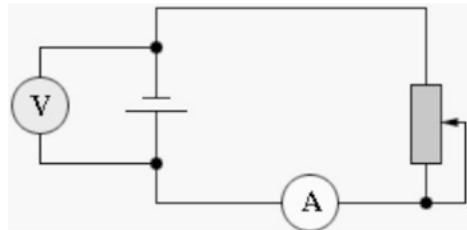
тепло передать невозможно

от большей температуры к меньшей

от меньшей температуры к большей

№ 11

В цепи, изображенной на рисунке, ползунок реостата перемещают вверх. Как изменились показания амперметра и вольтметра?



Выберите один ответ:

Показания амперметра уменьшились, вольтметра увеличились

Показания обоих приборов увеличились.

Показания амперметра увеличились, вольтметра уменьшились.

Показания обоих приборов уменьшились.

№ 12

Сила тока - это заряд, прошедший через [1] сечение проводника в единицу [2], является интегральной количественной характеристикой электрического тока.

Единицей измерения силы тока в системе СИ является [3].


1. продольное/поперечное

2. пространства/объема/времени

3. Кулон/Ампер/Фарад/Вольт

№ 13

Соотнесите элементы на картинке с их названием



1. конденсатор

2. катушка индуктивности

3. резистор

№ 14

Какая характеристика конденсатора является основной

емкость

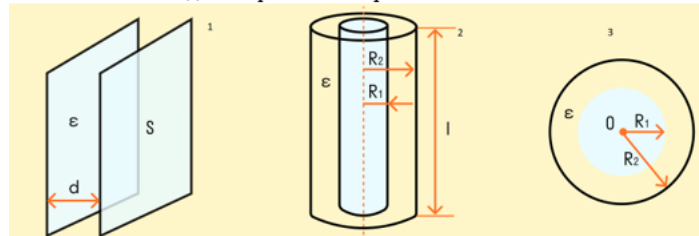
сила тока

ЭДС

скорость носителей зарядов

№ 15

Соотнесите тип конденсатора с его изображением



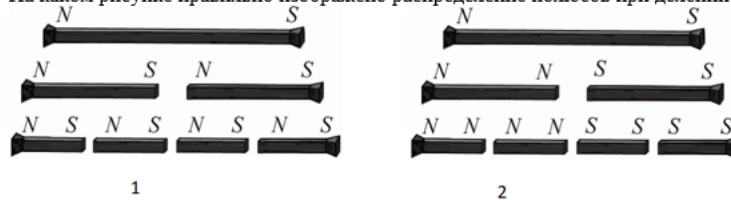
1. плоский
2. сферический
3. цилиндрический

№ 16 Какое из утверждений правильно описывает поведение магнитов:

1. Одноименные полюса притягиваются друг к другу, а разноименные полюса отталкиваются
2. Однополюсные отталкиваются, а разноименные притягиваются
3. Ни один из вышеперечисленных
4. Как одинаковые, так и разные полюса могут притягиваться и отталкиваться друг от друга в зависимости от окружающих материалов

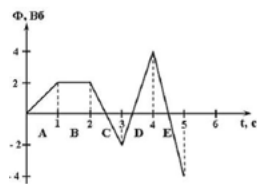
№ 17

На каком рисунке правильно изображено распределение полюсов при делении магнита на части



№ 18

На рисунке представлена зависимость магнитного потока, пронизывающего некоторый замкнутый контур, от времени. На каком интервале не возникает ЭДС индукции в контуре?



№ 19 Какова траектория заряженной частицы, влетевшей в однородное магнитное поле под углом 30° к его линиям индукции?

1. Прямая
2. Парабола,
3. Окружность
4. Винтовая линия

№ 20 Ток силы 3А протекает по контуру с индуктивностью ____, если поток магнитной индукции, пронизывающий плоскость контура, равен 0,015 Вб?

1. 5 Гн
2. 0.045 Гн
3. 0.5 Гн
4. 5 мГн

№ 21

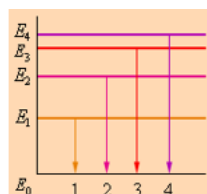
Определить длину волны, отвечающую максимуму испускательной способности абсолютно черного тела при температуре 500 К. Постоянная в законе смещения Вина $b = 2.9 \cdot 10^{-3} \text{ м} \cdot \text{К}$. Ответ дать в мкм и округлить до десятых

1. 1450 мкм
2. 5,8 мкм
3. 172,4 мкм
4. 0,6 мкм

№ 22 Волна – изменение состояния (возмущение) среды или поля, распространяющееся в пространстве и переносящее

1. Вещество
2. Энергию
3. Материю
4. Массу

№ 23



На рисунке представлена диаграмма энергетических уровней атома. Какой цифрой обозначен переход с излучением фотона максимальной частоты?

№ 24

Ниже приведены соотношения, позволяющие найти величин энергетической светимости:

$$R^* = \sigma T^4 \quad (1)$$

$$R = a\sigma T^4 \quad (2)$$

где σ – постоянная Стефана-Больцмана.

Для каких тел предназначены эти соотношения:

(1) – ?

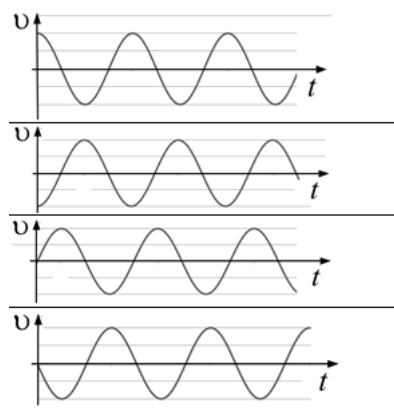
(2) – ?

№ 25

Уравнение колебаний имеет вид

$$x = A \sin(\omega t + \alpha).$$

Какой из приведенных графиков представляет зависимость скорости от времени, при условии, что $\alpha = 0$?



№ 26

Волна частотой 4 Гц распространяется по шнуру со скоростью 8 м/с. Определить длину волны.

2 м

1 м

16 м

32 м

№ 27

Если источник монохроматического излучения, освещающий металлическую поверхность, заменить мощным лазерным источником той же длины волны:

возрастет ток насыщения

красная граница фотоэффекта сместится в область коротких длин волн

красная граница фотоэффекта сместится в длинноволновую область

никаких изменений не произойдет

№ 28

Солнце садится за горизонт и отражается в озере. При этом:

угол падения лучей на поверхность озера и угол отражения увеличиваются

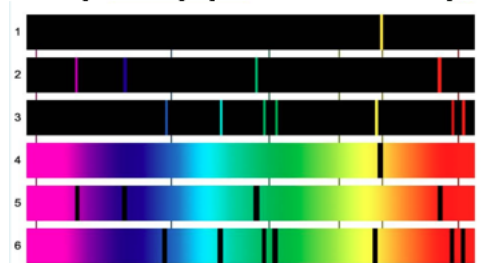
угол падения лучей на поверхность озера увеличивается, а угол отражения уменьшается

угол падения лучей на поверхность озера и угол отражения уменьшаются

угол падения лучей на поверхность озера уменьшается, а угол отражения увеличивается

№ 29

Рассмотрите спектры различных веществ. Выберите все спектры испускания.



Если в жидкой или газообразной среде приемник волны неподвижен, но движется источник волн. Если источник приближается, то частота волн, воспринимаемых приемником относительно частоты колебаний, генерируемых источником.

Увеличивается

Уменьшается

Не изменяется